

2019—2020 学年度下期期末综合测评

一年级数学

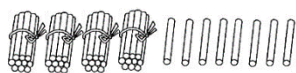
题号	一	二	三	四	五	六	七	全卷总分
得分								

一、看谁算得准。(20 分)

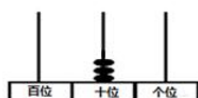
$50 + 30 =$	$12 - 4 =$	$17 + 44 =$	$16 - 9 =$
$73 - 33 =$	$15 - 7 =$	$94 - 8 =$	$6 + 54 =$
$28 + 59 =$	$87 - 70 =$	$80 - 46 =$	$36 - 18 =$
$32 + 62 =$	$27 + 4 =$	$65 - 27 =$	$19 + 81 =$
$100 - 6 =$	$35 + 21 =$	$100 - 30 - 20 =$	$20 + 42 - 29 =$

二、想一想，填一填。(共 30 分)

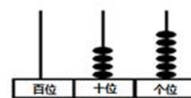
1. 看图写数。



()



()



()

2. 一个数从右边起，第一位是()位，第二位是()位，第三位是()位。9 个十和 5 个一组成()，它比 100 少()个一。

3. () 个一和 () 个十组成 58。

4. 十位和个位上都是 6，这个数是()。

5. 63 比 40 多()；比 80 多 20 的数是()。

6. 在○里填上“>”“<”或“=”。

$69 \bigcirc 71$ $36 \bigcirc 40 - 4$ $34 + 45 \bigcirc 25 + 53$ 八个十 \bigcirc 九个一

7. □里可以填几？

$\square + 12 = 25$

$\square - 44 = 48$

$52 - \square > 51$

8. 画一画、填一填

$89 - 30 = \square$



9. 找规律接着写，接着画。

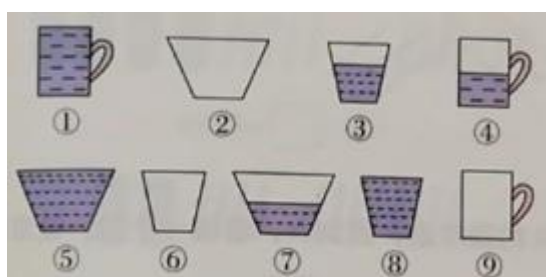
(1) 41, 39, 37, () , ()。

(2) ○ △ △ ○ △ △ _____

(3)  _____

10. 我的前面有 8 个人，后面有 12 个人，这一排共有 () 个人。

三、下面是一些盛水容器，请按要求分一分（将序号写在下面方框里）。（6 分）



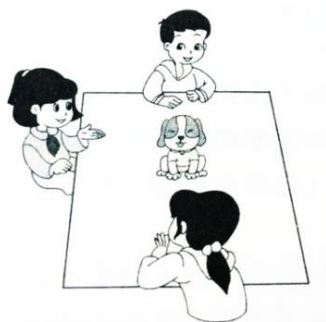
(1) 按容器形状分

--	--	--

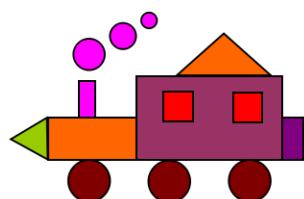
(2) 按盛水多少分

--	--	--

四、看一看、连一连。（3 分）



五、数一数。（4 分）



长方形	正方形	三角形	圆
() 个	() 个	() 个	() 个

六、用竖式计算。(12 分)

$4 + 56 =$

$63 - 25 =$


$61 + 39 =$

$100 - 23 =$

七、解决问题。(25 分)

1. 估一估、填一填。

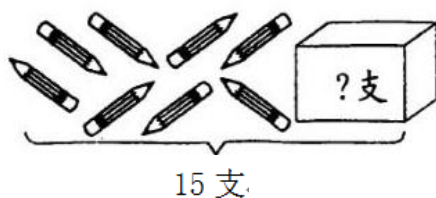
张红跳了 38 下



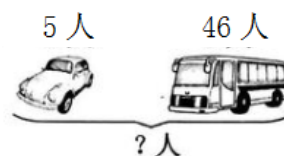
男孩可能跳了多少下（画“0”），女孩可能跳了多少下（画“√”）

26	49	85

2. 看图列式



$\square \bigcirc \square = \square ()$



$\square \bigcirc \square = \square ()$

3. 小亮今年多少岁？



$$\square \bigcirc \square = \square \quad (\quad)$$

答：小亮今年____岁。

4. 买玩具



13 元



25 元



46 元




39 元

(1)  比  便宜多少元？

$$\square \bigcirc \square = \square \quad (\quad)$$

答： 比  便宜____元。

(2) 笑笑有 28 元，想买一个 ，还差多少元？

$$\square \bigcirc \square = \square \quad (\quad)$$

答：还差____元。

(3) 买哪两种玩具花得钱最少？最少需要多少元？

$$\square \bigcirc \square = \square \quad (\quad)$$

答：买____和____花的钱最少，最少需要____元。

(4) 你能提出一个数学问题并解答吗？

提问：_____

列式：
$$\square \bigcirc \square = \square \quad (\quad)$$

答：_____。