

一年级上册第 12 周周末练习

班级_____ 姓名_____

一、计算。

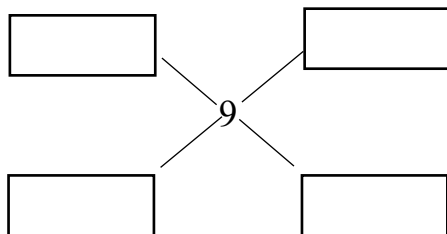
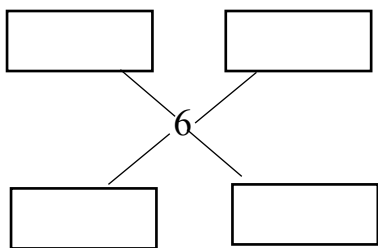
1、口算。

$$\begin{array}{ccccc} 4+1= & 10-7= & 5+2= & 2+3= & 8-4= \\ 7-2= & 1+6= & 7+2= & 9-3= & 10-6= \\ 4+3+2= & 7-3+2= & 5+3-2= & 10-3+3= & \end{array}$$

2、在○里填上“>”、“<”或“=”。

$$\begin{array}{ccc} 10-6 \bigcirc 6+3 & 10-4 \bigcirc 7 & 4+6 \bigcirc 6+4 \\ 9+0 \bigcirc 9-3 & 7 \bigcirc 5+2+3 & 6-3+5 \bigcirc 9 \\ 3+5 \bigcirc 9-1 & 8-3 \bigcirc 7-2 & 7+2-6 \bigcirc 8-6 \end{array}$$

3、看得数，写出相应的算式(加法减法各 2 个)



4、□里最大能填几？

$$\square + 5 < 10 \qquad 9 - \square > 3 \qquad \square - 6 < 5$$

5、□里最小能填几？


$$\square + 6 > 8 \qquad 10 - \square < 4 \qquad \square - 3 > 2$$

二、简答题。

1、与 8 相邻的数是 () 和 (), 4 后面一个数是 ()。

2、() 比 6 多 4, 比 () 少 5 的数是 5。

3、看图写算式。

(1)  $\square + \square = \square$ $\square - \square = \square$
 $\square + \square = \square$ $\square - \square = \square$

(2) 一共有 9 个萝卜。



列算式：_____

(3) 现在有多少只天鹅？



列算式：_____

4、排队。(用○代表人，小红用●表示，画一画你就知道啦！)

(1) 小朋友们排成一列，小红前面有 4 人，后面有 3 人，这列一共 () 人。

画图：_____ 列式：_____


(2) 小朋友排成一列，从前数小红排第 5 个，从后数排第 4，这列一共 () 人。

画图：_____ 列式：_____

(3) 小朋友排成一行，从左数小红排第 5，从右数也排第 5，这行一共 () 人。

画图：_____ 列式：_____

三、解决问题。



1、树上还剩几只鸟？

$$\square \bigcirc \square = \square$$

2、一共有多少只小狗？

$$\square \bigcirc \square = \square$$

3、提出两个数学问题，并列式解决。

问题 1：_____？ 算式：_____

问题 2：_____？ 算式：_____