

# 棠外附小一年级练习题

班级\_\_\_\_\_姓名\_\_\_\_\_

## 一、计算，直接写得数。(20 分)

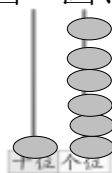
$11-5=$	$9+7=$	$13-4=$	$8+8=$	$60-20+10=$
$20+30=$	$70-50=$	$24+11=$	$45+12=$	$7+6+4=$
$27-24=$	$46+43=$	$30+8=$	$55-15=$	$80+20-50=$
$15-9=$	$21+36=$	$75-50=$	$56+30=$	$17-9+9=$

## 二、填空小能手。(34 分)

1、数一数、圈一圈、画一画、填一填。



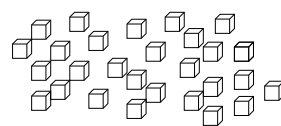
(      )



(      )



( 42 )



(      )

2、78里面有(    )个一和(    )个十；(    )个十和(    )个一组成59.

3、10个一是(    )，10个十是(    )，100里面有(    )一。

4、一个两位数的个位是9，十位比个位少3，这个数是(    )，与它相邻的两个数分别是(    )和(    )；

5、3 比 12 少(    )，16 比(    )多 9。

6、一捆铅笔有 10 枝，3 捆再加上 6 枝一共是(    )枝。

7、一个数从右边起第一位是(    )位，第二位是(    )位，第三位是(    )位。

8、找规律。

①37、47、57、(    )、(    )、(    )。

②○ △ ○ ▼ ○ △ ○ ▼ ○ \_\_\_\_\_ (每条线画一个)

③70、(     ) 80、(     )、(     )

9、在○ 里填上>、<或=。

$21+29$  ○  $29+21$

$48+4$  ○  $48-4$

$60-5$  ○  $60-4$


$14-5$  ○  $18-5$

$25+8$  ○  $26+8$

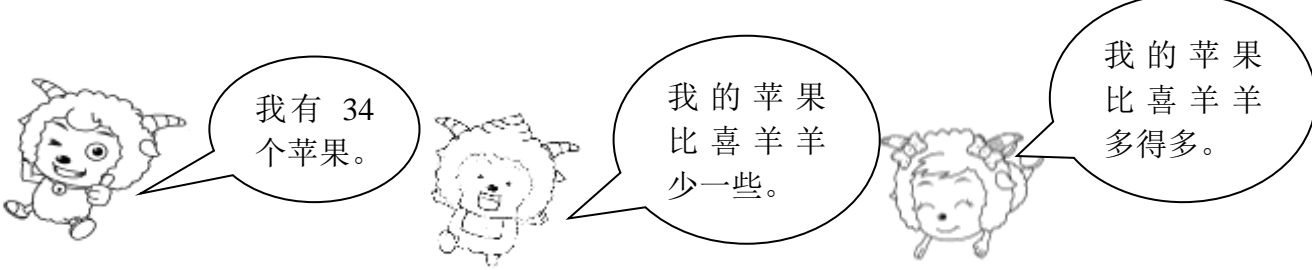
$15-8$  ○  $16-9$

三、想一想，画一画。(6 分)

请在点子图上画一个长方形，一个正方形，一个三角形。



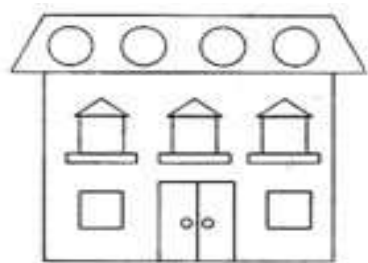
四、想一想，选择合适的数。(4 分)



懒羊羊可能有多少个苹果？（画“√”）美羊羊可能有多少个苹果？（画“○”）


23	35	90	54

五、数一数，填一填。（6分）

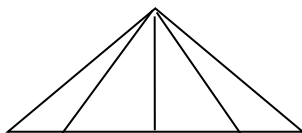


三角形有（      ）个      正方形有（      ）个

长方形有（      ）个      圆有（      ）个

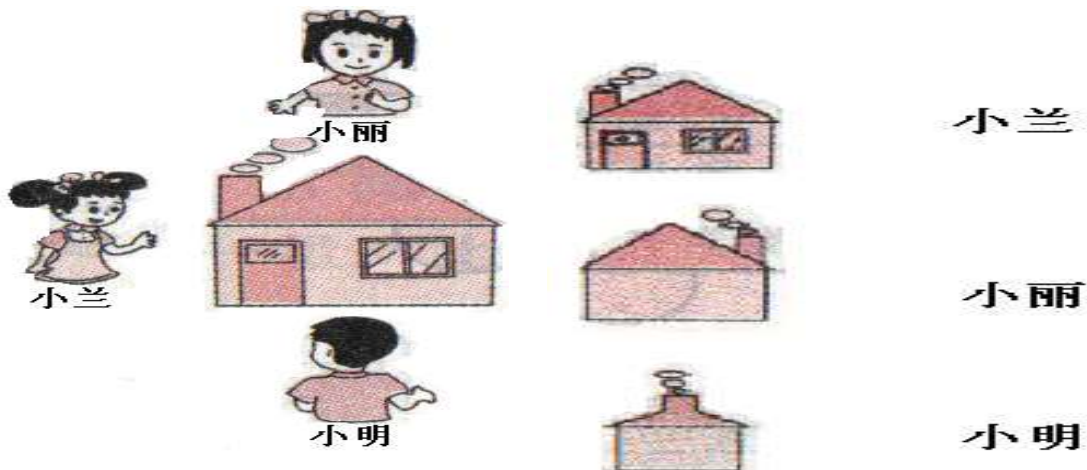


长方形有（    ）个



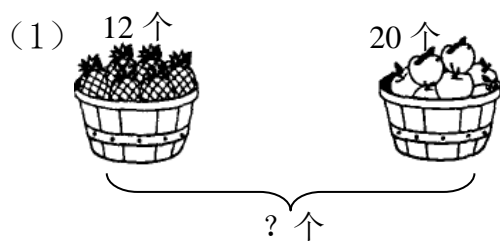
三角形有（    ）个

六、看一看，连一连。（6分）



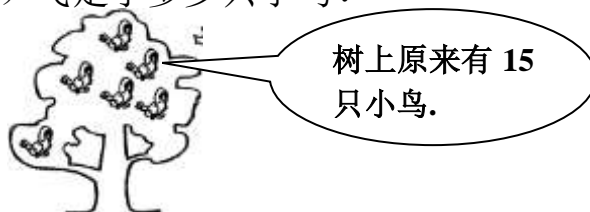
七、解决问题。（24分）

1、看图列式。



$$\square \bigcirc \square = \square ( )$$

(2) 飞走了多少只小鸟？



$$\square \bigcirc \square = \square ( )$$

2、




35 元

小明有 22 元钱，买一个书包够吗？（够 ☐ 不够 ☐）（画  $\checkmark$ ）

如果不够，还差多少元？

$$\square \bigcirc \square = \square \quad ( \quad )$$

3、



小花      小白      小黑

(1) 小白钓了多少条鱼？

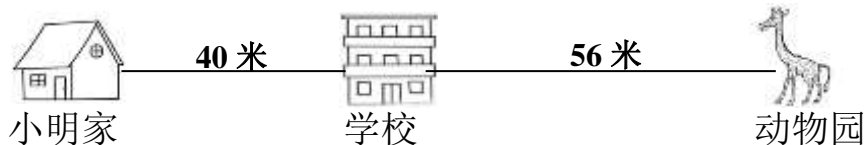
$$\square \bigcirc \square = \square \quad ( \quad )$$

(2) 请你再提一个问题，并解答。

提问：\_\_\_\_\_？

$$\square \bigcirc \square = \square \quad ( \quad )$$

4、



小明要从家出发，经过学校去动物园，去的时候要走多少米？

5、停车场开走了 13 辆小汽车，现在还有 35 辆，停车场原来有多少辆小汽车？