

# 《美丽的田园》

姓名：\_\_\_\_\_

一、  比  少几个？



$$\square \bigcirc \square = \square \text{ (个)}$$


二、谁看的多？多几页？




$$\square \bigcirc \square = \square \text{ (页)}$$

答：\_\_\_\_\_看得多，多\_\_\_\_\_页。



三、动物乐园。



1、有  $\square$  只 ,  $\square$  只 ,  $\square$  只 .

2、  比  多  $\square$  只。

答：  比  多\_\_\_\_\_只。

3、下面列算式解决的是什么问题？

$$12 - 8 = \square \text{ (只)} \quad \text{解决的问题是：_____}$$

4、再提出一个数学问题，并尝试解答。

问题：\_\_\_\_\_

$$\square \bigcirc \square = \square$$

四、我会思考。

琪琪和妈妈一共摘了 17 个苹果，\_\_\_\_\_, 琪琪摘了几个苹果？（填序号）

- ①琪琪送给阳阳 7 个      ②妈妈摘了 8 个

$$\square \bigcirc \square = \square \text{ (个)}$$

答：琪琪摘了\_\_\_\_\_个苹果。