

第 11 周周末练习

班级_____姓名_____

一、计算。

$76-16 = \quad 25+30 = \quad 28-20 = \quad 45+24 = \quad 65+23 =$

$84-4 = \quad 40+21 = \quad 19+80 = \quad 56+3 = \quad 56-30 =$

$32+63 = \quad 68-16 = \quad 51+17 = \quad 100-70 = \quad 24+72 =$

$32+6-30 = \quad 86+4-4 = \quad 55+5-10 = \quad 60+6-15 =$

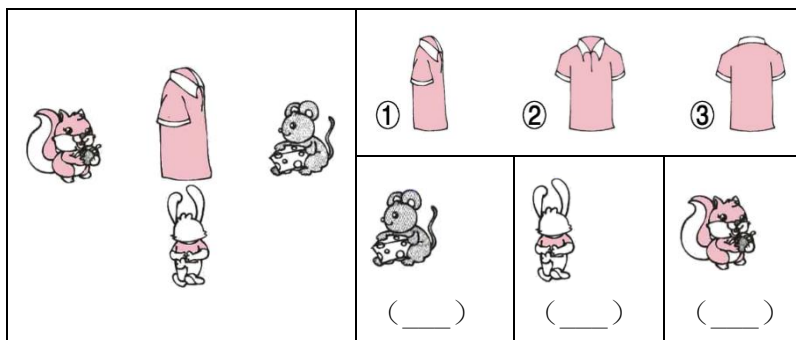
二、列竖式计算。

$38+51= \quad 68-63= \quad 86-25= \quad 55+4= \quad 87-17=$

三、填空。

1. 比 35 多 23 的数是(), 比 35 少 4 的数是(), 70 比()少 5.

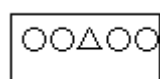
2. 小动物们看到的分别是哪幅图?



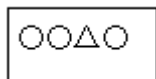
3. 一个数减去 25 是 54, 这个数是(), 一个数加上 15 是 58, 这个数是()。

4. 一个两位数个位是 6, 个位上的数字比十位上的数字少 2, 这个两位数是()。

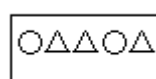
5. 用○表示 10，用△表示 1，比 30 小的数是哪个？画“√”



()



()



()

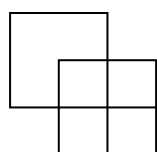
6. 按照规律画出 4 个图形。




7. 淘气在计算 50 减去一个整十数时，不小心把减号看成加号，结果得 80，正确的结果是_____。

8. 小东今年 6 岁，妈妈今年 36 岁，4 年后妈妈比小东大（ ）岁。

四、数一数。



() 个正方形



() 个长方形

五、画一画，算一算。

(1) □比△少 6 个。



(2) △比□多 2 个。



$$\square \bigcirc \square = \square$$

$$\square \bigcirc \square = \square$$

六、看图列算式。

1. 鸽： 6 只
鸭：
? 只

$$\square \bigcirc \square = \square$$

苹果： 59 个
梨： 32 个
? 个

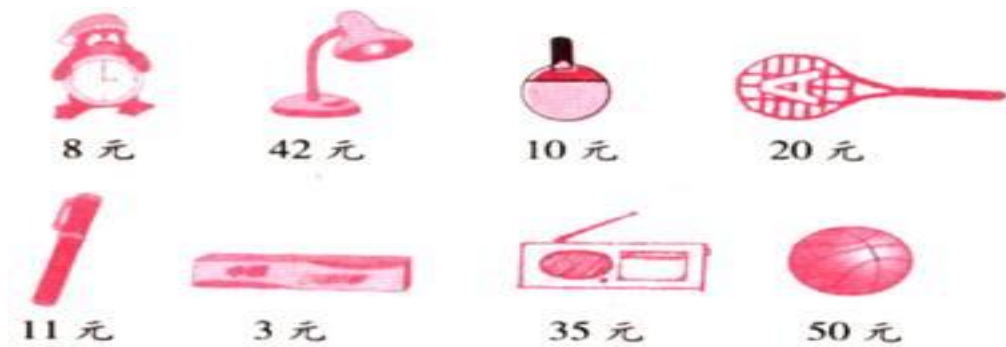
$$\square \bigcirc \square = \square$$

七、解决问题。

1. 妈妈买一条裤子 32 元，买了一件衬衣比裤子贵 5 元。买这套衣服共多少元？


2. 小明有 24 个苹果，比小红多 10 个，小红有多少个苹果？

3. 周末妈妈去买菜，用去 16 元后还剩下 10 元，妈妈原来有多少元？



4. (1) 买一个台灯和一个乒乓球拍一共需要多少元？

(2) 买一支钢笔和一个闹钟，付了 20 元，应找回多少元？



(1) 大象的身高是多少厘米？

$$\square \bigcirc \square = \square$$

答：大象的身高是____厘米。

(2) 小熊猫的身高是多少厘米？

$$\square \bigcirc \square = \square$$

答：小熊猫的身高是____厘米。

(3) 请你再提出一个数学问题并解答。

_____ ?

$$\square \bigcirc \square = \square$$

八、爱思考，动动脑。

1. 把一根木头锯成 5 段，需要锯()次，如果每锯一次要 2 分钟，一共要锯()分钟。

2. 小红有 15 本书，小东有 5 本书，小红给小东()本书，两个人的书就同样多？（画图试一试）

3. 根据所给算式，推算出每个图形或汉字各代表哪一个数？

$$\begin{array}{r} \square \quad 6 \\ + \quad 2 \quad \star \\ \hline 9 \quad 8 \end{array}$$

$\square = (\quad)$ $\star = (\quad)$

$$\begin{array}{r} 8 \quad \text{学} \\ - \quad \text{习} \quad 3 \\ \hline 3 \quad 4 \end{array}$$

学 = () 习 = ()