

# 数学练习题

班级\_\_\_\_\_姓名\_\_\_\_\_学号\_\_\_\_\_

## 一、算一算



$6+9=$        $12-9=$        $13-9=$        $20-3=$        $15-9+1=$

$7+12=$        $17-8=$        $11-6=$        $16-7=$        $16-8-2=$

$8+7=$        $18-9=$        $16-7=$        $13-6=$        $17-7-3=$

$9+5=$        $12-6=$        $18-15=$        $14-8=$        $8+7-4=$

## 二、看图写数



(    ) 个十和 (    ) 个一，是 (    )    (    ) 个十和 (    ) 个一，是 (    )

## 三、接着往下数。


1、 95 , (    ) , 85 , (    ) , (    ) , 70 , (    ) , (    )

2、 41 , 43 , 45 , (    ) , (    ) , (    ) , (    )

## 四、想一想、填一填

1、58 是一个 (    ) 位数，5 在 (    ) 位，表示 (    ) 个 (    )，8 在 (    ) 位，表示 (    ) 个 (    )。


2、



我的个位是2,十位是9。



我有6个十4个一。



我正好有10个十。



我的个位和十位的数字相同。

3、用 2、6、9 可以组成哪些不同的两位数 ( )。

4、用“多一些”、“多得多”、“少一些”、“少得多”、“差不多”填空。

26          47          49          62


(1)、26 比 62 ( )                      (2)、47 和 49 ( )

(3)、62 比 49 ( )                      (4)、47 比 62 ( )

(5)、我喜欢的数是( ), 它比 49( ), 比 26( )。

## 五、解决问题.

1、



懒羊羊可能有多少个? (画“√”) 美羊羊可能有多少个? (画“○”)


28	38	90	54

2、停车场开走了 8 辆小汽车, 现在还有 11 辆, 停车场原来有多少辆小汽车?

$$\square \bigcirc \square = \square \text{ (辆)}$$

答: 停车场原来有\_\_\_\_辆小汽车。

3、



(1) 羊有多少只?

算式: \_\_\_\_\_ (只)

(2) 再提出一个数学问题并解答。

问题: \_\_\_\_\_?

算式: \_\_\_\_\_ (只)