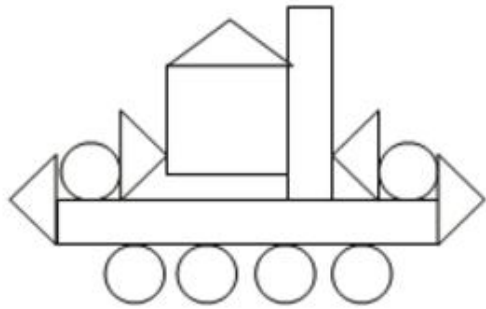


数学练习题

班级：_____ 姓名：_____

一、填空题

1. 数一数，填一填。



正方形有()个，
长方形有()个，
圆有()个，
三角形有()个。

2. 与 90 相邻的两个数是()和()；十个十个地数，50 前面的第一个数是()，50 后面的第一个数是()。

3. 写出 3 个个位上的数比十位上的数大 2 的两位数：()，()，()。

4. 根据百数表填一填。


37	38	
	48	
		59

21		
		33


	45	
54		56

5. () 个十是 70，再添上 () 个十和 () 个一就是 83。
6. 一个两位数，个位上是 4，十位上的数比个位上的数大 3，这个数是 ()。
7. 十位上是 8 的最大两位数是()，个位上是 5 的最大的两位数是()。

二、在点子图上画出一个长方形、一个正方形、一个三角形。




三、连线题。下面的图形分别是谁看到的？连一连。



四、解决问题。

1.  我们男生一共 30 人
合唱队一共有 50 人，
女生有多少人？
 $\square \bigcirc \square = \square$ ()

2. 光明路两旁各种 30 棵树，

这条路上一共有多少棵树？
 $\square \bigcirc \square = \square$ ()

3.  24 个球，我们借走了 4 个，
还剩几个球？
 $\square \bigcirc \square = \square$ ()

五、动脑筋

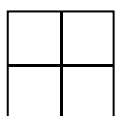
1. 括号里最大能填几？


$76 > () + 70$


$6 + () < 19$

$20 + 25 > ()$

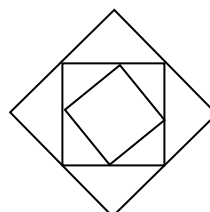
2. 数图形。



有 () 个 



有 () 



有 () ，() 