

第六单元学业质量评估卷

等级: _____

(时间: 60 分钟 满分: 100 分 +10 分)

一、算一算。(24 分)

1. 直接写出得数。(12 分)

$27+30=$

$40+37=$

$60-7=$

$41-8=$

$98-8=$

$73-8=$

$96-33=$

$4+28=$

$68+3=$

$32+30=$

$25+4=$

$43+7=$

2. 用竖式计算。(12 分)

$4+39=$

$51-6=$

$45-18=$

$64-46=$

$55+29=$

$100-57=$

二、填一填。(第 2 题 3 分, 第 5 题 6 分, 其他每空 1 分, 共 21 分)

1. 比 67 少 15 的数是 (), 65 比 23 多 ()。

2. 看图算一算。

$36+6=$ \square , 先算 $\square \bigcirc \square = \square$,



再算 $\square \bigcirc \square = \square$ 。

3. 在 \square 里填上合适的数。

$42+\square=51$

$\square-6=71$

$82-\square=70$

$\square+11=100$

一数下:



扫描全能王 创建

4. 在 \bigcirc 里填上 “ $>$ ” “ $<$ ” 或 “ $=$ ”。

$69+8 \bigcirc 82-3 \quad 46+16 \bigcirc 64+18 \quad 58+29 \bigcirc 58-29$

$90-52 \bigcirc 80-42 \quad 73-26 \bigcirc 73-29 \quad 50-21 \bigcirc 29+8$

5. 阿东不小心把订报刊的记录表弄脏了, 请根据表中的信息填一填。

(1) 一班一共订了 ()

份报刊。

(2) 二班订了 () 份


《儿童报》。

(3) 三班订了 () 份《小故事》。

	一班	二班	三班
《儿童报》	25	■	32
《小故事》	39	38	■ 4
合计	■	77	66

三、小兰套圈套中两个, 共得 43 分, 套中的可能是哪两个? 写出两组。

(6 分)



$\square \bigcirc \square = \square \text{ (分)}$

$\square \bigcirc \square = \square \text{ (分)}$

四、先算一算, 再把得数排一排。(8 分)



_____ < _____ < _____ < _____

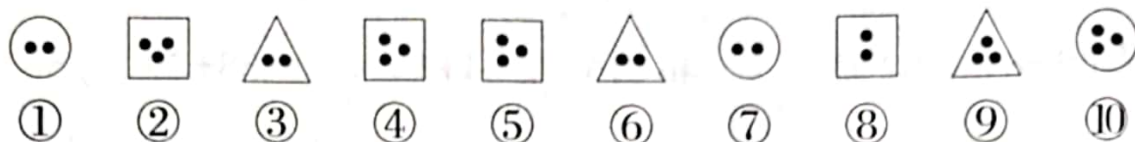
五、填一填。(8 分)

1. 每个空格只能填 4, 5, 6 中的一个, 且每一横行、每一竖行的数字不能重复。(3 分)

		6
6		
		5



2. 分扣子。(填序号)(5分)



分成两类: _____

分成三类: _____

六、解决问题。(33分)

1. 买一个大蛋糕需要多少元钱?(4分)
- $\square \bigcirc \square = \square$ (元)
- 答: 需要 \square 元钱。

2. 一年级有 75 人去参加“我爱祖国”朗诵会, 租了两辆客车。能全部坐下吗?(画“√”)(4分)

$\square \bigcirc \square = \square$ (人) \square 人 \bigcirc \square 人

能 \square 不能 \square



3. 小西出生时, 妈妈多少岁?(4分)

$\square \bigcirc \square = \square$ (岁)

答: 妈妈 \square 岁。



4. 笑笑有 100 张邮票, 淘气比笑笑少 15 张, 晶晶比淘气多 9 张。(8分)

(1) 淘气有多少张邮票?

$\square \bigcirc \square = \square$ (张)

答: 淘气有 \square 张邮票。

(2) 晶晶有多少张邮票?

$\square \bigcirc \square = \square$ (张)

答: 晶晶有 \square 张邮票。



5. (13分)





18元



26元




35元

(1) 淘气买了一架  和一个 ，用了多少元？(4分)

$$\square \bigcirc \square = \square \text{ (元)}$$

答：用了 \square 元。

(2) 笑笑买了一个 ，付了100元，应找回多少元？(4分)

$$\square \bigcirc \square = \square \text{ (元)}$$

答：应找回 \square 元。

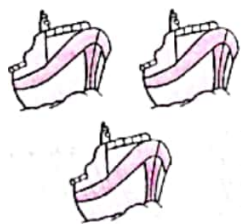
(3) 小红拿了50元钱买了其中的一样玩具，售货员阿姨找给她32元钱，猜猜她买了哪一样玩具？花了多少元？(5分)

$$\square \bigcirc \square = \square \text{ (元)}$$

答：买了 _____，花了 _____ 元。

附加题。(选做，另加10分)

每条船最多能坐70人，哪两个班的人数刚好可以坐一条船？



一(1)班	一(2)班	一(3)班	二(1)班	二(2)班	二(3)班
39人	43人	31人	27人	40人	30人

