

# 专项复习评估卷三

等级: \_\_\_\_\_

(数与代数3)

(时间: 60 分钟 满分: 100 分)

学号

姓名

班级

学校

## 一、算一算。(16 分)

$4+8=$

$40-8=$

$53-9=$

$62+9=$

$91-2=$

$23-8=$

$16-7=$

$28-9=$

$24-5=$

$47-9=$

$30-4=$

$5+86=$

$40-9=$

$52+8=$

$16+9=$

$72-8=$

## 二、填一填。(第 1 题 2 分, 第 4 题 6 分, 其他每空 1 分, 共 20 分)

1. 口算  $45-8=?$  我这样想: 可以先算  $\square \bigcirc \square = \square$ , 再算  $\square \bigcirc \square = \square$ 。

2. 比 68 多 19 的数是 ( ); 37 比 62 少 ( )。

3. 在  $\bigcirc$  里填上 “ $>$ ” “ $<$ ” 或 “ $=$ ”。

$36-9 \bigcirc 30$

$90+8 \bigcirc 90-8$

$90-11 \bigcirc 86-6$

$50+8 \bigcirc 62-5$

$55-5 \bigcirc 41+8$

$40-6 \bigcirc 43-8$

4. 在  $\square$  里填写计算过程和得数。

$$\begin{array}{r} 24 \\ \square \square \\ + 9 \\ \hline \square \end{array}$$

$$\begin{array}{r} 57 \\ \square \square \\ - 9 \\ \hline \square \end{array}$$

$$\begin{array}{r} 57 \\ \square \square \\ + 9 \\ \hline \square \end{array}$$

5. 括号里最大能填几?

$46+ ( ) < 52$

$46- ( ) > 38$

$( ) - 26 < 10$

$( ) + 38 < 45$

一数



扫描全能王 创建

### 三、选一选。(将正确答案的序号填在括号里)(6分)

1. 小美买了36支彩笔, \_\_\_\_\_, 还剩几支? 缺少的信息是( )。

- ①又买了6支彩笔      ②用了5块橡皮      ③分给小敏6支


2. 欢欢在计算  $\square\square-7$  时, 将减号看成了加号, 结果得42, 那么正确的计算结果应该是( )。


- ①28      ②35      ③49

3. 爸爸今年41岁, 小明今年8岁, 5年后爸爸和小明相差( )岁。


- ①33      ②38      ③28

### 四、把结果相同的算式连起来。(8分)


  $15-6$


  $71+6$


  $92-9$

  $34+6$


  $28+2$


  $39-30$


  $35+5$


  $68-9$

  $30+30$


  $24+6$


  $29+6$

  $91-8$

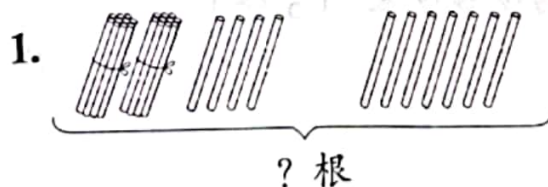
  $85-8$

  $80-20$

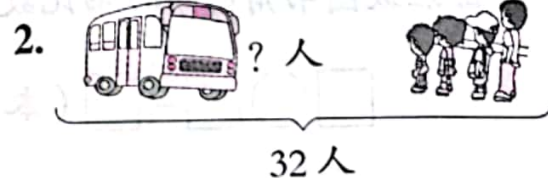
  $63-4$

  $44-9$

### 五、看图列式计算。(8分)

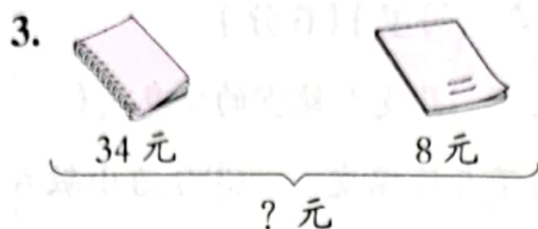


$\square \bigcirc \square = \square$  (根)

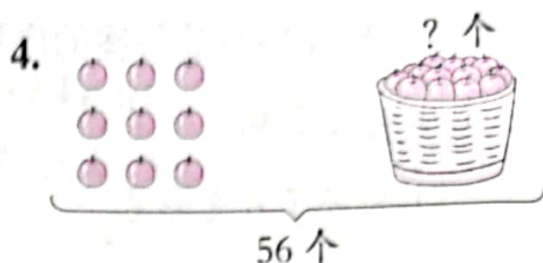


$\square \bigcirc \square = \square$  (人)





$$\square \bigcirc \square = \square \text{ (元)}$$



$$\square \bigcirc \square = \square \text{ (个)}$$

六、(5分) 有 39 个学生，  
12 个老师。



每人一瓶矿泉水，  
55 瓶够吗？

$$\square \bigcirc \square = \square \text{ (个)} \quad \underline{\hspace{2cm}} < \underline{\hspace{2cm}}$$

答：每人一瓶矿泉水，( 够 不够 ) (把正确的答案圈起来)

七、



班级图书角有科技书  
9 本，故事书 38 本。

借出了 20 本连环画。



1. 班级图书角的科技书和故事书一共有多少本？(4分)

$$\square \bigcirc \square = \square \text{ (本)}$$

答：科技书和故事书一共有  $\square$  本。


2. 班级图书角的科技书比故事书少多少本？(5分)

$$\square \bigcirc \square = \square \text{ (本)}$$

答：科技书比故事书少  $\square$  本。



、(23分)



7元



15元





28元




45元

1. 一个  和一盏  共多少元?(4分)

$$\square \bigcirc \square = \square (\text{元})$$

答: 一个  和一盏  共  $\square$  元。

2. 大生有 50 元, 正好可以买哪三件? 圈一圈。(3分)

3. 大明有 20 元, 最多可以买 ( ) 个 。(3分)

4. 小军的钱正好买一个 , 他最多有 ( ) 张 10 元。(3分)

5. 至少要花多少元, 才能买到两样不同的商品?(5分)

$$\square \bigcirc \square = \square (\text{元})$$

答: 至少要花  $\square$  元, 才能买到两样不同的商品。

6. 请你提出一个数学问题并解答。(5分)

提问: \_\_\_\_\_

算式: \_\_\_\_\_ (元)

、车上原来有 18 人, 上车 5 人, 其中 3 人是男生, 车上现在有几?

(5分)

$$\square \bigcirc \square = \square (\text{人})$$

答: 车上现在有  $\square$  人。

