

棠外附小第 15 周练习单

班级_____ 姓名_____ 家长签字_____

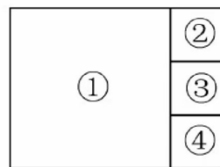
一、填空。

1. 长方形的对边_____，四个角都是_____角。正方形的四条边_____，四个角都是_____角。

2. 用手拉动一个长方形框架的对角，这个框架就变成一个()。

3. 在长 18 厘米，宽 12 厘米的长方形纸上，折出一个最大的正方形，正方形的边长是()厘米。

4. 如右图所示，在一张长方形纸上剪下一个最大的正方形①，剩下的长方形刚好可以分成 3 个一样大的正方形②、③、④，其边长为 1 厘米，原来长方形纸的长为()厘米，宽为()厘米。



5. 6 个千、4 个一组成的数是_____，10 个一百是_____。

6. 5 的 9 倍是_____，63 是_____的 7 倍。

7. ……照这样的规律排列下去，第 25 个是_____。

8. 学校有 18 盆黄菊花，22 盆白菊花，把这些放到教室里平均每个教室放 5 盆，可以放()个教室？

9. 按规律填数： 1358，1360，_____，_____，1366，1369

二、选择题。

1. 一个数减 1 就得最大的三位数，这个数是()

A. 1000

B. 10000

C. 999

2. 看图，最大的角是。()



3. 三角形是()。



4. 下面哪个数最接近 600？()

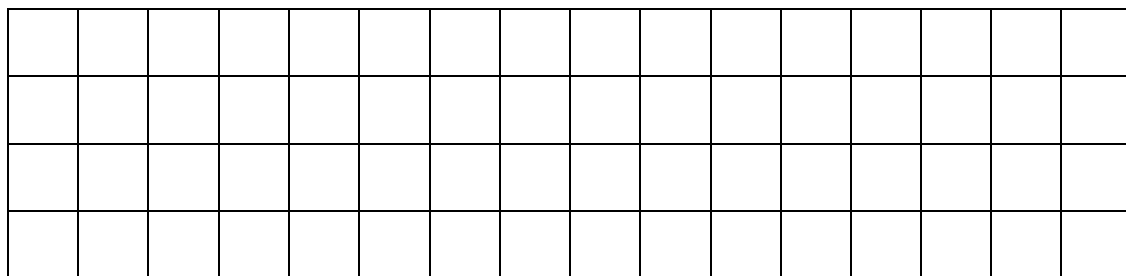
A. 546

B. 405

C. 603

D. 678

三、在方格纸中分别画出一个长方形、正方形、平行四边形。



三、列式计算并验算。

四、列式计算并验算。

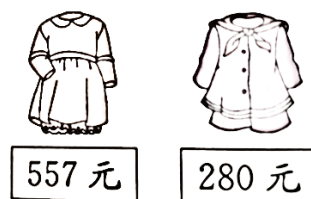
(1) $39+35=$ (2) $278-244=$ (3) $610-298=$ (4) $803+145=$

五、生活中的数学。

1. 三年级两个班的同学组织在公园划船，三(一)班有 45 人，三(二)班有 44 人，如果每条船最多只能坐 8 人，两个班的同学至少租几条船？

2. 把 18 只小鸟平均分到 4 个房子里，每个房子能住几只小鸟？还剩几只小鸟？

3. 小红的妈妈带了 900 元买衣服，买完下面这两件衣服还剩多少元？



4. 学校图书馆有科技书 500 本，上午借出了 156 本，下午借出了 187 本，还剩多少本？

思维拓展：

1. 一瓶饮料，喝了一半后连瓶重 295 克，瓶子重 40 克，这瓶饮料连瓶共重多少克？

2. 在方框里填上合适的数。

$$\begin{array}{r} 9 \quad \square \quad 4 \\ - 5 \quad 4 \quad \square \\ \hline 3 \quad 5 \quad 9 \end{array}$$

$$\begin{array}{r} \square \quad 6 \quad \square \\ + 3 \quad \square \quad 8 \\ \hline 6 \quad 6 \quad 3 \end{array}$$