



棠外附小二二年级第五周周末练习题

班级_____姓名_____

一、计算。

$34 \div 7 =$

$38 + 45 =$

$23 \div 8 =$

$13 \times 2 =$

$100 - 55 =$

$65 \div 8 =$

$52 \div 7 =$

$21 + 7 =$

$100 \div 50 =$

$45 \div 6 =$

$(\quad) \div 6 = 7 \cdots 2$

$53 \div (\quad) = 7 \cdots 4$

$(\quad) \div 3 = 9 \cdots 1$

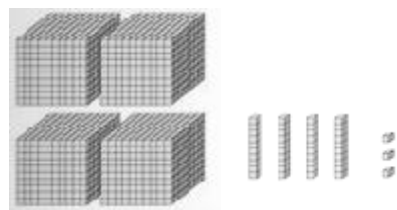
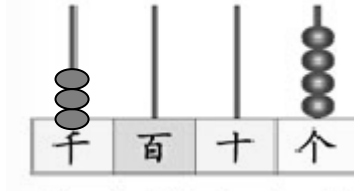
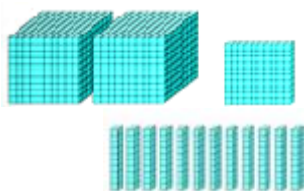
$49 \div (\quad) = 5 \cdots 4$

二、我会填。

1、10个一是()，10个十是()，10个一百是()，10个一千是()。

2、数位顺序表中，从右边起，第一位是()位，第()位是百位，第四位是()，第()位是万位。

3、看图写数。



4、一个两位数除以7有余数，余数可能是()

5、 $(\quad) \div (\quad) = 8 \cdots 6$ ，在这道算式中，除数最小是()；当除数最小时，被除数是()。

6、45个苹果，每6个装一盒，至少需要()盒子才能装完。

7、按规律数数。

(1) 一万、九千九百、九千八百、_____、_____、_____。

(2) 1795、1796、1797、_____、_____、_____、_____。

(3) 7885、7985、_____、_____、_____、_____、_____。

8、一个四位数，十位上是8，千位数字比十位少3，百位数字比千位少1，其余数位是0。这个数是()。

三、解决问题。

1、刘老师 and 45 名同学去玩碰碰车，每辆碰碰车限乘5人，至少要租多少辆车才能让大家一起玩？

2、王老师给同学们买铅笔作奖品，一支铅笔6角钱，王老师用5元钱最多能买到几支铅笔？

四、智慧屋。

1、有一列数 201920192019……，第30个数字是几？

2、小明在计数器上拨了一个四位数，一共用了10颗珠子，你知道这个四位数可能是多少吗？(至少写4个)