

## 生活中的大数

### 复习题】

1、用自己喜欢的方式把下面三个数表示出来。

长江：约 6300 千米

黄河：约 5464 千米

京杭大运河：约 1747 千米

读作：\_\_\_\_\_

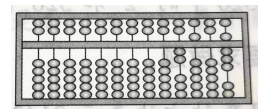
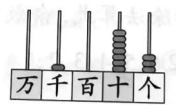

读作：\_\_\_\_\_

读作：\_\_\_\_\_

2、把长江、黄河、京杭大运河、沱江的长度按一定的顺序排列。

### 过关题】

1、写一写，读一读



写作：\_\_\_\_\_

写作：\_\_\_\_\_

写作：\_\_\_\_\_

读作：\_\_\_\_\_

读作：\_\_\_\_\_

读作：\_\_\_\_\_

2、10 个百是 ( )；5400 里面有 ( ) 个百；5400 里面有 ( ) 个十；3 个千、

3 个百和 3 个一组成的数是 ( )；一个数由 4 个万，5 个十组成，它是 ( )。

3、2023 是 ( ) 位数，它的最高位是 ( )。左边的 2 在 ( ) 位上，表示 ( )

个 ( )，右边的 2 在 ( ) 位，表示 ( )。与它相邻的两个数分别是 ( )

和 ( )。

4、用 4、0、6、7 组成的最大四位数是 ( )，最小四位数是 ( )。能读出零的最

大四位数是 ( )，不读出零的最小四位数是 ( )，最接近 4000 的是 ( )。

5、一个三位数，个位上的数字是百位上的 2 倍，十位上的数字是百位上的 3 倍，这个三位数

可能是 ( )。

6、 $32\square < 321$  填 ( )  $\square 027 > 6927$  最小填 ( )  $3526 > \square 611$  最大填 ( )

7、(1) 7705, \_\_\_\_\_, 7505, 7405, \_\_\_\_\_ (2) 466, 476, 486, \_\_\_\_\_, \_\_\_\_\_

8、判断。

(1) 读数和写数都是从最高位开始。( ) (2) 与 5100 相邻的数是 5000 和 5200。( )

(2) 8009 读作八千零零九。( ) (4) 四位数不一定比三位数大。( )

(5) 4320 中的“2”和 520 中的“2”表示的意义一样。

9、在数线上用△标出 3627，用▲标出 2250。

