

棠外附小一年级数学每周小练（13）

班级：

姓名：

学号：

一、仔细算一算。

$7-2=$

$8-3=$

$9-3=$

$3+5=$

$6+2=$

$6+()=8$

$3-()=2$

$8-()=4$

$5+()=5$

$9-()=3$

$4+4=3+()$

$1+()=2+7$

$2+()=4+3$

$2+2=9-()$

二、在○里填上>、<或=。

$9-1 \bigcirc 8-2$

$8 \bigcirc 5+4$

$3+5 \bigcirc 4+4$

$8 \bigcirc 1+6$

$5 \bigcirc 8-3$

$7-6 \bigcirc 5-3$

$8+0 \bigcirc 8-0$

$7 \bigcirc 2+6$

$9-6 \bigcirc 2+5$

$9-1 \bigcirc 8+1$

三、算一算，把算式按得数从大到小排列。

$9-7$

$3+5$

$8-2$

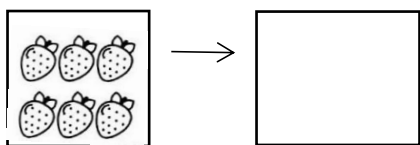
$4+3$

$9-8$

_____ > _____ > _____ > _____ > _____

四、看图列式。

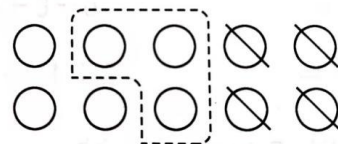
1、



$\square \bigcirc \square = \square$




$\square \bigcirc \square = \square$



$\square \bigcirc \square \bigcirc \square = \square$

? 个



$\square \bigcirc \square = \square$

2、排队买票，小雪前面有3人，后面有5人，一共有几人排队？

画图理解：

_____ $\square \bigcirc \square \bigcirc \square = \square$