

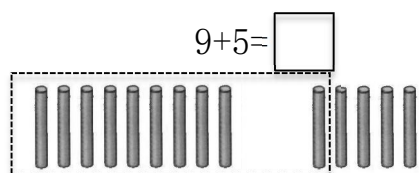
# 棠外附小一年级数学第 16 周练习题

班级\_\_\_\_\_ 姓名\_\_\_\_\_

1、直接写得数。

$19-4=$	$15+2=$	$16+3=$	$18+2=$	$8+9=$
$17+3=$	$17-2=$	$18-5=$	$9+10=$	$7+6=$
$10+2+4=$	$16-3+5=$	$18-4-2=$	$15+3-4=$	$4+9=$

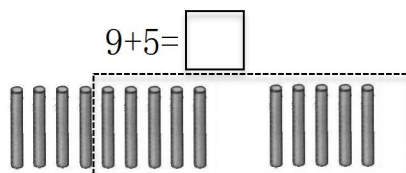
2、算一算。



$9+5=\square$

先算\_\_\_\_\_

再算\_\_\_\_\_

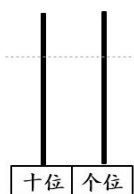


$9+5=\square$

先算\_\_\_\_\_

再算\_\_\_\_\_

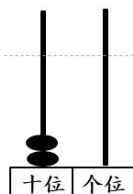
3、画一画，写一写。



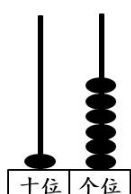
1 7



1 0



( )



( )



( )

4、一个数由 1 个十，5 个一组成，这个数是 ( )。

5、一个数的个位是 8，十位是 1，这个数是 ( )。

6、比 19 多 1 的数 ( )，比 20 少 1 的数是 ( )。

7、

19	17					
----	----	--	--	--	--	--

6	8		12			
---	---	--	----	--	--	--

8、在  里填上合适的数。

$8+\square=16$

$17-\square=12$

$\square+11=15$

$\square+9>13$

$\square-9>7$

$19-\square<10$

9、无论从前数，还是从后数，笑笑都排在第 7 个，这队共有 ( ) 人。