

数学练习题

班级_____姓名_____

一、直接写出得数。

$26+10+50 =$

$25+30+25 =$

$88-28-10 =$

$40-20-9 =$

$81-20-18 =$

$56-30-20 =$

$66-20-40 =$

$25+33-16 =$

$30+52-9 =$

$77-40+13 =$

二、填一填。

1、人民币的单位有（ ）、（ ）、（ ）。

2、 $5+5+5$ 表示（ ）个（ ）相加， $3+3+3+3+3$ 表示（ ）个（ ）相加。

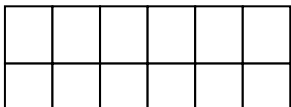
3、1张1元可以换成（ ）张2角，也可以换成（ ）张5角。

1张50元可以换成（ ）张20元和（ ）张10元。

1张10元可以换成（ ）张2元和（ ）张1元。



4、2角 =（ ）分 10分 =（ ）角 60角 =（ ）元 40角 =（ ）元

7角+3角 =（ ）元 3元4角+1元6角 =（ ）

5、 (1) 横着看，每行有（ ）个，有（ ）行，共有（ ）个格子，加法算式是_____

(2) 竖着看，每列有（ ）个，有（ ）列，共有（ ）个格子，加法算式是_____

6、画○表示出算式 $4+4+4=12$ 的意义。（画出两种不同的表示方法）



三、列竖式计算下列各题



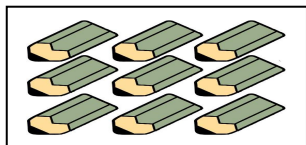
$32+49-17=$

$45+26+29=$

$85-37-28=$

$100-45+16=$

四、连一连。请你把算式与对应的图连起来。

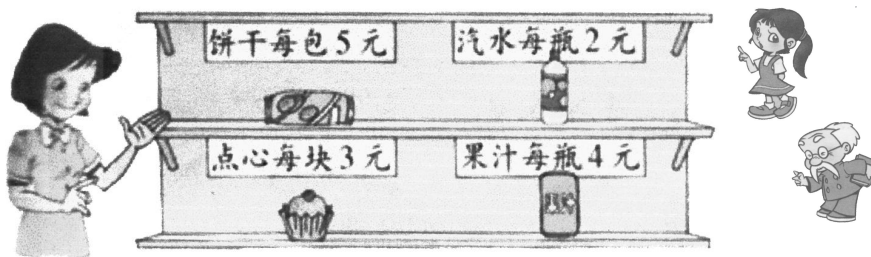


$2+2+2+2$

$3+3+3$

$3+3+3+3$

五、解决生活中的问题。



1、(1) 笑笑买 2 包饼干，需要多少钱？_____表示 () 个 () 相加。

(2) 淘气买 3 块点心，需要多少钱？_____表示 () 个 () 相加。

(3) 智慧老人买 3 瓶汽水和 1 瓶果汁一共要付多少钱？_____

2、一支牙膏 5 元 5 角，笑笑有 2 张 2 元，2 张 5 元的，3 张 1 元，3 张 5 角的，可以怎样付钱？（写出两种方法）

3、小明和小红都想买同一个文具盒，小明带的钱还差 6 元，小红带的钱还差 5 元 5 角，如果两个人把带的钱合起来，正好可以买这个文具盒。这个文具盒多少钱？

