

# 三年级上期数学第 10 周

## 知识要点与易错题练习

班级\_\_\_\_\_姓名\_\_\_\_\_家长签字\_\_\_\_\_

### 一、填空。

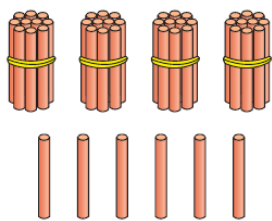
- 1、用 100 减去 75 的差除以 5，商是（ ）。
- 2、7 个 6 是（ ），再加上 25 的和是（ ），综合算式是（ ）。
- 3、三年级有 6 个班，每个班选出 24 人参加抢种抢收，三年级共有（ ）人参加比赛。
- 4、最小的三位数和最大的一位数相乘的积是（ ）。
- 5、把一根长 200 厘米的绳子，对折两次后，沿折痕剪开，每段长（ ）厘米。
- 6、妈妈准备买 5 张凳子，凳子的价格在 12~25 元之间，妈妈至少需要准备（ ）元。
- 7、一个两位数乘以一个一位数，它的积可能是（ ）位数，也可能是（ ）位数。

### 二、脱式计算。

$$287+567-678 \quad 480-480 \div 6 \quad 8 \times (402-387) \quad (44+28) \div 8$$

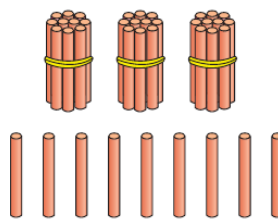
### 四、圈一圈，算一算，填一填

$$46 \div 2 =$$




$$\begin{aligned} 40 \div 2 &= \square \\ \square \div \square &= \square \\ \square + \square &= \square \end{aligned}$$

$$39 \div 3 =$$



$$\begin{aligned} \square \bigcirc \square &= \square \\ \square \bigcirc \square &= \square \\ \square \bigcirc \square &= \square \end{aligned}$$

$$15 \times 4 =$$



$$49 \times 4 =$$

×		

$$\square + \square = \square$$

### 五、解决问题。

- 1、三年级乘坐 6 辆车去参观博物馆，前面 4 辆车，每辆车乘坐 23 人，后面的 2 辆车共乘坐 102 人，三年级一共有多人去参观博物馆？

2、李阿姨新租了一个房子，她把 6 月底的电表读数拍了一张照片（如图），她又记录了每个月月底的电表读数，如下表。（单位：千瓦时）

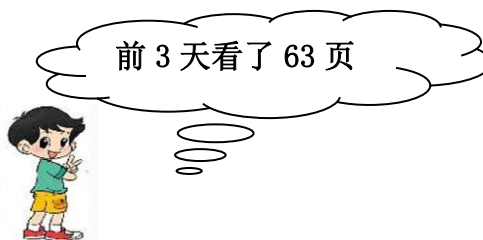


7 月底	8 月底	9 月底	10 月底	11 月底	12 月底
554	578	596	609	?	651

（1）李阿姨 7，8，9 三个月一共用电多少千瓦时？

（2）李阿姨 11 月的用电量是 22 千瓦时，11 月底的电表读数是多少千瓦时？

3. （1）淘气前 3 天平均每天看多少页？



（2）淘气买的故事书有 151 页，照这样计算，他一周能看完吗？

（3）淘气想按时看完，从第 4 天起，她平均每天需要看多少页？

## 六、推理探究。

学校买了 6 箱面包，从每箱拿出 15 个面包发给学习啦啦操的小朋友，将剩下的面包重新整理装箱子里，正好装满 3 箱，原来每箱有多少块面包？（可以画图分析）