

棠外附小三上第 5 周周末练习题

班级_____ 姓名_____ 评价_____

一、用竖式计算。

$868-303+347=$

$813-415-296=$

$987-(241+313)=$

$681-285-216=$

$233+430+316=$

$793-(128+239)=$

二、脱式计算。

$52-8\times 6$

$63\div 7-5$

$39+5\times 6$

$4\times 6\div 3$

$9\times (18-13)$

$(45-13)\div 8$

三、填空题。

1. 计算 $24+8\div 4$,应先算(),再算(),结果是()。

2. 18 与 17 的和除以 7,商是(),列综合算式是()。

3. 小马虎在计算 “ $2+\square\times 6$ ” 时,弄错了运算顺序,先算加法后算乘法了,结果得数是 54。正确的得数是()。

4. 把两个算式合并成一个算式。

$$\begin{array}{l} 39+15=54 \\ 54\div 9=6 \end{array} \quad \underline{\hspace{2cm}}$$

$$\begin{array}{l} 6\times 8=48 \\ 63-48=15 \end{array} \quad \underline{\hspace{2cm}}$$

5. 在 \bigcirc 里填上 “>” “<” 或 “=”。

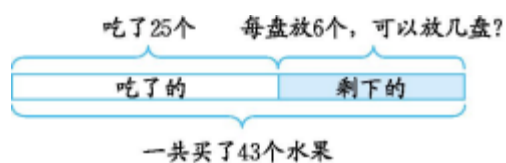
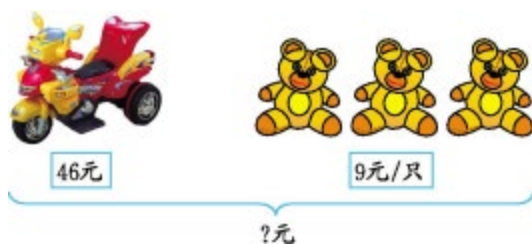
$30-15+9 \bigcirc 6\times 3+6$

$67-29-12 \bigcirc 67-(29-12)$

$7\times 9-18 \bigcirc 8\times 8-19$

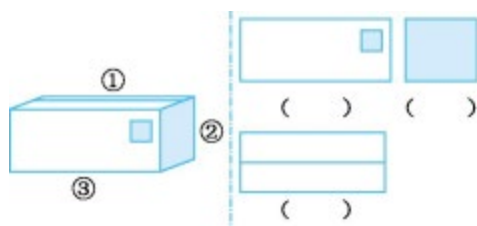
$5+35\div 5 \bigcirc (25+7)\div 4$

四、看图列式计算。



五、观察物品。

1. 下面右边的三幅图分别是哪个位置看到的？(填序号)



2. 下面这些图形分别是哪个方向看到的？



六、解决问题。

1. 花圃给花店送来了三种花一共有 300 枝，其中玫瑰有 132 枝，康乃馨有 121 枝，其余的是百合花。这次送来的百合花有多少枝？

2. 小老鼠有 268 块糖，小猫的糖比小老鼠的少 40 块，小老鼠和小猫一共有多少块糖？（先画图再列算式）

七、智慧屋。

淘气在做减法题时，把被减数十位上的 2 看成 7，减数个位上的 5 看成 8，结果得到的差是 683，正确的差是多少？