

# 双流区小学数学一年级下册单元学业闯关（一）

## 【一单元 加与减（一）      二单元 观察物体】

姓名：\_\_\_\_\_ 班级：\_\_\_\_\_ 闯关成绩：\_\_\_\_\_

【卷首语】亲爱的孩子们：数学学习不仅让我们体验到乐趣，还带给我们很多知识。今天，就让我们一起去奇妙的数学乐园里遨游，争做快乐的学习小达人吧！

### 第一关：我是计算小能手。（30 颗☆）

#### 1、口算。（16 颗☆）

$7+7 =$                        $5+9 =$                        $4+8 =$                        $12+5 =$

$12-4 =$                        $14-9 =$                        $13-9 =$                        $16-7 =$

$17+3 =$                        $14-6 =$                        $18-7 =$                        $13-8 =$

$12-3 =$                        $11-4 =$                        $13-5 =$                        $20-2 =$

#### 2、吃苹果。（9 颗☆）

$8 + \text{苹果} = 17$

$\text{苹果} - 7 = 6$

$14 - \text{苹果} = 5$

$\text{苹果} - 9 = 8$

$5 + \text{苹果} = 11$

$\text{苹果} - 8 = 8$

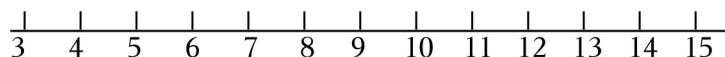
$\text{苹果} + 9 = 11$

$\text{苹果} - \text{苹果} = 10$

$3 + \text{苹果} = 12$

#### 3、用“平十法”计算 $15-9=(\quad)$ ，并在数线上画一画。（5 颗☆）

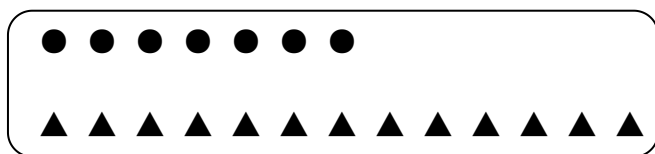
$$\begin{array}{r} 15 - 9 = \\ \begin{array}{c} \diagup \quad \diagdown \\ ( ) \quad ( ) \end{array} \\ \hline ( ) \end{array}$$



### 第二关：我是填空小专家。（21 颗☆）

1. 计算“ $15-8$ ”，可以把 8 分成  $(\quad)$  和  $(\quad)$ ，先计算  $(\quad)$ ，再计算  $(\quad)$ 。

2. 数一数，把▲比●多的圈起来，再列式算一算。



●有（ ）个，▲有（ ）个，▲比●多几个？算式是：（ ）

3. 8 比 15 少（ ），比 3 多 9 的数是（ ），14 比 6 多（ ）。

4. 写出四道得数是 8 的减法算式。

（ ） - （ ） = 8      （ ） - （ ） = 8

（ ） - （ ） = 8      （ ） - （ ） = 8

5. 在○里填上“>”、“<”或“=”。

$5+3 \bigcirc 12-4$

$15-8 \bigcirc 16-9$

$19-7 \bigcirc 6+6$

$14-5 \bigcirc 13-5$

$12-4 \bigcirc 12-5$

$7+6 \bigcirc 5+8$

### 第三关：我是选择小能手。（10 颗☆）

1. 与算式  $15 - 3$  的结果相等的式子是（ ）

A.  $6+5$

B.  $4+8$

C.  $6+7$

D.  $2+9$

2. 小红做了 15 只千纸鹤，小青做了 8 只千纸鹤，小青还要做（ ）只千纸鹤就和小红同样多。

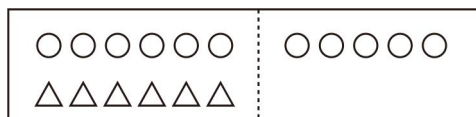
A. 7

B. 8

C. 23

D. 9

3. 根据如图，小明列的算式  $11 - 6 = 5$  表示的是（ ）




A. △的个数

B. ○比△多的个数

C. ○的个数

D. ○比△少的个数

4. 用 11 根同样长的小棒摆一个 ，还剩（ ）根小棒。

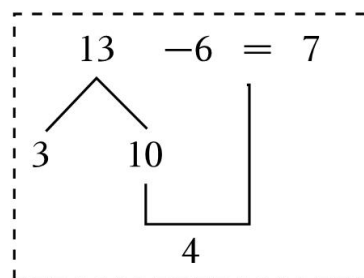
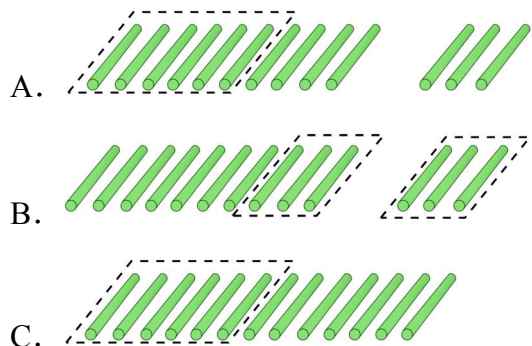
A. 5

B. 6

C. 7


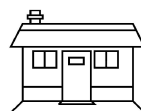

D. 8

5. 聪聪在计算  $13 - 6$  时，是按照方框中的方法计算的，下列小棒图中与聪聪的计算过程一样的是（ ）

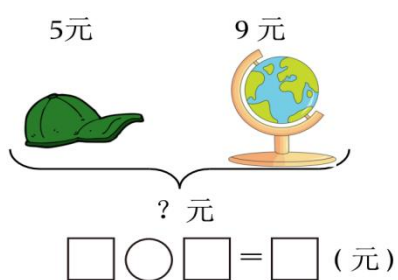
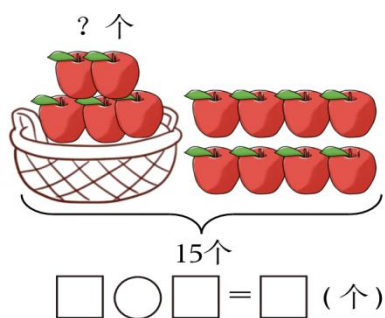


#### 第四关：我是实践小能手。（14 颗☆）

1. 观察图片，小动物们看到的分别是什么？（用线连一连）（6 颗☆）



2. 看图写算式。（8 颗☆）



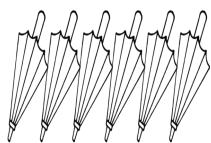
#### 第五关：我是解决问题小高手。（15 颗☆）

- 1、停车场原来有 18 辆车，开走了 9 辆，还剩几辆？

$\square \bigcirc \square = \square$  (辆)

答：还剩\_\_\_\_辆。

2、下雨了，教室里有 14 位同学，每人 1 把雨伞，还差几把？



$$\square \bigcirc \square = \square \text{ (把)}$$

答：还差\_\_\_\_把。

3、妈妈在微信上抢红包，第一次抢了 8 元，第二次抢了 15 元，妈妈第一次比第二次少抢多少元？

$$\square \bigcirc \square = \square \text{ (元)}$$

答：妈妈第一次比第二次少抢\_\_\_\_元。

4、体育课上，三个小朋友投沙包。

(1) 小红比小强少 3 次，小红投了多少次？

$$\square \bigcirc \square = \square \text{ (次)}$$



答：小红投了\_\_\_\_次。

(2) 小刚投的次数不是最多，也不是最少，他可能投了 ( ) 次。

### 【卷尾语】

亲爱的宝贝，遨游数学乐园的活动结束啦，快来给自己的表现评评星吧！

认真听老师读题：☆☆☆☆☆

认真思考答题：☆☆☆☆☆

书写整洁美观：☆☆☆☆☆

## 双流区小学数学一年级下册单元学业闯关（二）

### 【三单元 生活中的数      四单元 有趣的图形】

姓名：\_\_\_\_\_ 班级：\_\_\_\_\_ 闯关成绩：\_\_\_\_\_

【卷首语】亲爱的孩子们：数学学习不仅让我们体验到乐趣，还带给我们很多知识。今天，就让我们一起去奇妙的数学乐园里遨游，争做快乐的学习小达人吧！书写整洁美观：

#### 第一关、计算大闯关。（★值：18）

1. 口算。

$7+8 = \quad 9+9 = \quad 6+8 = \quad 12+6 =$

$12-5 = \quad 16-7 = \quad 17-9 = \quad 16-8 =$

$16+4 = \quad 15-6 = \quad 19-7 = \quad 13-4 =$

2. 吃苹果。

$7 + \text{苹果} = 16$

$\text{苹果} - 8 = 6$

$13 - \text{苹果} = 5$

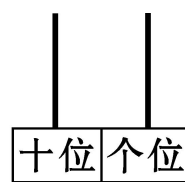
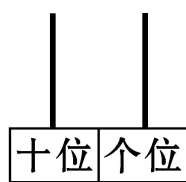
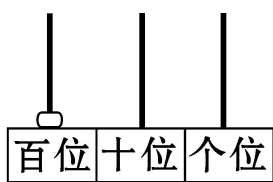
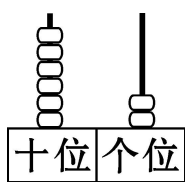
$\text{苹果} - 8 = 6$

$4 + \text{苹果} = 11$

$\text{苹果} - 8 = 9$

#### 第二关、填空大闯关。（★值：39）

1. 填一填，画一画。



写作：(        )      写作：(        )      3      4      6      0

读作：(        )      读作：(        )

2. 计数器上，从右边数起，第一位有 6 颗珠子，第二位有 4 颗珠子，这个数是 (        )。

3. “55” 这个数，左边的“5”在 (        ) 位上，表示 (    ) 个 (    )；右边的“5”在 (        ) 位上，表示 (    ) 个 (    )。

4. 75 由 (    ) 个十和 (    ) 个一组成，4 个一和 6 个十合起来是 (        )，10 个一是 (    )，20 里面有 (    ) 个十，(    ) 个十是 100。

5. 在○里填上“<”、“>”或“=”，在□里填上适当的数。

$99 \bigcirc 100$

$22 \bigcirc 33$

$\square < 30$

$89 < \square$

$68 \bigcirc 86$

$10 \text{ 个十 } \bigcirc 1 \text{ 个百}$

$39 \text{ 个一 } \bigcirc 4 \text{ 个十}$

6. 99 的前面一个数的（ ），后面一个数是（ ）。

7. 把 90 ， 17 ， 0 ， 69 ， 100 ， 32 从小到大排列。

$( ) < ( ) < ( ) < ( ) < ( ) < ( )$

8. 接着数。

(1) 87、88、（ ）、（ ）、（ ）

(2) 48、46、44、（ ）、40、（ ）、（ ）

(3) 90，85，（ ），（ ），70，（ ）

(4) 23，（ ），43，（ ），（ ），73

9. 最大的两位数是（ ），最小的两位数是（ ），最小的三位数（ ）。

10. 个位是 5 的所有两位数有（ ）。

### 第三关、选择大闯关。（★值：20）

1. 一个一个地数，数到 99，再往下数一个数是（ ）

A. 90

B. 98 C. 100

2. 88 里面有（ ）个一。

A. 8

B. 80 C. 88

3. 在 60 和 70 之间，且个位和十位上的数相同的数是（ ）

A. 55

B. 66 C. 77 D. 88

4. 一个两位数，个位上是 3，十位上的数字比个位上的大 5，这个数是（ ）

A. 53

B. 83 C. 38

5. 用 3 个●分别放在十位和个位可以表示（ ）个不同的数。

A. 3

B. 4 C. 5

6. 比 79 少得多的数是（ ）

A. 23

B. 60 C. 70

7. 草莓 80 个。苹果可能有（ ）个。

A. 25

B. 70

C. 85



8. 一套七巧板有（ ）个三角形。

A. 3

B. 4      C. 5

9. 教室黑板的表面是 ( )

A. 圆形

B. 长方形 C. 三角形

10. 2019 年是澳门回归 20 周年，一（1）班有 38 人去澳门旅游，坐（ ）个座位的比较合适（不考虑行李）。




A. 20

B. 50      C. 40

#### 第四关、操作大闯关。(★ 值: 8)

1. 在下面的钉子上画一个长方形，一个正方形，两个不同的三角形。






### 第五关、综合大闯关。(★ 值: 15)

1、小红做 16 朵纸花，小明做 9 朵，小明比小红少做几朵？

$\square \bigcirc \square = \square$  (朵)

答：小明比小红少做\_\_\_\_\_朵。

2、

		
15	10	7

如果吃掉 9 个苹果还剩下多少个苹果?

$$\square \bigcirc \square = \square \text{ (个)}$$

答：还剩下  个苹果。

# 双流区小学数学一年级下册单元学业闯关（三）

## 【五单元 加与减（二） 数学好玩儿】

姓名：\_\_\_\_\_ 班级：\_\_\_\_\_ 闯关成绩：\_\_\_\_\_

【卷首语】亲爱的孩子们：数学学习不仅让我们体验到乐趣，还带给我们很多知识。今天，就让我们一起去奇妙的数学乐园里遨游，争做快乐的学习小达人吧！

### 一、计算。

#### 1. 口算（★值：12）

$75-40=$

$32+7=$

$26+60=$

$58-6=$

$28-7=$

$79-30=$

$88-5=$

$30+23=$

$65+20=$

$78-52=$

$63+36=$

$30+18=$

#### 2. 用竖式计算（★值：8）

$76+22=$

$35+44=$

$78-50=$

$42-2=$

### 二、填空。（★值：40）

1. 在  $96-24=72$  中，被减数是（ ），减数是（ ），差是（ ）。

2. 3 个一加上 4 个十是（ ），10 个十是（ ）。

3. 计算  $68-5$ ，先计算（ ）-（ ）=（ ），再计算（ ）+（ ）=（ ）。

4. 40 比（ ）少 57，86 比（ ）多 26；比 49 少 13 的数是（ ），比 33 多 20 的数是（ ）。

5. 两个数的和是 78，其中一个加数是 6，另一个加数是（ ）。

6. 在○里填上“>”“<”或“=”

$99-10 \bigcirc 82+17$

$75-14 \bigcirc 90-40$

$39+20 \bigcirc 80-30$

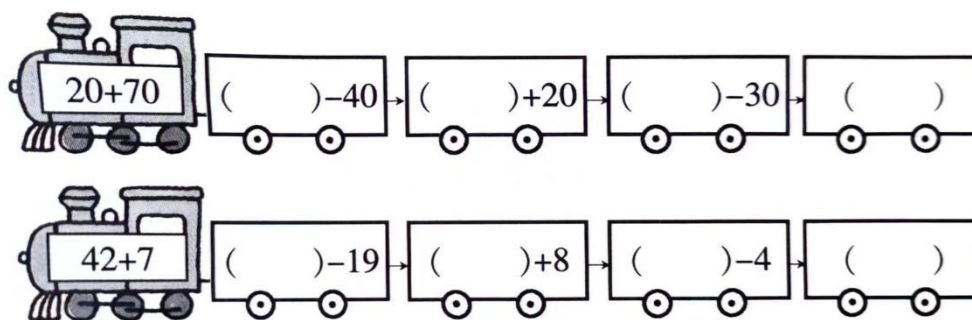
$16+10 \bigcirc 19-4$

$22+24 \bigcirc 67-20$

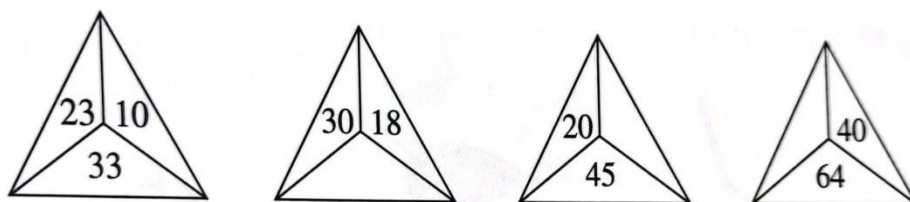
$78-52 \bigcirc 13+13$

7. 开火车，填得数





8. 找规律，填数。



9. 每朵花代表几？

$$36 + \text{花} = 79$$

$$\text{花} - 63 = 12 + 11$$

$$54 + 30 = \text{花} + 43$$

$$\text{花} - 24 < 15$$

$$33 + \text{花} < 26 + 40$$

$$89 - 71 > \text{花} + 17$$

10. 小东今年 10 岁，妈妈比他大 25 岁，当小东 14 岁时，妈妈（ ）岁。

### 三、选择题（★值：10）

1. 得数比 60 大的算式为（ ）

A.  $69-9$

B.  $69-10$

C.  $69-8$

D.  $48+12$

2. 下面的算式中，5 和 2 可以直接相加的算式为（ ）

A.  $32+5$

B.  $32+50$

C.  $23+5$

D.  $23+15$

3. 下面的算式中，得数为 36 的是（ ）

A.  $51-14$

B.  $56-20$

C.  $21+18$

D.  $58-23$

4. 老师准备了 45 本练习本，给一（2）班的同学每人发 1 本，还少 4 本，一（2）班的学生共有（ ）

A. 41 人

B. 45 人

C. 49 人

D. 60 本

5. 树上原来有 52 只鸟, 飞走了 30 只, \_\_\_\_\_? 解答是  $52-30=22$ (只)。

横线上应补充的问题是 ( )。

- A. 一共有多少只鸟                      B. 树上原来有多少只鸟  
C. 树上还剩多少只鸟                  D. 飞走了多少只鸟

6. 一本 50 页的书, 第一天看了 21 页, 第二天应从第 ( ) 页看起。

- A. 21                      B. 29                      C. 30                      D. 22

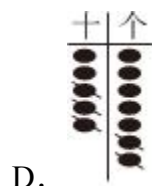
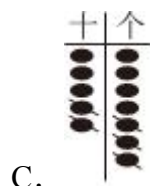
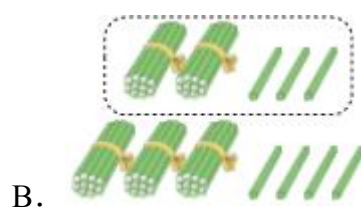
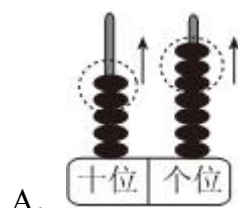
7. 爸爸今年 37 岁, 小亮今年 10 岁, 10 年后爸爸比小亮大 ( ) 岁。

- A. 27                      B. 10                      C. 47                      D. 17

8. 小明给丫丫 10 本书后, 俩人的数量同样多, 那么小明原来比丫丫多 ( ) 本书。

- A. 5                      B. 15                      C. 20                      D. 10

9. 下面不能正确表示算式  $57-23$  的是 ( )




10. 二年级小朋友们去参观科技馆, 哪两个班可以合乘这一辆车? ( )

班级	一班	二班	三班
人数	31	33	28



- A. 一班和二班    B. 一班和三班    C. 二班和三班

#### 四、分类 (★值: 10)



#### 五、解决问题 (★值: 24)

1. 二(1)班有女生 22 人, 男生比女生多 3 人。男生有多少人? (★值: 4)

$$\square \bigcirc \square = \square \text{ (本)}$$

2. 一根竹竿长 13 米, 插入水中一截后, 露在水面外的部分长 5 米, 水有多深 (★值: 4)

$$\square \bigcirc \square = \square \text{ (米)}$$

3. (★值: 7)

(1) 一本书比一个书包便宜多少钱?

$$\square \bigcirc \square = \square \text{ (元)}$$

(2) 请根据算式在横线上填出一个问题。

\_\_\_\_\_

$$20+12=32 \text{ (元)}$$

(3) 兰兰有 70 元钱, 买一个文具盒和一个书包, 够吗?

$$\square \bigcirc \square = \square \text{ (元)}$$

$$\square \bigcirc \square$$

够 ☐ 不够 ☐ (画“√”)



57元

①书包



24元

②书



12元

③文具盒



20元

④水彩笔

5. 小明离学校 62 米, 早晨上学他刚走 8 米, 就发现忘带了东西。又回家取, 他到学校时一共走了多少米? (★值: 5)

# 双流区小学数学一年级下册单元学业闯关（四）

## 【六单元 加与减（三）】

姓名：\_\_\_\_\_ 班级：\_\_\_\_\_ 闯关成绩：\_\_\_\_\_

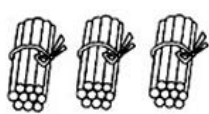
【卷首语】亲爱的孩子们：数学学习不仅让我们体验到乐趣，还带给我们很多知识。今天，就让我们一起去奇妙的数学乐园里遨游，争做快乐的学习小达人吧！

### 一、计算。（28☆）

#### 1. 口算。（12☆）

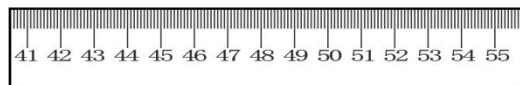

$43+6=$	$25+30=$	$27-7=$	$9+36=$
$70-8=$	$47+11=$	$15+7=$	$26-7=$
$35+65=$	$49-33=$	$86+14=$	$100-60=$

#### 2. （1）圈一圈，算一算。（2☆）



$34+8=$

#### （2）画一画，算一算。（2☆）



$54-7=$

#### 3. 列竖式计算。（12☆）

$35+9=$

$76-28=$

$34+19=$

$70-19=$

$47+28=$

$100-64=$

## 二、填一填。(30☆)

1. 一个数由 4 个一和 6 个十组成，这个数是 ( )。
2.  $37+28=(\quad)$ ，想一想： $30+(\quad)=(\quad)$ ， $(\quad)+(\quad)=15$ ， $(\quad)+15=(\quad)$ 。
3. 一个加数是 7，另一个加数是 73，和是 ( )；被减数是 82，减数是 45，差是 ( )。
4. 最大的两位数和最小的两位数的差是 ( )。
5. 52 比 26 大 ( )；8 比 40 小 ( )；48 比 9 多 ( )；30 比 ( ) 少 12。
6. 数数填空。  
①80、75、70、( )、( )、( )。  
②32、( ) 42、47、( )、( )
7. 比较大小。  
 $37+29 \bigcirc 29+37$                        $28+45 \bigcirc 99-9$   
 $59+18 \bigcirc 59-18$                        $44+7 \bigcirc 7+44$
8. 99 在 ( ) 和 ( ) 的中间。
9. 竖式计算时，要把 ( ) 对齐，从 ( ) 位算起。
10.  $\bigcirc+\square=60$ ， $\bigcirc+\square+\square=70$ ， $\square=(\quad)$ ， $\bigcirc=(\quad)$ 。

## 三、选择题(将正确答案的选项填在括号里)(10☆)

1. 得数是六十多的算式是 ( )  
A.  $4+24$                       B.  $28+35$                       C.  $38+37$
2. 已知两个数的和是 43，其中一个加数是 21，另一个加数是 ( )  
A. 22                              B. 64                              C. 21

3. 停车场原来停了 45 辆车，开走了 18 辆，还剩多少辆？列式正确的是（ ）

A.  $45+18=63$                       B.  $45-18=37$                       C.  $45-18=27$

4. 一本书原来有 100 页，已经看了 25 页，下次应从（ ）页看起走。

A. 75                                  B. 24                                  C. 26

5. 一个数减去 14 就是 70，这个数是（ ）

A. 84                                  B. 56                                  C. 66

#### 四、看图列式。(6☆)

(1)



$$\square \bigcirc \square = \square \text{ (条)}$$

(2) 飞走了多少只小鸟？



$$\square \bigcirc \square = \square \text{ (只)}$$

#### 五、应用题。(26☆)

1. (10☆)



(1) 松树和杨树一共有多少棵？

$$\square \bigcirc \square = \square \text{ (棵)}$$

答：一共有 \_\_\_\_ 棵。

(2) 杨树比柳树多多少棵？


$$\square \bigcirc \square = \square \text{ (棵)}$$

答：杨树比柳树多 \_\_\_\_ 棵。

(3) ( ) 的棵数最多，( ) 的棵数最少。(2☆)

2. 小兔子出生时，兔妈妈多少岁？（4☆）

兔妈妈今年 21 岁



兔宝宝今年 8 岁

○

=

答：小兔出生时，兔妈妈\_\_\_\_\_岁。

3. 购物。（12☆）



37 元



? 元



9 元



14 元

（1）玩具熊的价格比漫画书贵 16 元，玩具熊的价格是多少元？

$$\square \bigcirc \square = \square$$

答：玩具熊的价格是\_\_\_\_\_元。

（2）淘气带了 50 元，想买玩具汽车和漫画书，他的钱够吗？

$$\square \bigcirc \square = \square$$

答：他的钱\_\_\_\_\_（够、不够）。

（3）请你再提出一个数学问题，并列式解决。

问题：\_\_\_\_\_？

列式：\_\_\_\_\_

### 【卷尾语】

亲爱的宝贝，遨游数学乐园的活动结束啦，快来给自己的表现评评星吧！

认真听老师读题：☆☆☆☆☆

认真思考答题：☆☆☆☆☆

书写整洁美观：☆☆☆☆☆

# 双流区小学数学一年级下册单元学业闯关（五）

## 【综合练习】

姓名：\_\_\_\_\_ 班级：\_\_\_\_\_ 闯关成绩：\_\_\_\_\_

【卷首语】亲爱的孩子们：数学学习不仅让我们体验到乐趣，还带给我们很多知识。今天，就让我们一起去奇妙的数学乐园里遨游，争做快乐的学习小达人吧！

### 一、计算。（29☆）

#### 1. 口算。（10☆）

$36+41=$

$87-78=$

$13-7=$

$32+29=$

$55+16=$

$42+16=$

$28+50=$

$60-20=$

$36-9=$

$100-38=$

#### 2. 竖式计算。（12☆）

$① 18+26=$

$② 94-35=$

$③ 59+27=$

$④ 70-16=$

$⑤ 27+73=$

$⑥ 100-34=$

#### 3. 在○里填上“>”、“<”或“=”。（4☆）

$100 \bigcirc 99$

$72-47 \bigcirc 72-46$

$45+32 \bigcirc 45+23$

$48+25 \bigcirc 48-25$

#### 4. 在□里填上合适的数。（3☆）

$\square + 9 = 27$

$70 - \square = 45$

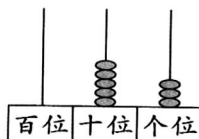
$\square - 18 = 35$

### 二、填一填。（第6题3☆，其余每空1☆。共29☆）

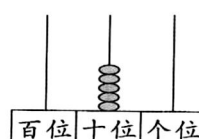
1、



( )



( )



( )



- 2、5个十和8个一合起来是（ ）。
- 3、63的3在（ ）位上，表示（ ）个（ ），  
6在（ ）位上，表示（ ）个（ ）。
- 4、与70相邻的两个数是（ ）和（ ）。
- 5、15比（ ）多8；比15多8的数是（ ）。
- 6、100里面有（ ）个10。
- 7、按规律填数。
- (1) 32、34、36、（ ）、（ ）、（ ）、44。
- (2) 100、90、（ ）、70、（ ）、（ ）。
- (3) 34、38、42、（ ）、50、（ ）。
- 8、从9、4、0中任选两个数字，组成的最大两位数是（ ），最小的两位数是（ ）。
- 9、写出所有个位数字比十位数字小1的两位数：（ ）。
- 10、最大的两位数和最小的三位数的差是（ ）。

### 三、选一选，连一连。（10☆）


#### 1、选一选（3☆）



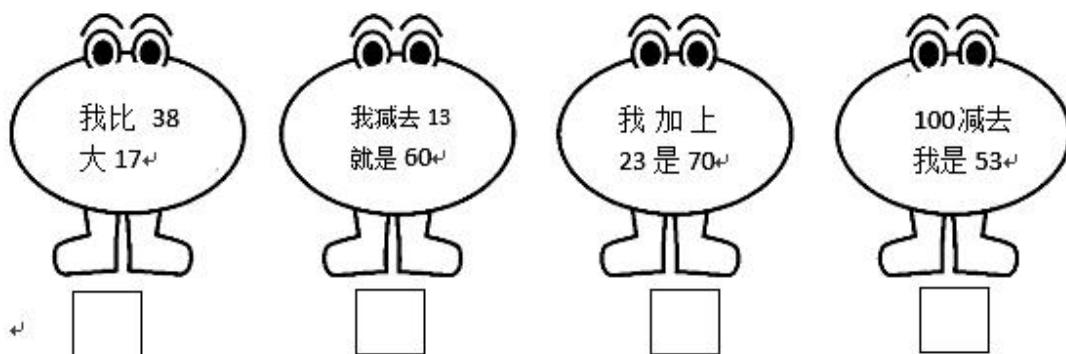
鸭子可能有多少只？（画“√”）      鹅可能有多少只？（画“△”）

8 只	100 只	70 只	31 只

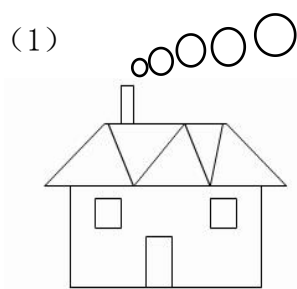
#### 2、我会连。（3☆）



3、猜猜我是谁。(4★)

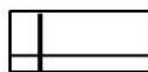
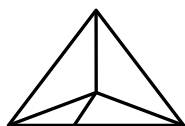


四、数一数。(8★)



□有( )个,  
 □有( )个,  
 △有( )个,  
 ○有( )个。

(2)



图中有( )个三角形。

图中有( )个长方形。

五、应用题。(第 3、5 题 6★，其余每题 4★，共 24★)

1、二班有 66 本故事书，一班比二班多 18 本故事书，一班有多少本故事书？

$$\square \bigcirc \square = \square \text{ (本) 答: 1. 1 班有 } \underline{\hspace{2cm}} \text{ 本故事书。}$$

2、兰兰有 28 张卡纸，小雪有 45 张卡纸，兰兰再收集多少张就和小雪一样多？

$$\square \bigcirc \square = \square \text{ (张) 答: 再收集 } \underline{\hspace{2cm}} \text{ 张卡纸就一样多。}$$

3、



(1) 小马和小狗一共有多少只？

$$\square \bigcirc \square = \square \text{ (只)}$$

(2) 小兔有多少只？

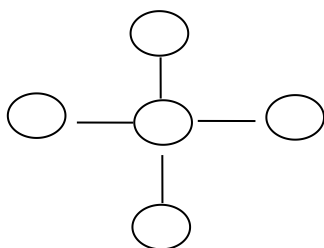
$$\square \bigcirc \square = \square \text{ (只)}$$

(3) 再提一个数学问题，并试着解答。

我的问题：\_\_\_\_\_

列式计算：\_\_\_\_\_

4、如右图，把 10, 20, 30, 40, 50 分别填在○里，使横着三个数的和与竖着三个数的和相等。



5、算年龄。



我今年 8 岁，妈妈今年 33 岁。

(1) 13 年后，笑笑多少岁？

(2) 妈妈今年的年龄比笑笑今年的年龄大多少岁？

(3) 爷爷比妈妈的年龄大得多，爷爷今年可能多少岁？在合适的年龄下面画“√”。

35 岁	42 岁	67 岁