

双流区小学数学二年级下册单元学业闯关参考答案（一）

【一单元 除法

二单元 方向与位置 】

一、口算 (12★)

8、9、6、2……2、6、36、8、5……5、8、7、7、4

二、竖式计算 (12★)

4……3、7……4、5……3、8

三、填一填 (26★)

1. 西、南 2. 19、23 3. 6 4. (圈一圈略) 3、4

5. 7、1、5、2 6. 5、4、7、8、6、6 7. ○、□

8. 北、南、东、东南、医院 (标一标略)

四、选一选 (10★)

1.A 2.B 3.B 4.D、B、A 5.B 6.A 7.B 8.B

五、连一连 (10★) (答案略)

六、解决问题 (25★)

1. $49 \div 6 = 8$ (张) ……1 (人)

$8 + 1 = 9$ (张)

答: 至少需要搬 9 张长凳。

2. (1) $37 \div 7 = 5$ (辆) ……2 (人)

$5 + 1 = 6$ (辆)

答: 至少需要 6 辆大车。

(2) $37 \div 4 = 9$ (辆) ……1 (人) $9 + 1 = 10$ (辆)

答: 至少需要 10 辆小车。

3. (1) $5 \times 8 = 40$ (元)

$40 - 32 = 8$ (元)

答：他至少还要多带 8 元。

(2) $32 \div 7 = 4$ (个) $\cdots\cdots 4$ (元)

答：最多能买 4 个,还剩 4 元。

(3) (答案略)

双流区小学数学二年级下册单元学业闯关参考答案 (二)

【三单元 生活中的大数 四单元 测量】

一、(1) 63、8、42、9、100cm/1m/10dm、32、9、64、8、8dm/80cm

(2) $7 \cdots \cdots 1$ $8 \cdots \cdots 8$ 8

二、(1) 10、10、10000; (2) 个, 5, 一, 千, 5, 千; (3) 3508,

三千五百零八, 1008; (4) 8620, 2068, 6028, (5) 3000, 70,

10、1;(6)4200,4250,7240,7540,7640;(7)2、268、6、9; (8) 9,

3, 9; (9) 1; (10) 3201、3199。

三、(1) C (2) C; (3) B; (4) C; (5) B;(6)B;(7)A; (8) C; (9)

B; (10) D。

四、(1) $2000+300+20+5=2325$;(2)略; (3) 500; (4) 6481;

(5)



五、

1、3 分米=30cm, $30 \div 5 = 6$ cm;

2、 $14+14+14=42$ (dm), $42-2-2=38$ (dm);

3、(1) 7500; (2) 5007; (3) 7500、5700; (4) 7005、5007、

7050、5070。

4、5757

5、 $4+4+1=9$ (人) $9\times 9=81$ (人)

双流区小学数学二年级下册单元学业闯关参考答案 (三)

【五单元 加与减

六单元 认识图形】

一、计算。

1.直接写出得数 (12 ☆)

1000、400、1100、6000、150、400、40、2000、400、210、600、400

2.用竖式计算。

(1) 920, 验算略 (2) 763, 验算略

(3) 805 (4) 207 (5) 325 (6) 76

二、认真填空。

1.620、206

2. $>$ 、 $=$ 、 $=$ 、

3. 530、796、430, 画图略

4. 3, 钝角, 锐角

5. 4,4, 直, 对, 4 条边

6. (1) 1270、1290、1330


(2) 7500、7300、6700

7.4

8.257、221

$$9.236+666 > 400+333 > 917-356 > 247+253$$

三、动手操作

1.数一数，说一说。(8 )

(1) 直、锐、钝、锐

(2) 3 1 4 2

四解决问题。

1. (1) 第 1 组、第 4 组、 $304-89=215$ (个) (2) $218+116=334$ (个)

(3) 第 1 组、第 2 组、 $304+218=522$ (个)、 $522-116=406$ (个)

2. $8 \div 2=4$ (厘米)

3. $374+186=560$ (米)、 $288+292=580$ (米)、 $580-560=20$ (米),

答：从图书馆经过银行到广场近，近 20 米。

4. (1) ①、④ (2) $463+37=500$ (元)

双流区小学数学二年级下册单元学业闯关参考答案（四）

【七单元 时、分、秒 数学好玩 八单元 调查与记录】

二、想一想，算一算

1. 口算

666 450 2600 700 7 45 9 75

2. 竖式计算，带▲的题要验算。

393

533

421

616

二、填一填

1. 时、分、秒；秒；1秒。

2. 12, 60, 12时；60分, 1时；60秒, 1分。

3. 1时30分。

4. 41人。

5. 60 65 1时20分 136秒 1分9秒 2分

6. (1) 秒 (2) 分 (3) 时 (4) 毫米。

7. □ ○ △

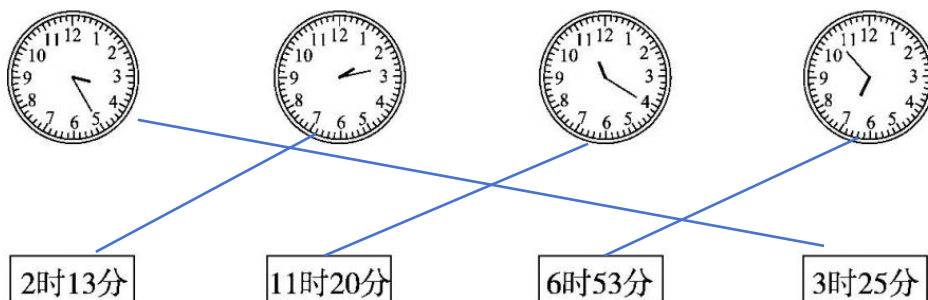
8. 30分

三、选一选

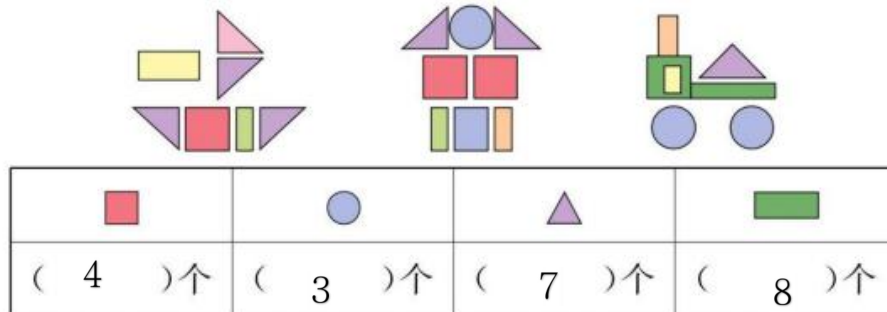
A. B B D CA B

四、动手操作

1. 连一连



2.数一数, 各有多少个?



3.仔细观察下面每个钟面,填一填, 画一画。



- (1) 第二节下课是__10__时__5__分, 第三节上课是__10__时__25__分, 课间休息了__20__分钟。
- (2) 第三节课上了 40 分钟, 画出第三节下课时钟面上的分针。

五、解决问题

(1) 1.

(⑤) > (②) > (④) > (③) > (①)

(2) 27 秒

2. 小明离起点近, 他们相差 32 米。

3. (1) 根据上面的统计, 填写下表:

名称	苹果汁	玉米汁	西瓜汁	橙汁	合计
箱数	(14) 箱	(11) 箱	(2) 箱	(5) 箱	(32) 箱

- (2) (苹果汁) 的数量最多, (西瓜汁) 的数量最少, 这两种相差 (12) 箱。
- (3) 略
- (4) 略

双流区小学数学二年级下册单元学业闯关参考答案 (五)

【综合练习】

一、计算

- 1.口算: 3……3、1000、660、5、460、555、800、5、510、200、5……1、350
- 2.竖式: 6……4 390 629 1000

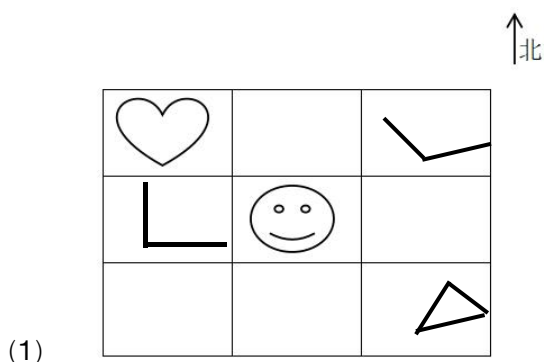
二、填空

- (1) 6300; 6 个千; 3 个百; 6299
- (2) 6
- (3) 五边形; 5 个; 3 个; 2 个
- (4) < ; = ; < ; > ; = ; >
- (5) 厘米; 分米; 千米; 米; 小时; 千米
- (6) 6; 27
- (7) 1 分 32 秒; 2 时 3 分; 5 米; 100 厘米
- (8) 6 厘米
- (9) 10
- (10) 口

三、选择

CBACB BBCAB

四、操作



西北; 东南

(2) 7:53 9:32 9:06 12:44

五、应用

1. $520-153+520=887$ (棵)

2. (1) 43 人 (2) $43 \div 9 = 4$ (条)7 (人) $4 + 1 = 5$ (条)

3. (1) 三, 一 (2) $320-189=131$ (下) $566-231=335$ (下)

4. $20 \div 5 = 4$ (段) $4-1=3$ (次) $3 \times 2 \times 5 = 30$ (分) (方法不唯一)