

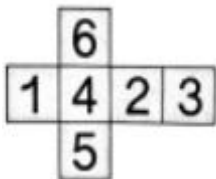

一年级数学第 10 周周末练习单

班级：


姓名：

学号：

一、我来填一填。

1、折一折，用  做一个 ，“6”的对面是“()”。

2、右边的七巧板里只有 6 块，少了 1 块()。



3、个位上是 8，十位上是 5，这个数是()。读作：()

4、100 里面有()个十，100 里面有()个一。

5、55 前面的第 3 个数是()，91 后面的第 5 个数是()。

6、40 前面的一个数是()，40 后面连续的 3 个数是()、()、()。

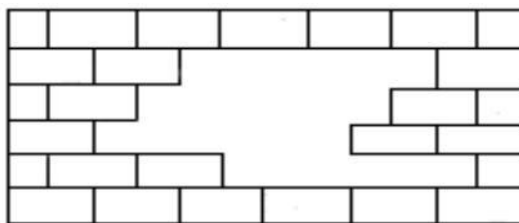
7、一个两位数，个位是最大的一位数，十位比个位小 3，这个数是()。

8、49 比()少 1。30 比()大 1。





9、读数和写数都从()位起；在 66 这个数中，十位上的“6”表示()，个位上的“6”表示()。

10、7 个十和 9 个一合起来是()，和它相邻的数是()和()。

11、这面墙缺了()块砖。



12、看图先写数，再读一读。



写作：_____

写作：_____

写作：_____

写作：_____

读作：_____

读作：_____

读作：_____

读作：_____

二、用竖式计算。

$27+3=$

$34+25=$

$6+42=$

$56-24=$

$79-59=$

三、森林医生，下面计算对吗？对的画“√”，错的画“×”并改正。

$$\begin{array}{r} 68 \\ -5 \\ \hline 18 \end{array}$$

改正： (×)

$$\begin{array}{r} 46 \\ +13 \\ \hline 53 \end{array}$$

改正： (×)

$$\begin{array}{r} 78 \\ -57 \\ \hline 21 \end{array}$$

改正： (×)

四、下面的图形各代表什么数？

$\triangle - \square = 9$

$6 + \square = 11$

$\triangle - \bigcirc = 6$

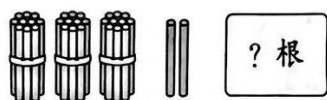
$\triangle = (\quad)$

$\square = (\quad)$

$\bigcirc = (\quad)$

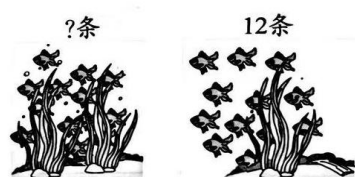
五、解决问题。

1、一共有 68 根小棒。



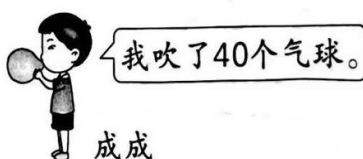
$\square \bigcirc \square = \square$

2、一共有 25 条鱼。



$\square \bigcirc \square = \square$

3、吹气球。



(1) 成成比路路多吹了几个气球？

(2) 他们一共吹了几个气球？