

棠外附小 2023—2024 学年下期一年级阶段检测

数学卷

亲爱的同学们：

时间过得真快，经过半个学期的努力学习，你们一定又掌握了许多知识，老师真为你们骄傲！好好书写，认真思考，细致答题！相信你们一定能答得最棒！

一、计算（22 分）

1、直接写得数。（16 分）

$15-7=$

$20-5=$

$16-6=$

$3+9=$

$18-3=$

$12-8=$

$17-4=$

$6+8=$

$7+9=$

$13-4=$

$11-0=$

$9+10=$

$()-5=12$

$11-()=7$

$12+()=15$

$14-()=8$

2、在○里填上“>”“<”或“=”。（6 分）

$35 \bigcirc 33$

$67 \bigcirc 56$

$100 \bigcirc 10 \text{ 个十}$

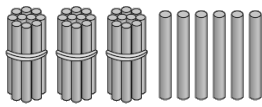
$99 \bigcirc 10$

$12+7 \bigcirc 19$

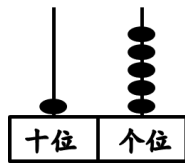
$17-8 \bigcirc 9$

二、填空小能手。（32 分）

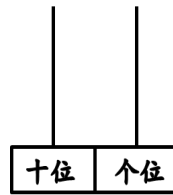
1、数一数、圈一圈、画一画、填一填。



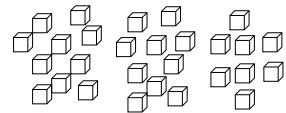
()



()



(42)



()

2、56 是由 () 个十和 () 个一组成的。十位上的数是 ()，表示 ()

个 ()；个位上的数字是 ()，表示 () 个 ()。

3、计数器从右数起，第一位是()位，第二位是()位，第三位是 () 位。

4、按规律写一写，画一画。

(1) 2、4、()、()、10、()、()。

(2) 30、()、20、15、()、()。

(3) □ ○ ▲ ● □ ○ ▲ ● □ _____

5、和 69 相邻的两个数是 () 和 ()。

6、最大的两位数是 ()，最小的两位数是 ()。

7、99 的前面一个数是 ()，后面一个数是 ()。

8、七巧板是由 () 种图形组成的，其中三角形有 () 个。

三、下面的说法对吗？对的画“√”，错的画“×”。(4 分)

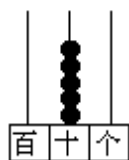
1. $16-8=9$ 。()

2. 8 个十和 80 个一同样多。()

3. “66”这个数中的两个“6”表示的意思是相同的。()

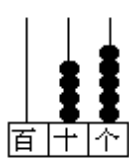
4. 6 个一和 4 个十组成的数是 64。()

四、看图写数（每空 1 分，共 6 分）



写作：()

读作：()



写作：()

读作：()



写作：()

读作：()

五、猜猜我是谁（4 分）



我的个位是 2，十位是 9。



我有 6 个十 4 个一。

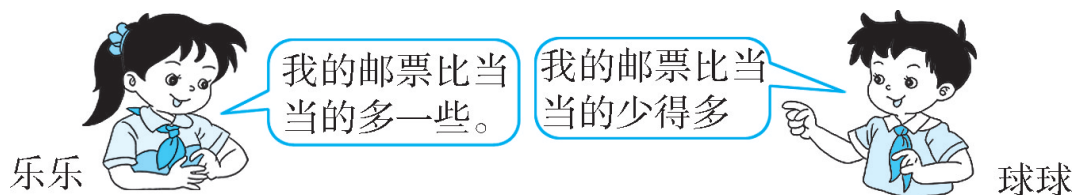


我正好有 10 个十。



我的个位和十位的数字相同。

六、按要求选一选（4分）



乐乐可能有多少张邮票？（画“○”） 24张 35张 80张

() () ()

球球可能有多少张邮票？（画“√”） 23张 9张 20张


() () ()

七、它们分别看到的是下面哪幅图？连一连。（共8分）



八、解决问题（共20分）

1. 还要折多少只？（4分）



答：还要折 ____只。

2. 聪聪有 17 本故事书，小红有 8 本，聪聪比小红多多少本？（5 分）

$$\square \bigcirc \square = \square \text{ (本)}$$

答：聪聪比小红多_____本。

3. 停车场开走了 8 辆小汽车，现在还有 11 辆，停车场原来有多少辆小汽车？（5 分）

$$\square \bigcirc \square = \square \text{ (辆)}$$

答：停车场原来有_____辆小汽车。

4. 学校乒乓球队有 8 人，足球队有 7 人，篮球队有 12 人。提一个数学问题并解决。（6 分）

_____?

$$\square \bigcirc \square = \square \text{ (人)}$$

九、思维拓展

1、用 5 颗珠子，你能摆出（ ）个不同的数，试着画一画。（6 分）

十位	个位	十位	个位	十位	个位	十位	个位	十位	个位	十位	个位
()	()	()	()	()	()	()	()	()	()	()	()

2、在()里最大能几。(4 分)

$$11 - () > 8 \quad () + 7 < 12 \quad () - 8 < 5 \quad 14 > 8 + ()$$

3、用 8、5、0 三张卡片中的两张组成两位数，最大的数是（ ），最小的数是（ ）。（4 分）

4、今年小明 9 岁，姐姐 15 岁，今年姐姐比小明大（ ）岁；5 年后，姐姐比小明大（ ）岁。（4 分）

5、乐乐有 16 张卡片，送给笑笑 6 张后，两人的卡片张数就一样多了。笑笑原来有（ ）张卡片。（画一画）（2 分）