

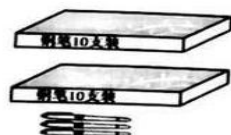
# 一年级（下册）第4周练习题

班级\_\_\_\_\_姓名\_\_\_\_\_

一、数一数，填一填。



( ) 个



( ) 支



( ) 根

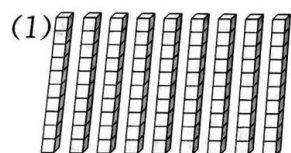
二、在下面各数的后面，连续数出五个数。

(1) 三十六、( )、( )、( )、( )、( )

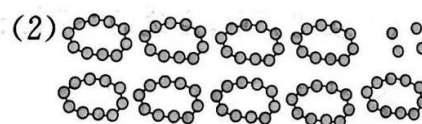
(2) 六十八、( )、( )、( )、( )、( )

(3) 八十九、( )、( )、( )、( )、( )

三、填一填。

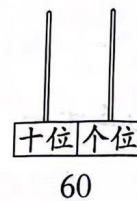
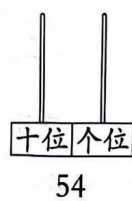
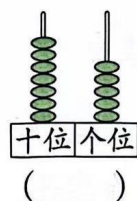


有( )个，再添( )个，  
就变成一百个了。

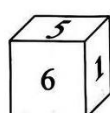
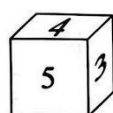
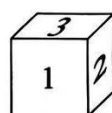


有( )个，再添( )个，  
就变成一百个了。

四、写一写，画一画。



五、正方体的六个面上分别写着“1, 2, 3, 4, 5, 6”这六个数字。



“1”的对面是( )；

“2”的对面是( )；

“3”的对面是( )。