

一年级数学下册第7周练习题

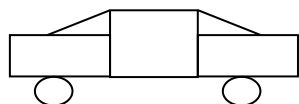

班级：_____ 姓名：_____ 学号：_____





一、想一想、填一填

- 55 是一个 () 位数，左边的 5 在 () 位，表示 () 个 ()，右边的 5 在 () 位，表示 () 个 ()。
- 十位数字比个位少 4 的两位数有 ()。
- 十位上的数比 8 大，个位比十位少 5，这个数是 ()。
- 12 比 9 多 ()，比 15 少 7 的数是 ()。
- 个位和十位相同的两位数有 () 个，其中最大的是 ()。
- 计数器从右边起，第一位是 () 位，第二位是 () 位，第三位是 () 位。
- 最大的一位数与最小的两位数的和是 ()。

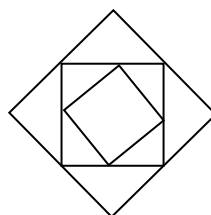
二、数一数，填一填(要仔细哦!)





1、



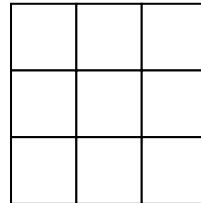
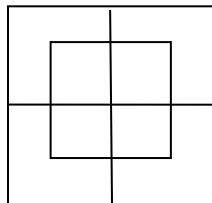
() 个  () 个 
() 个  () 个 

2



有 () 个  有 () 个  有 ()  , 有 () 

3、数数下面图中共有多少个长方形？多少个正方形？



有 () 个长方形。 有 () 个正方形。 有 () 个正方形。