

双流区小学数学二年级下册单元学业闯关（一）

【一单元 除法 二单元 方向与位置】

班级_____ 姓名_____ 闯关成绩_____

【卷首语】亲爱的孩子们：数学学习不仅让我们体验到乐趣，还带给我们很多知识。今天，就让我们一起去奇妙的数学乐园里遨游，争做快乐的学习小达人吧！

一、口算 (12 ☆)

$64 \div 8 =$

$81 \div 9 =$

$54 \div 9 =$

$18 \div 8 =$

$42 \div 7 =$

$4 \times 9 =$

$72 \div 9 =$

$50 \div 9 =$

$6 \times () = 48$

$() \times 5 = 35$

$() \times 7 = 49$

$() \times 8 = 32$

评一评：太棒啦！第一题得了 () ☆

二、竖式计算 (12 ☆ 3+3+3+3)

$27 \div 6 =$

$60 \div 8 =$

$48 \div 9 =$

$56 \div 7 =$

评一评：太棒啦！第二题得了 () ☆

三、填一填 (28 ☆)

- 1、小华早晨面对太阳时，她的后面是 () 方，右面是 () 方。
- 2、() $\div 6 = 3 \cdots \cdots$ () 中，被除数最小是 ()，最大是 ()。
- 3、从 62 里连续减去 9，最多能减 () 次。
- 4、先圈一圈，再填一填。



22 个草莓，每 6 个放在一个盘子里，能放_____个盘子，还剩 _____个。

5、22 颗糖，如果每 3 个装一盘，可以装 () 个盘子，还剩 () 个；
如果平均装在 4 个盘子里，每盘装 () 个，还剩 () 个。

6、() 里最大能填几？

() $\times 7 < 41$ $6 \times$ () < 30 $65 >$ () $\times 9$
 $65 > 8 \times$ () $35 > 5 \times$ () () $\times 4 < 25$

7、按如下的规律排列图形：

○ ○ △ △ △ □ ○ ○ △ △ △ □ ○ ○ △ △ △ □ ……

从左往右数，第 19 个图形是()，第 30 个图形是()。

8、看图填空：

①体育馆在学校的_____面，

学校的_____面是商场。

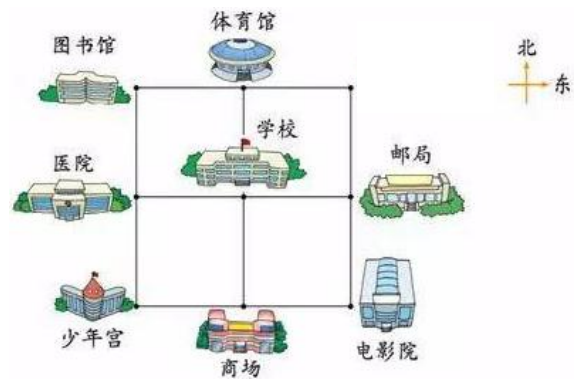
②电影院在商场的_____面，

在学校的_____面。

③在图书馆南面的是_____。

④动物园在邮局的北面的“.”位置上，

请用“★”在图中标出动物园的位置。



评一评：太棒啦！第三题得了 () ☆

四、选一选 (8 ☆)

1.在一道有余数的除法算式中，除数是 6，余数不可能是 () 。

- A. 6 B. 4 C. 3

2.运送 40 张桌子，每辆车最多运 9 张，可以装满 () 辆车。

- A. 3 B. 4 C. 5

3.余数是 3 的算式是 () 。

- A. $47 \div 5$ B. $66 \div 7$ C. $60 \div 8$

4.乐乐面向北站立,她的背面是(), 左面是(), 右面是()。

- A.东 B.西 C.北 D.南

5.○○○◎◎◎□○○○◎◎◎□……像这样画下去,第 34 个图形是()。

- A.○ B.◎ C.□

6. 有 49 个玩具,每盒装 6 个,可以装几盒,还剩几个,正确的是()。

- A.装 8 盒,剩 1 个 B.装 7 盒,剩 7 个 C.装 1 盒,剩 8 个

7. 二 (1) 班同学去医务室检查视力, 每次进去 6 人。贝贝排在第 25 个, 第 () 次才能进去。

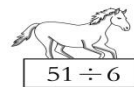





- A. 4 B. 5 C. 6

8.把 42 个礼物平均装在相同的盒子里, 不能有剩余, 应选 () 号盒子。

- A.  每盒装 5 个 B.  每盒装 7 个 C.  每盒装 8 个

评一评: 太棒啦! 第四题得了 () ☆

五、连一连 (10 ☆)



评一评: 太棒啦! 第五题得了 ()

六、解决问题 (30 ☆)

1.二年级 (4) 班开家长会, 一张长凳能坐 6 位家长, 来了 49 位家长, 至少需要搬几张长凳? (5 ☆)

2.二年级 1 班 37 名同学参加春游活动



限乘客 7 人



限乘客 4 人

(1) 如果都坐大车，至少需要几辆大车？ (5 ☆)

(2) 如果都坐小车，至少需要几辆小车？ (5 ☆)

3. 新学期到了，李老师准备到超市给 2 年级 1 班的孩子准备礼品，李老师带了 32 元钱到超市。

商品	铅笔	水杯	笔记本	文具盒
单价	2 元	7 元	4 元	5 元

(1) 如果要买 8 个文具盒，他至少还要带多少元？ (5 ☆)

(2) 如果只买水杯，最多能买几个？还剩多少元？ (5 ☆)

(3) 再提一个数学问题，并正确解答。(5 ☆)

评一评：太棒啦！第六题得了 () ☆

【卷尾语】

亲爱的宝贝，遨游数学乐园的活动结束啦，快来给自己的表现评评星吧！

认真听老师读题：☆☆☆☆☆

认真思考答题：☆☆☆☆☆

书写整洁美观：☆☆☆☆☆

双流区小学数学二年级下期单元学业闯关（二）

【三单元 生活中的大数 四单元 测量】

班级_____ 姓名_____ 闯关成绩_____

【卷首语】亲爱的孩子们：数学学习不仅让我们体验到乐趣，还带给我们很多知识。今天，就让我们一起去奇妙的数学乐园里遨游，争做快乐的学习小达人吧！

一、计算。(16 ☆)

1、直接写出得数。(10 ☆)

$9 \times 7 =$ $24 \div 3 =$ $6 \times 7 =$ $36 \div 4 =$ $64\text{cm} + 36\text{cm} =$

$8 \times 4 =$ $45 \div 5 =$ $8 \times 8 =$ $72 \div 9 =$ $1\text{m} - 2\text{dm} =$

2、竖式计算。(6 ☆)

$36 \div 5 =$

$80 \div 9 =$

$56 \div 7 =$

评一评：太棒啦！第一题得了（ ）☆

二、填空。(34 ☆)

1、（ ）个十是100，1000里有（ ）个百，10个千是（ ）。

2、2605中“5”在（ ）位上，表示（ ）个（ ）；5896中的“5”在（ ）位上，表示（ ）个（ ）。

3、一个数里有3个千、5个百、8个一，这个数是（ ），读作（ ）；一千零八写作（ ）。

4、由6、2、0、8组成的四位数中，最大的是（ ），最小的是（ ），最接近6000的数是（ ）。

5、 $3\text{km} =$ （ ） m $7\text{m} =$ （ ） dm $100\text{mm} =$ （ ） $\text{cm} =$ （ ） dm

6、找规律，填一填。

(1) 4050, 4100, 4150, (), (), 4300。

(2) (), 7340, 7440, (), (), 7740。

7、2268 米= () 千米 () 米 6009 米= () 千米 () 米

8、 里最大能填几。

$$\square 74 > 574$$

$$63\square < 634$$

$$2\square 9 > 288$$

9、最小的四位数和最大的三位数相差 ()。

10、在所有的四位数中，最接近三千二百的数是 ()、()。

评一评：太棒啦！第二题得了 () ☆

三、选择题。(每题 1☆，共 10☆)

1、在数位顺序表中，与万位相邻的右边一位是 ()。

A、个位 B、百位 C、千位 D、万位

2、一个四位数最高位上的数是 2，百位上是 1，其余各位上都是 0，这个数是 ()。

A、2010 B、2101 C、2100 D、2001

3、从 8900 起，一千一千的数，下一个数是 ()。

A、9000 B、9900 C、8910 D、8800

4、由 7 个千和 8 个一组成的数是 ()。

A、7080 B、708 C、7008 D、7800

5、下面各数中的“9”，表示 9 的百的是 ()。

A、2098 B、3904 C、9048 D、4509

6、由数字 9，4，0 组成的三位数有 () 个。

A、3 B、4 C、5 D、6

7、周末，李芳一家要去离家 12 千米的动物园玩，选择 () 的方式更合适。

A、坐汽车 B、步行 C、高铁 D、乘飞机

8、一枚回形针长约 30 ()。

A、分米 B、厘米 C、毫米 D、千米

9、1枚1分硬币的厚度约为1毫米,100枚1分硬币叠在一起的高度约为()。

- A、1米 B、1分米 C、1厘米 D、1毫米

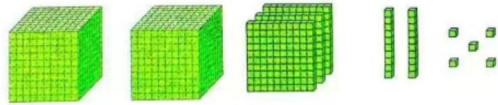
10、64 () < 647, () 里能填的数有 () 个。

- A、4个 B、5个 C、6个 D、7个

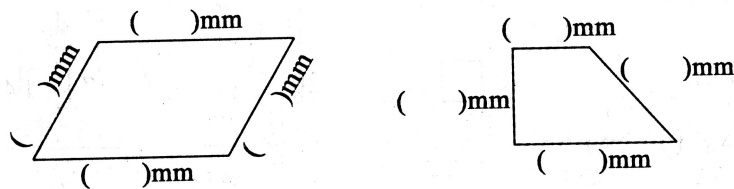
评一评: 太棒啦! 第三题得了 () ☆

四、(1) 数一数 (2 ☆)


() + () + () + () = ()



(2) 量一量, 把结果填在括号里。 (4 ☆)



(3) 估一估, 大约有 () 个松果。 (2 ☆)



(4) 二(1)班进行抽奖活动, 哪个数是获奖号码, 画“√”。 (2 ☆)

获奖号码比3000大得多, 比7000小一些, 接近6500.

() 2980	() 5293
() 6481	() 7102

(5) 小狗家在小兔家东面200米处, 小猫家在大树西面50米处。用“○”标出小狗家的大致位置, 用△标出小猫家的大致位置。 (4 ☆)



五、解决问题。 (26 ☆)

1、一根铁丝长 3 分米，如果把它平均分成 5 段，每段长多少厘米？ (4 ☆)

2、把 3 根 14 分米长的木条钉成一根长木条，每两根木条的重叠部分长 2 分米，钉成后的木条长多少分米？ (5 ☆)

3、用

5	0	0	7
---	---	---	---

 这四张数字卡片组成四位数。(8 ☆)

(1)最大的四位数是 ()。

(2) 最小的四位数是 ()。

(3) 一个“零”也不读的四位数是 () 和 ()。

(4) 只读一个“零”的四位数是 ()，()，()，()。

4、一个四位数，个位上的数是 7，任意相邻两个数位上的数的和都是 12，这个四位数是多少？ (4 ☆)

5、同学们排成方队（正方形队伍）做操，淘气的东、南、西、北都有 4 个人，这个方队共有多少人？（可以画一画噢!）(5 ☆)

评一评：太棒啦！第五题得了 () ☆

【卷尾语】

亲爱的宝贝，遨游数学乐园的活动结束啦，快来给自己的表现评评星吧！

认真听老师读题：☆☆☆☆☆

认真思考答题：☆☆☆☆☆

书写整洁美观：☆☆☆☆☆

双流区小学数学二年级下册单元学业闯关（三）

【五单元 加与减

六单元 认识图形】

班级_____ 姓名_____ 闯关成绩_____

【卷首语】亲爱的孩子们：数学学习不仅让我们体验到乐趣，还带给我们很多知识。今天，就让我们一起去奇妙的数学乐园里遨游，争做快乐的学习小达人吧！

一、计算。

1. 直接写出得数（12 ☆）

$500+500 =$ $440 - 40 =$ $400 + 700 =$ $6600 - 60 =$

$230 - 80 =$ $330+70 =$ $840 - 800 =$ $1600 + 400 =$

$900 - 500 =$ $190 + 20 =$ $666 - 66 =$ $8400-8000 =$

2. 用竖式计算，第(1)、(2)题要写出验算过程。（16 ☆）

(1) $672+248 =$

验算：

(2) $1000-237 =$

验算：

(3) $395+410 =$

(4) $485-278 =$

(5) $279 + 46 =$

(6) $718-642 =$

评一评：太棒啦！第一题得了（ ）☆

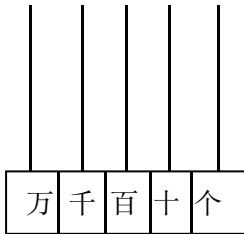
二、认真填空。（29 ☆）

1. 用0、2、6组成的最大三位数是（ ），最小三位数是（ ）。

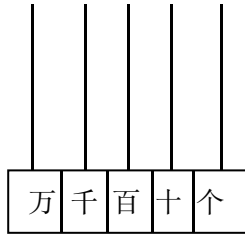
2. 在○里填上“>”、“<”或“=”。

$3500-300$ ○ $3500-3000$ $250-50$ ○ $50+150$ $400-96$ ○ $400-100+4$


3. 画一画，算一算。



$670-140=$



$620+176=$



$650-220=$

4. 红领巾有 () 个角，一个 () 角，其余 2 个角都是 () 角。

5. 长方形和正方形都是 () 边形，都有 () 条边，4 个角都是 () 角；它们的区别是长方形的 () 边相等，正方形的 () 边相等。

6. 找规律填数。

(1) 1230, 1250, (), (), 1310, ()。


(2) 7700, (), (), 7100, 6900, ()。

7. 一件上衣 178 元，一条裤子 215 元，如果爸爸要买一套衣服，最少要带 () 张 100 元人民币。


8. 比 312 少 55 的数是 ()，比 64 多 157 的数是 ()。

9. 把这些算式按得数的大小，从大到小排成一行。

 $400+33$

 $917-35$

 $236+66$

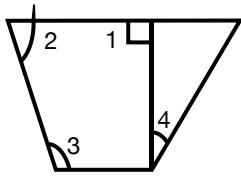
$247+25$ 

_____ > _____ > _____ > _____

评一评：太棒啦！第二题得了 () ☆

三、动手操作

1.数一数，说一说。(8 ☆)



(1) 图中的 $\angle 1$ 是()角, $\angle 2$ 是()角, $\angle 3$ 是()角, $\angle 4$ 是()角。

(2) 比较这4个角的大小。

() > () > () > ()


2.想一想，画一画。(8 ☆)

(1) 画角。



直角 锐角 钝角

(2) 接着画出一个正方形。



评一评：太棒啦！第三题得了() ☆

四、解决问题。(27 ☆)

1.体育课上组织跳绳比赛，比赛结果如下：(9 ☆)

小组	第1组	第2组	第3组	第4组
跳绳个数	304	218	116	89

(1) 第()组跳绳个数最多，第()组跳绳个数最少。他们相差多少个？(3 ☆)

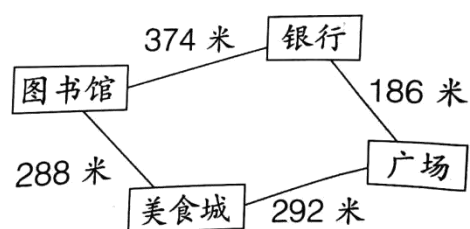
(2) 第2组和第4组共跳了多少个？(2 ☆)

(3) 第()组和第()组的个数和最大。它们合起来比第3组多多少个？(4 ☆)

2.用一张长12厘米，宽8厘米的长方形纸折出一个最大正方形，再

把这个正方形对折两次后，变成一个小正方形。你知道这个小正方形的边长是多少厘米吗？（折一折、画一画）（5 ☆）

3.淘气从图书馆到广场，怎样走比较近？近多少米？（5 ☆）



4.买商品。（8 ☆）



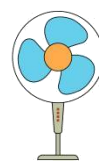
①吉他 608 元



②豆浆机 463 元



③微波炉 500 元



④电

风扇 125 元

(1) 800 元可以买 () 和 ()，还剩 67 元。(填序号) (4 ☆)

(2) 妈妈买一台豆浆机后，还剩 37 元，妈妈原来有多少元？ (4 ☆)

【卷尾语】

亲爱的宝贝，遨游数学乐园的活动结束啦，快来给自己的表现评评星吧！

认真听老师读题：☆☆☆☆☆

认真思考答题：☆☆☆☆☆

书写整洁美观：☆☆☆☆☆

双流区小学数学二年级下册单元学业闯关（四）

【七单元 时、分、秒 数学好玩 八单元 调查与记录】

班级_____ 姓名_____ 闯关成绩_____

【卷首语】亲爱的孩子们：数学学习不仅让我们体验到乐趣，还带给我们很多知识。今天，就让我们一起去奇妙的数学乐园里遨游，争做快乐的学习小达人吧！

一、想一想，算一算。

1.口算 (8 ☆)

$222+444=$

$400+50=$

$3200-600=$

$780-80=$

$28\div 4=$

$9\times 6=$

$81\div 9=$

$47+29=$

2.竖式计算，带▲的题要验算。(10 ☆ $2+2+3+3$)

$106+287=$

$726-193=$

$\blacktriangle 354+67=$

$\blacktriangle 804-188$

验算:

验算:

评一评：太棒啦！第一题得了（ ） ☆

二、填一填 (25 ☆ 第1、2题0.5分一空，其余均是1分1空)

1.我们学过的时间单位有()、()、()。计量很短的时间时,常用比分更小的单位()。秒针走一小格的时间是()。

2.钟面上有()个大格,有()个小格,时针走一圈是()小时;分针走一圈是()分,也就是()时;秒针走一圈是()秒,正好是()分。

3.淘气参加足球比赛用了90分钟，也就是（ ）时（ ）分。

4.淘气做了班级饮食喜好调查，下图是他的调查记录。他一共调查了（ ）人。

只爱吃肉	只爱吃菜	肉和菜都爱吃
18人	7人	16人

5. 1分=（ ）秒 1时5分=（ ）分 80分=（ ）时（ ）分

2分16秒=（ ）秒 69秒=（ ）分（ ）秒 120秒=（ ）分

6.在括号里填上合适的单位。

(1) 小红跑得真快，50米用了10（ ）。

(2) 小芳中午吃饭用了20（ ）。

(3) 小明大约每天睡9（ ）。

(4) 数学本的厚度约7（ ）。

7.按规律画一画 $\triangle \square \bigcirc \triangle \square \bigcirc \triangle \square \bigcirc \triangle$ _____

8.淘气早上8:40点了一单外卖，外卖送达的时间是早上9:10，请你想一想，淘气等待了（ ）分。

评一评：太棒啦！第二题得了（ ） ☆

三、选一选 (10 ☆)

1. 分针在钟面上转了6圈，时针正好转了（ ）圈。

- A.6 B.半 C.1 D.3

2. 上一节课，长约40（ ）。

- A. 米 B.分 C.元 D.时

3. 以下哪些方法可以记录调查的数据？正确的答案是（ ）。

- A. 写正字 B.画小棒 C.画符号 D.以上都是

4. 体育老师对第一组同学进行50米测试，成绩为：红红9秒、丽丽11秒、君君8秒、茜茜10秒。（ ）跑得最快，（ ）跑得最慢。

- A. 丽丽 B.红红 C.君君 D.茜茜

5. 奶奶每天早晨 5: 50 起床做早饭, 今天她起晚了 20 分钟。奶奶今天早晨是 () 起床的。

- A.5:30 B.6:10 C.7: 50 D.5:70

评一评: 太棒啦! 第三题得了 () ☆

四、动手操作

1.连一连 (8 ☆)



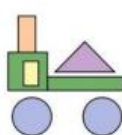
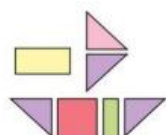
2时13分

11时20分

6时53分

3时25分

2.数一数, 各有多少个? (8 ☆)



() 个	() 个	() 个	() 个

3.仔细观察下面每个钟面,填一填, 画一画。(7 ☆)



经过 () 分



经过 40 分



第二节课下课

第三节课上课

第三节下课

(1) 第二节下课是____时____分, 第三节上课是____时____分, 课间休息了____分钟。

(2) 第三节课上了 40 分钟, 画出第三节下课时钟面上的分针。

评一评: 太棒啦! 第四题得了 () ☆

五、解决问题 (24 ☆)

1. 五个同学做手工, 下面是他们完成手工的时间表。

①小红	②丽丽	③小飞	④东东	⑤小雪
43 秒	1 分 2 秒	52 秒	58 秒	1 分 10 秒

(1) 请把上面 5 个时间从长到短排一排。(可填序号) (5 ☆)

() > () > () > () > ()

(2) 用时最少的比最多的少用了多少秒? (3 ☆)

2. 小明和小刚比赛跑步 (直线), 小明跑了 268 米, 小刚跑了 300 米, 谁离起点近? 他们相差多少米? (4 ☆)

3. 某超市开业进货, 下面是月底时饮料的库存情况: (12 ☆)

名称	苹果汁	玉米汁	西瓜汁	橙汁
箱数	正正正	正正一	丅	正

(1) 根据上面的统计, 填写下表:

名称	苹果汁	玉米汁	西瓜汁	橙汁	合计
箱数	() 箱	() 箱	() 箱	() 箱	() 箱

(2) () 的数量最多, () 的数量最少, 这两种相差 () 箱。

(3) 根据以上信息, 请再提一个问题, 并解答。

(4) 看了调查, 如果你是采购员, 下月需进货, 你会多进哪种饮料? 为什么?

【卷尾语】

亲爱的宝贝, 遨游数学乐园的活动结束啦, 快来给自己的表现评评星吧!

认真听老师读题: ☆ ☆ ☆ ☆ ☆

认真思考答题: ☆ ☆ ☆ ☆ ☆

书写整洁美观: ☆ ☆ ☆ ☆ ☆

双流区小学数学二年级下册单元学业闯关（五）

【综合练习】

班级_____ 姓名_____ 闯关成绩_____

【卷首语】亲爱的孩子们：数学学习不仅让我们体验到乐趣，还带给我们很多知识。今天，就让我们一起去奇妙的数学乐园里遨游，争做快乐的学习小达人吧！

一、算一算。(24★)

1. 口算。(12★)

$18 \div 5 =$

$300 + 700 =$

$260 + 400 =$

$45 \div 9 =$

$520 - 60 =$

$435 + 120 =$

$1500 - 700 =$

$15 \div 3 =$

$740 - 230 =$

$70 + 130 =$

$11 \div 2 =$

$400 - 50 =$

2. 竖式计算，第(3)(4)小题写出验算过程。(12★)

(1) $40 \div 6 =$

(2) $257 + 133 =$

(3) $804 - 175 =$

(4) $635 + 365 =$

二、填一填。(32★)

1. 长江是我国最长的河流，全长六千三百千米，仅次于非洲的尼罗河与南美洲的亚马孙河，居世界第三。

六千三百写作（ ），它是由6个（ ）和3个（ ）组成的。这个数前面的一个数是（ ）。

2. $\square 893 > 6799$ ， \square 里最小填（ ）。

3. 把一个正方形的纸, 沿直线剪去一个直角后, (不能沿着对角线剪), 剩下的部分是 () 边形, 它有 () 个角, 其中直角有 () 个, 钝角有 () 个。



4. 在○里填上“>”“<”或“=”

$610 - 10$ ○ $6100 - 100$ $830 + 600$ ○ $600 + 830$ 70cm ○ 7m
 $520 - 80$ ○ $500 - 80$ 4000m ○ 4km 4分 ○ 40秒

5. 在括号里填上适当的单位。

数学书厚约 8 () 一只铅笔长约 1 ()
 成都到昆明的路程长约 850 () 一张床长 2 ()
 一部电影的放映时间约是 2 () 桥长约 300 ()

6. $\star \div 7 = \square \cdots \triangle$, \triangle 最大是 (), 如果 \square 是 3, \star 最大是 ()。

7. $92\text{秒} = ()\text{分} ()\text{秒}$ $123\text{分} = ()\text{时} ()\text{分}$
 $()\text{米} = 50\text{分米}$ $10\text{分米} = ()\text{厘米}$

8. 用一个长 10 厘米, 宽 6 厘米的长方形剪出一个最大的正方形, 剪出的正方形边长是 () 厘米。

9. 秒针走 10 圈, 分针从数字 12 走到数字 ()。

10. ○○○□○○○□○○○□……接着画下去, 第 20 个图形是 ()。

三、选一选。(10☆)

1. 最接近 5098 的数是 ()。

A.6000 B.5089 C.5100 D.5095

2. 傍晚你面对夕阳, 你的右面是 ()。

A.东 B.北 C.南 D.西

3. 小明乘 9: 25 的火车去奶奶家, 在发车前 15 分钟开始检票, () 开始检票。

A.9: 10 B.9: 00 C.9: 05 D.9: 15

4. 10 点整的时候, 钟面上的时针和分针所成的角是 ()。

A.直角 B.钝角 C.锐角 D.不确定


5. 一分钟能做的事情是 ()

A. 写 600 个字 B.跳绳 70 下 C.走路 1000 米 D.做 500 个下蹲

6. 医院在银行的东北方向, 银行就在医院的 () 方向。
 A. 东南 B. 西南 C. 西北 D. 东北
7. 余数是 5 的算式是 ()
 A. $35 \div 7$ B. $26 \div 7$ C. $46 \div 7$ D. $45 \div 7$
8. 一个三位数加一个三位数, 和是 ()
 A. 一定是三位数 B. 一定是四位数
 C. 不是三位数就是四位数 D. 一定不是四位数
9. 由三个 0 和两个 3 组成的五位数中, 一个零也不读的数是 ()
 A. 33000 B. 30003 C. 30300 D. 30030
10. 读数和写数都要从 () 开始。
 A. 个位 B. 高位 C. 低位 D. 十位


四、 按要求完成下面各题。(9☆)

1. 按要求画图形, 并填一填。(5☆)



- (1) 在😊的东南方向画一个三角形。
- (2) 在😊的西面画一个直角。
- (3) 在😊的东北方向画一个钝角。
- (4) ♥在😊的 () 方向,
 三角形在♥的 () 方向。

2. 写出下面钟表对应的时间。(4☆)



() () () ()

五、 解决问题。(25☆)

1. 果园里有桃树 520 棵, 比梨树多 153 棵, 果园里一共有多少棵树? (5☆)
2. 下面是对希望小学 3-6 年级近视人数的调查记录。(5☆)

三年级	四年级	五年级	六年级
IF	正正一	正正F	正正正

- (1) 近视的人数一共有 () 人。
- (2) 如果组织这些同学去划船, 每条船限乘 9 人, 至少需要几条船?

3. 小明在学校每天的跳绳记录如下表。

周一	周二	周三	周四	周五
189 下	320 下	566 下	231 下	228 下

- (1) 小明周 () 跳得最多, 周 () 跳得最少。(2☆)
- (2) 周二比周一多跳多少下? 周三比周四呢? (6☆)
- (3) 请你再提出一个数学问题并解答。(3☆)

4. 有 5 根木料, 每根长 20 米, 把每根锯成长为 5 米的圆木, 如果每锯开一处需要 2 分钟, 5 根全部锯完需要多少分钟? (4☆)

【卷尾语】

亲爱的宝贝, 遨游数学乐园的活动结束啦, 快来给自己的表现评评星吧!

认真听老师读题: ☆☆☆☆☆

认真思考答题: ☆☆☆☆☆

书写整洁美观: ☆☆☆☆☆