



二年级数学下期第 12 周周末练习题

班级_____姓名_____家长签字_____

一、计算。

1、用竖式计算并验算。

$$256 + 77 =$$

验

算：

$$503 - 385 =$$

验

算：

$$719 + 168 =$$

验

算：

3、画一画，算一算。

$$149 + 223 =$$



$$312 - 130 =$$



二、填一填。

1. $\triangle \div 8 = 4 \cdots \square$, \square 可以填(), \square 最大填(), 此时 \triangle 是()。

2. 1605 中 “5” 在() 位上, 表示() 个();

9586 中的 “5” 在() 位上, 表示() 个()。

3. 在 \bigcirc 中填上 “ $>$ ” “ $<$ ” 或 “ $=$ ” 符号。

$$78\text{dm} \bigcirc 8\text{m}$$

$$78\text{cm} - 49\text{cm} \bigcirc 3\text{dm}$$

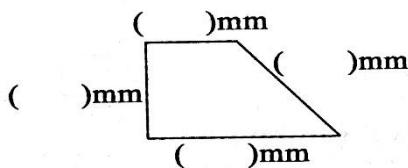
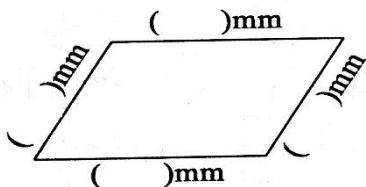
$$4 \text{ 个百和 } 5 \text{ 个十 } \bigcirc 4 \text{ 个千}$$

$$18\text{dm} \bigcirc 2\text{m} - 4\text{dm}$$

$$2\text{km} \bigcirc 1\text{km} 900\text{m}$$

$$48\text{dm} + 34\text{dm} \bigcirc 100\text{cm}$$

三、量一量，画一画。



四、 解决问题。

1. 植树。

(1) 两年一共植了多少棵松树? _____

(2) 两年一共植了多少棵杨树? _____

(3) 去年一共植了多少棵树? _____

(4) 今年比去年少植了多少棵杨树? _____

	去年	今年
松树	234	316
杨树	530	320

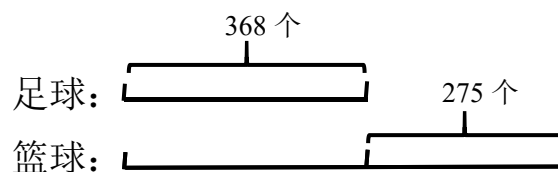
2. 一把电风扇 258 元，一口电饭锅 365 元。

(1) 淘气两样都买，应付多少元?

(2) 淘气付款 700 元，售货员找回 77 元，对吗?

(3) 电风扇比电饭锅便宜多少元?

3、根据图中信息提问并解答。



4、马大哈在做一道减法题的时候，由于粗心将 392 减去一个数错写成了 293 减去一个数，得到的差是 87，正确的差是多少?