

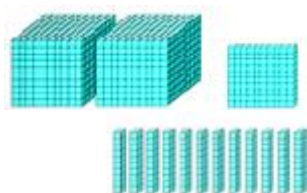
棠外附小二二年级第五周知识要点与易错点练习

班级_____姓名_____学号_____

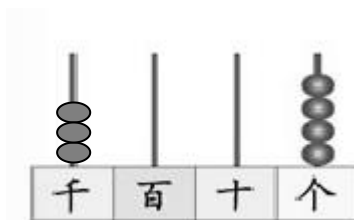
一、我会填。

1、数位顺序表中，从右边起，第一位是（ ）位，第（ ）位是百位，第四位是（ ），第（ ）位是万位。

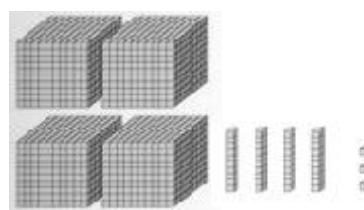
2、看图写数。



()



()



()

3、2604 中“6”在（ ）位上，表示（ ）个（ ）；7859 中的“5”在（ ）位上，表示（ ）个（ ）。

4、按规律数数。

(1) 一万、九千九百、九千八百、_____、_____、_____。

(2) 1795、1796、1797、_____、_____、_____、_____。

(3) 7885、7985、_____、_____、_____、_____、_____。

5、根据下面六个数，填一填。

598 1074 5887 3007 123 456

(1) 比 1000 小的数有（ ）。

(2) 比 1000 大的数有（ ）。

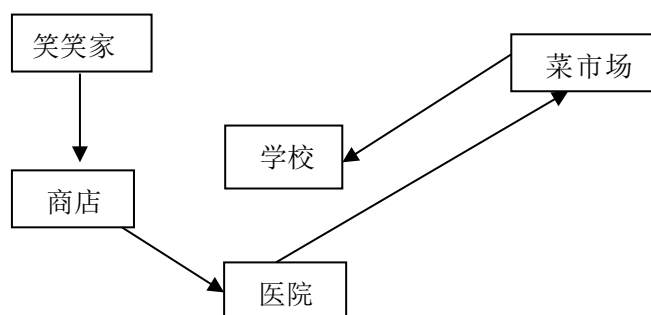
(3) 在 3995 和 999 之间的数有（ ）个。

(4) 最接近 1000 的数是（ ），最接近 3000 的数是（ ）。

(5) 把上面六个数按从小到大的顺序排列。

() < () < () < () < () < ()

二、行走路线。



笑笑从家出发，往（ ）到了商店，再往（ ）方向到医院，接着往（ ）方向到菜市场，最后往（ ）方向到了学校。

三、解决问题。

1、二（1）班 42 名同学去玩碰碰车，每辆碰碰车限乘 5 人，至少要租多少辆车才能让大家一起玩？

2、王老师给同学们买铅笔作奖品，一支铅笔 6 角钱，王老师用 5 元钱最多能买到几支铅笔？

3、一卷电线长 80 米，用了 15 米后，剩下的每 9 米分成一段，可以分几段？

四、智慧屋

有一列数 202420242024……，第 30 个数字是几？前 30 个数的和是多少？