



知识要点与易错题练习

班级_____姓名_____学号_____

一、我会计算。

1、 $400+600=$

$6500-300=$

$5200-300=$

$502+400=$

$4\text{dm}=(\quad)\text{cm}$

$3\text{m}=(\quad)\text{cm}$

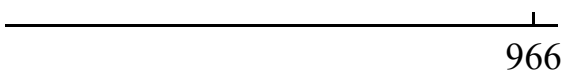
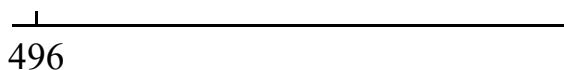
$5\text{km}=(\quad)\text{m}$

$50\text{mm}=(\quad)\text{cm}$

2、第一行两题画数线解答，其余列竖式计算。

$496+52=$

$966-49=$



$463+197=$

$158+231=$

$423-106=$

$363-97=$

二、我会填。

1、6807 里面有 () 个千、() 个百和 () 个一。

2、用 2 个千、4 个十和 5 个一组成的数是 ()，读作 ()。

3、九千零二十写作 ()，七百零四写作 ()。

4、用数字 9、6、0、2 组成不同的四位数，其中最大的数是 ()，最小的数是 ()。
一个零也不读的四位数是：()。

5、在括号里填上合适的长度单位。

一元硬币的厚度约是 2 ()。 小花的课桌高 7 ()

丽丽的身高约是 142 ()。 自行车每小时行 12 ()。

6、 $400+500=(\quad)$ ，想：() 个百加 () 个百得 () 个百。

$150-70=(\quad)$ ，想：因为 $15-7=(\quad)$ ，所以 $150-70=(\quad)$ 。

三、解决问题

1、图书馆里有连环画 538 本，连环画比故事书多 249 本，故事书有多少本？两种图书一共有多少本？

2、提出一个用算式“ $356 - 96$ ”解决的问题并解答。


问题：_____

列横式：

列竖式：

答：

3、明明家在商场东面 200 米处，电影院在商场西面 360 米处。如果用图上距离 1 厘米表示实际距离 100 米，你会画吗？



(1) 在图中标出明明家和电影院的大致位置。

(2) 算一算，明明家距离电影院有多远？

四、智慧屋

1、乐乐家离学校 286 米，欢欢家离学校 486 米，他们两家和学校都在同一条笔直的马路上，乐乐家到欢欢家有多远？（画一画图，要考虑方向，考虑所有情况）。

(1)

(2)

2、淘气在做一道减法题时，把减数十位上的 2 看成了 5，结果得到的差是 342，正确的差应该是多少？