

二年级第 15 周周末练习单

班级：

姓名：

学号：

一、我是计算小能手。

$$\begin{array}{lllllll}
 3 \times 4 = & 5 \times 8 = & 48 \div 6 = & 5 \times 5 = & 9 \times 3 = & 7 \times 9 = & 2 \times 4 = \\
 5 \times 8 = & 6 \times 8 = & 4 \times 5 = & 6 \times 2 = & 3 \times 7 = & 35 \div 5 = & 56 \div 8 =
 \end{array}$$

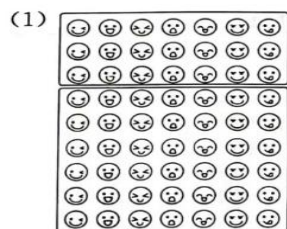
二、从 56, 32, 8, 7, 4 中选出几个数, 写出四道算式。

$$\square \times \square = \square \qquad \square \times \square = \square$$


$$\square \div \square = \square \qquad \square \div \square = \square$$

三、动手操作。

1. $7 \times 9 = ?$ 照样子, 圈一圈, 填一填。

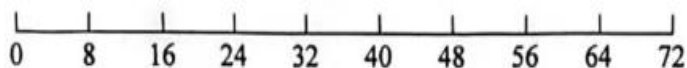


$$7 \times 9 = 7 \times \square + 7 \times \square$$



$$7 \times 9 = 7 \times \square + 7 \times \square$$

2. 画一画, 填一填。



$$8 \times 9 = 8 \times \square + 8 \times \square$$

四、解决问题。

1、购物。



4元



36元



?元



6元

(1) 一双鞋的价格是一双袜子的几倍?

(2) 一件上衣的价格是一双手套的 7 倍, 一件上衣多少元?

(3) 小龙买了 3 双袜子, 付了一张 20 元, 应找回多少元?