

二年级上数学第8周周末练习题

班级_____姓名_____

一、我会算得对又快。

$24+76 = \quad 40+44 = \quad 94-40 = \quad 63-3 = \quad 98-17 =$

$9 \times 2 = \quad 3 \times 2 = \quad 6 \times 5 = \quad 5 \times 3 = \quad 5 \times 8 =$

$2 \times 7 = \quad 2 \times 5 = \quad 7 \times 5 = \quad 32+19+18 = \quad 5+7 =$

$10 \text{ 元}-5 \text{ 元 } 5 \text{ 角} = \quad 3 \text{ 元 } 4 \text{ 角}+6 \text{ 元 } 6 \text{ 角} = \quad 3 \text{ 元 } 1 \text{ 角}-1 \text{ 元 } 6 \text{ 角} =$

二、我会思考并填空。

1、把口诀补充完整。

二九（ ） 五（ ）三十五 二七（ ） 五（ ）三十

二（ ）十八 （ ）（ ）二十五 （ ）（ ）十二 （ ）八十六

2、 6×4 可以表示（ ）个（ ）相加的和，列式_____

还可以表示（ ）个（ ）相加的和，列式_____





三、列竖式计算下列各题


$33-16+52 = \quad 34+57-42 = \quad 81-36+25 = \quad 56-42+39 = \quad 29+25-17 =$

四、解决问题

1、乐乐看一本书，第一周看了 35 页，第二周看了 28 页，还有 18 页没看，这本书一共多少页？

2、周日，涛涛和 5 个小朋友去动物园玩，动物园的儿童票是每张 5 元，他们带 25 元去，买票的钱够吗？

3、(1) $\triangle + \triangle = 10$ (2) $\bigcirc + \bigcirc + \bigcirc = 24$ (3)  +  +  +  = 24

$\triangle = (\quad)$ $\bigcirc = (\quad)$  = ()