



做题要认真读题，做完仔细检查哦！

## 三年级数学上期第 4 周练习题

班级\_\_\_\_\_姓名\_\_\_\_\_家长签字\_\_\_\_\_

### 一、用竖式计算。

$486+414+62=$

$870-651-105=$

$109+387-228=$

$536+196+426=$

$750-341-209=$

$735-249+133=$

### 二、脱式计算。（把先算的一步下面划上横线）

$120-60+40$

$24\div 3\times 2$

$15+15\div 5$

$3+7\times 3$

$120-(60+40)$

$24\div (3\times 2)$

$(15+15)\div 5$

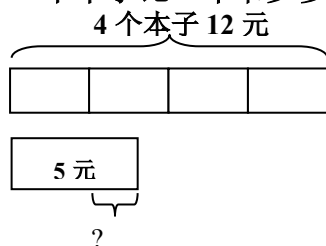
$(3+7)\times 3$

### 三、填空。

- 1、一个长方体盒子放在桌上，站在不同位置去看，最多能看到（ ）个面。
- 2、一个算式如果只有加、减法或只有乘、除法，应该按（ ）的顺序计算。
- 3、55 减去 15 的差除以 8，列式是（ ），得数是（ ）。
- 4、 $38+7=45$ ， $45\div 5=9$  把这两个算式合并成一个算式是（ ）。

### 四、看图列式，再计算。


- 1、一个本子比一本书少多少元？




- 2、一共有多少棵树？



五、(1) 下面哪幅图是机灵狗从窗外看到的？在括号里画“√”。



(2) 小强一家在院子里玩。你知道这几幅图分别是谁看到的吗？连一连。



六、解决问题。

1、王婆婆卖鸡蛋，上午卖了 356 个，下午卖了 208 个。  
原来有多少个鸡蛋？



2、 游乐园上午接待了 576 名游客，中午出园的有 248 名，下午又接待了 617 名，这时游乐园里有多少名游客？

七、智慧屋

$36 + 2 \times 2 = \square - 36$   
 $24 = 16 + \square \times 2$

$4 \times (\square - 2) = 36$   
 $45 - \square = 15 \times 2$

○	△	□
○	△	□
+	○	△

$\square = ( \quad )$   
 $\triangle = ( \quad )$   
 $\bigcirc = ( \quad )$

2、 填合适的运算符号或“( )”，使等式成立。

$20 \div 10 - 5 = 4$   
 $3 \bigcirc 8 \bigcirc 4 = 20$

$15 - 9 \times 8 = 48$   
 $8 \bigcirc 7 \bigcirc 3 = 32$

$25 - 5 \div 4 = 5$   
 $8 \bigcirc 6 \bigcirc 3 = 24$

3、 小马虎在计算  $(32 + \triangle) \div 8$  时，看成了  $32 + \triangle \div 8 = 35$ ，正确答案是多少？（列式解答）