


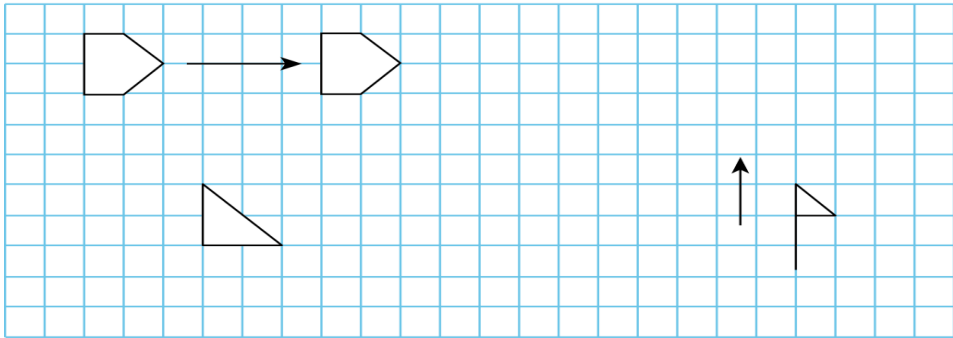


四、操作题(共16分)

1、（10分）
计算下图的周长和面积。



2（6分）
2、（1）  向（ ）平移了（ ）格。
（2）画出 ，使它向右平移7格。（3）画出小旗，使它向上平移5格。

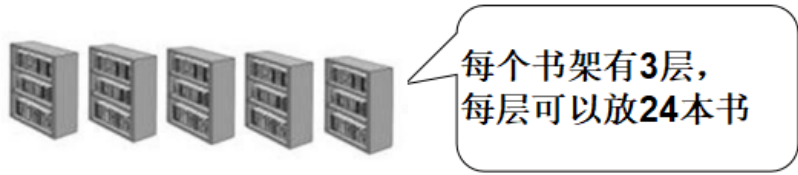


五、解答题(共20分)

1、（5分）
水果超市共有600千克苹果，售出13筐，平均每筐重22千克。还剩多少千克？

2、（5分）
学校每天下午都进行户外活动，体育组购买了270个沙包、165个呼啦圈和138套羽毛球套装。如果每班分9个沙包、8个呼啦圈、6套羽毛球套装，那么这些体育器材够分给多少个班？

3、（5分）
要把360本新书放在下面的这些书架上，每个书架每层能放多少本书可以放多少本书？



4、（5分）
张老师和李老师带领三（2）班的42名学生去参观科技馆，每人需带1个面包，商店搞促销，买四赠一，每个面包售价4元，他们至少要付多少元？