


姓名 _____ 班级 _____ 座号 _____

- 注意事项
- 1.请将信息填写清楚并认真核对，不得有误
- 2.保持答题卡的清洁和完整，不得折叠
- 3.选择题用2B铅笔填涂，修改用橡皮擦净
- 正确填涂  缺诊标记 []



扫一扫
查成绩

准考证号				
[0]	[0]	[0]	[0]	[0]
[1]	[1]	[1]	[1]	[1]
[2]	[2]	[2]	[2]	[2]
[3]	[3]	[3]	[3]	[3]
[4]	[4]	[4]	[4]	[4]
[5]	[5]	[5]	[5]	[5]
[6]	[6]	[6]	[6]	[6]
[7]	[7]	[7]	[7]	[7]
[8]	[8]	[8]	[8]	[8]
[9]	[9]	[9]	[9]	[9]

一、竖式计算（12分）

1 （ 12 分）

一、用竖式计算下面各题，带※的要验算。

42×37=

49×23=

636÷6=

※765÷5=

二、脱式计算(共12分)

2 （ 12 分）

720÷（4×2）

35＋35×14

400÷8×4

270+246÷6

三、填空题(共21分)

3 （ 18 分）

1. 选数填空、可重复。 10 20 30 40 50 60 70 80

() × () =1000

() × () =2400

() × () =5600

() × () =300

() × () =1600

() × () =1800

2. 在○里填上“>”、“<”或“=”。

24×15 ○ 25×16

25×40 ○ 25×39+25

60×6×3 ○ 60×18

30×24 ○ 60×12

3. 80×50的积的末尾有（ ）个0，积是（ ）位数。

4. 624÷6的商是（ ）位数，商中间有（ ）个0。

5. 255连续减去5，减（ ）次后，还剩25。

6.★÷75＝14.....（ ），被除数最大是（ ）。


7、两个数（0除外）相乘，一个乘数扩大10倍，另一个乘数缩小100倍，那么它们的积会（ ）。

四、操作题(共12分)

1 （ 6 分）

1、画一画、算一算。

15×13=



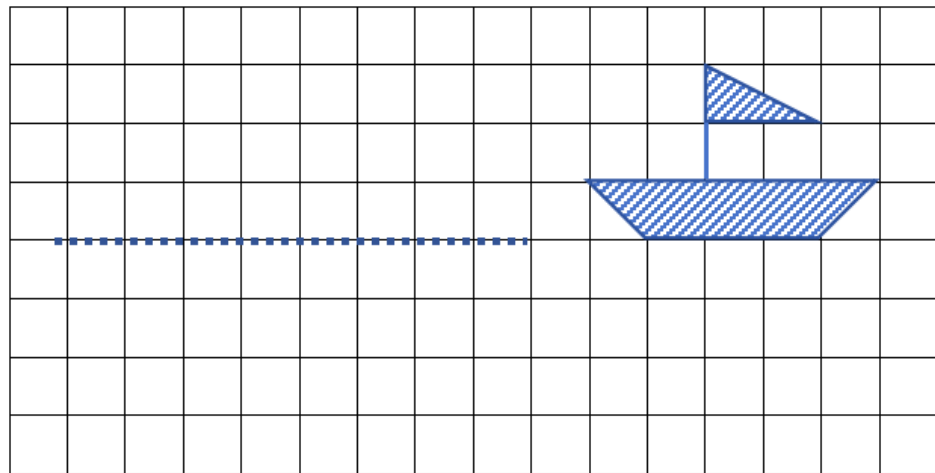
24×32=

×		

续

2 (6 分)

1、请将小船向左平移7格。 2、再画出小船在水中的倒影。



五、解答题(共20分)

1 (5 分)

1、一个书包58元，给全班所有同学都买一个书包一共需要多少元？

2 (5 分)

2、体育老师买了5盒羽毛球一共145元，买13盒这样的羽毛球需要多少元？

5	4	3	2	1	0	.5

3 (5 分)

每本作业有22页。全班同学的作业放在一起，一共有多少页？



5	4	3	2	1	0	.5

4 (5 分)

动脑筋：

如果A、B满足下面的算式，请问它们各代表那个数字？

$$\begin{array}{r} A B \\ \times B A \\ \hline 1 1 4 \\ 3 0 4 \\ \hline 3 1 5 4 \end{array}$$

5	4	3	2	1	0	.5