


姓名 _____ 班级 _____ 学号 _____

注意事项
1.请将信息填写清楚并认真核对，不得有误
2.保持答题卡的清洁和完整，不得折叠
3.选择题用2B铅笔填涂，修改用橡皮擦净
正确填涂  缺诊标记 []



扫一扫
查成绩

准考证号				
[0]	[0]	[0]	[0]	[0]
[1]	[1]	[1]	[1]	[1]
[2]	[2]	[2]	[2]	[2]
[3]	[3]	[3]	[3]	[3]
[4]	[4]	[4]	[4]	[4]
[5]	[5]	[5]	[5]	[5]
[6]	[6]	[6]	[6]	[6]
[7]	[7]	[7]	[7]	[7]
[8]	[8]	[8]	[8]	[8]
[9]	[9]	[9]	[9]	[9]

一、竖式计算（18分）

1 （18 分）

1.用竖式计算下面各题，带★的要验算。

★621÷3=

★785÷6=

68×25=

21×34=

二、脱式计算(共12分)

2 （12 分）

(125+139)÷3

800 - 570÷6

62×（270 - 228）

248÷2÷4

三、填空题(30分)

3 （30 分）

1、 $\frac{3}{5}$ 的分母是（ ），分子是（ ），读作（ ），十六分之七写作（ ）

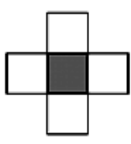
2、



（ ）



（ ）



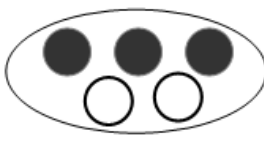
（ ）



（ ）



（ ）



（ ）

3、把一张长方形纸，对折后再展开，这张纸被平均分成了（ ）份，每一份占这张纸的（ ）。如果把这张纸对折2次，这张纸被平均分成了（ ）份，每一份占这张纸的（ ）。（折一折）

4、我们班有学生（ ）个，男生有（ ）个，女生有（ ）个，男生占全班人数的（ ），女生占全班人数的（ ）。

5、把15个苹果平均分成5份，每份（ ）个，每份占总数的（ ），2份占总数的（ ）。

6、草地上有5只小鸡和4只小鸭，小鸡占这些小动物的（ ），后来有一只小鸭离开了，这时小鸭的只数占这群小动物的（ ）。

7、80平方米=（ ）平方分米 7000平方厘米=（ ）平方分米

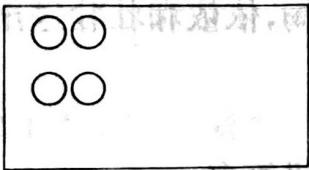
8、正方形的边长扩大3倍，周长扩大（ ）倍，面积扩大（ ）倍。（举例）

9、一个长方形花坛的面积是45平方米，宽是3米，这个花坛的长是（ ）米，周长是（ ）米。

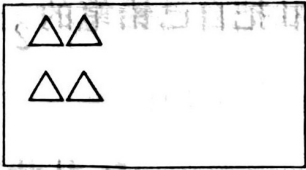
四、操作题(共13分)

1 （6 分）


1、根据分数和已画出的图形，把各图补充完整。



○占总数的 $\frac{1}{3}$



△占总数的 $\frac{2}{9}$



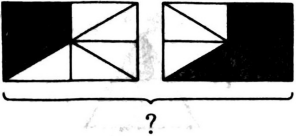
□占总数的 $\frac{2}{3}$

续

2 (7 分)

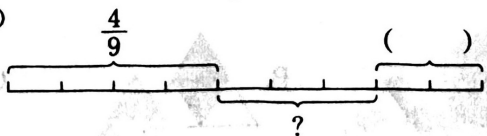
2、 看图列式计算。

(1)



?


(2)

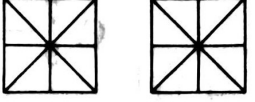



()

?

3、 涂一涂， 比一比。







$\frac{1}{4} \bigcirc \frac{1}{3}$

$\frac{5}{8} \bigcirc \frac{3}{8}$

$\frac{5}{6} \bigcirc \frac{4}{6}$

五、解决问题(共27分)

1 (6 分)

1、 王老师给同学们一张长32厘米， 宽15厘米的长方形彩纸， 最多可以剪成多少张边长是2厘米的正方形彩纸？（画图分析）

2 (6 分)

2、 一个正方形的周长是16分米， 它的面积是多少平方分米？


数学


第3页（共4页）

续

3 (10 分)

3、 一个房间长60分米， 宽30分米， 要铺上方砖， 选哪种方砖便宜？ 需要这种方砖多少块？ 大方砖每块8元， 小方砖每块4元。





4 (5 分)

4、 亚洲大陆和欧洲大陆合称亚欧大陆， 其中亚洲人口约占世界人口的 $\frac{6}{10}$ ， 欧洲人口约占世界人口的 $\frac{1}{10}$ ，
(1) 亚欧大陆的人口约占世界人口的几分之几？

(2) 亚洲人口比欧洲人口约多占世界人口的几分之几？

数学

第4页（共4页）