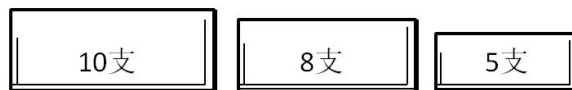


一年级数学第4周素养挑战

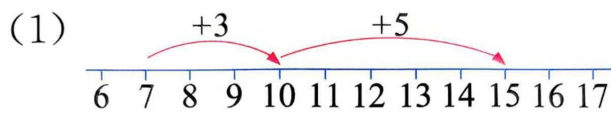
班级：_____ 姓名：_____ 学号：_____

一、一（3）班有3位老师、7名男同学和8名女同学。给每名学生一支铅笔，买哪两盒最合适？圈一圈。

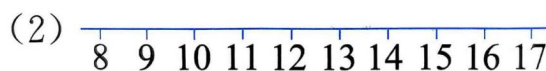


列式：_____

二、照样子，画一画，填一填。



$$7+8=\square+\square+\square=\square$$



$$9+6=\square+\square+\square=\square$$

三、小明参加套圈游戏，如果他扔中两次，两次的得分都不同，那么他最多得多少分？最少得多少分？



最多： $\square \bigcirc \square = \square$

最少： $\square \bigcirc \square = \square$

四、按要求填一填。

1、 \square 里最大可以填几？

$$\square+3<18$$

$$\square+6<14$$

$$13-\square>7$$

$$\square-4<11$$

2、方框里最小可以填几？

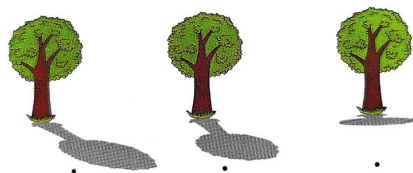
$$\square+8>13$$

$$7+\square>11$$

$$16-\square<12$$

$$\square-5>9$$

五、根据下面的影子，选择合适的时间，连一连。（可以用手电筒模拟太阳试一试哦！）

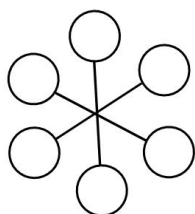


中午12:00

早上8:00

上午10:00

六、（1）把6, 7, 8, 9, 10, 11这六个数分别填入○中，使每条线上的两个数的和相等。



（2）把3, 4, 5, 6, 7, 8, 9这七个数分别填入○中，使每条线上的三个数的和相等。

