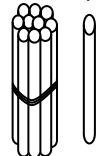


一年级第一周周末练习题

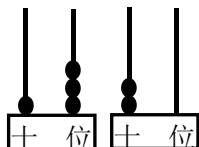
班级_____姓名_____家长签字_____

一、填空。

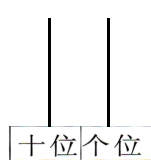
(1) 写一写，画一画



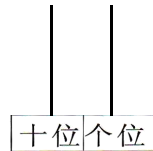
()



() ()



15



17

(2) 1个十和6个一，合起来是()。

(3) 个位上是3，十位上是1，这个数是()。

(4) () 12、14、() () ()。 19、() 17、18、()、()。

(5) 14的个位上是()，表示()个()

十位上是()，表示()个()

(6) 与18相邻的两个数是()和()。

(7) 比19多1的数是()，比20少1的数是()。

(8) 在○里填上“>”“<”“=”。

$$15 \bigcirc 17$$

$$18 \bigcirc 19$$

$$14 \bigcirc 10+4$$

$$13 \bigcirc 9$$

$$16 \bigcirc 9$$

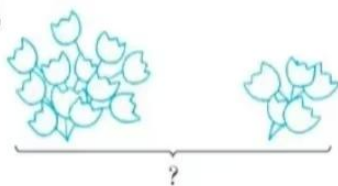
$$10+2 \bigcirc 13$$

(9) 一个两位数，从右边起第一位是()位，第二位是()位。

(10) 比11大，比16小的数有()，共()个。

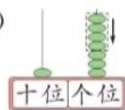
(11) 看图列式计算。

(1)



$$\square \bigcirc \square = \square$$

(2)



$$\square \bigcirc \square = \square$$

二、小朋友排队，小明从前面数排第10，从后面数排第3，这一队一共有多少人？

(画图并列式解答哈！)