

一年级数学第 11 周素养挑战

班级_____姓名_____ 家长签字_____

一、填空。

1、计数器上，从右边数起第一位有 6 颗珠子，第二位有 4 颗珠子，这个数是（ ）。

2、最大的两位数是（ ），和它相邻的两个数是（ ）和（ ）。

3、一个数在 70-80 之间，并且个位上的数字比十位上的数字大 2，这个数是（ ）。

4、个位是 5 的所有两位数有（ ）。

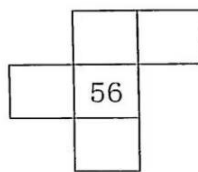
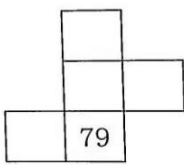
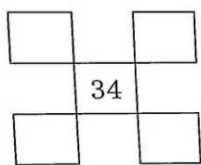
5、苹果和梨子共有 18 个，苹果比梨子少，苹果最多有（ ）个。

6、接着数。

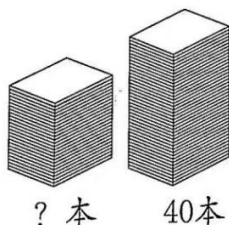
(1) 87、88、（ ）、（ ）、（ ） (2) 46、44、（ ）、40、（ ）、（ ）

(3) 90、85、（ ）、（ ）、70、（ ） (3) 23、（ ）、43、（ ）、（ ）、73

7、根据百数表填数。



8、下面左边这一摞可能有多少本？



| | | |
|------|------|------|
| 25 本 | 10 本 | 38 本 |
| | | |

二、解决问题。

1、剪纸艺术是最古老的中国民间艺术之一，妈妈准备做 15 件剪纸，每天一件，一周后还剩多少件没做？

2、有一些水果，笑笑吃了一半后还剩 9 个，原来有多少个水果？

3、明明在计算一个数加 4 时，错看成了一个数加 9，这样得到的结果是 17，那么正确结果是多少？