

题号	一	二	三	四	五	总评	等级
评价							

xì xīn tián kòng

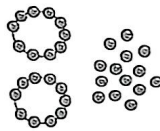
一、细心填空。(每空1分,共37分)

1. (教材改编) 看图写数、读数。



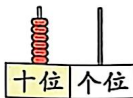
写作:()

读作:()



写作:()

读作:()



写作:()

读作:()

2. 7个一和6个十组成的数是(),它比70少()。

3. 最小的三位数是(),最大的两位数是(),它们的差是()。

4. 在计数器上用8个珠子表示两位数,最大的是(),最小的是()。

5. 找规律,填一填。

(1) 16, 18, (), (), 24, ()。 (2) 79, (), 75, (), 71。

6. 猜猜我是多少。

我比12大6。

()

我加30得51。

()

我减26得53。

()

80比我大20。

()

7. 在○里填上“>”“<”或“=”。

45 ○ 48

12-7 ○ 12-8

24+5 ○ 30

42+20 ○ 65-3

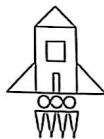
32 ○ 69-7

10+20 ○ 40-10

3+7 ○ 2+9

70+8 ○ 89-5

8. 数一数。



正方形有()个 长方形有()个

三角形有()个 圆有()个

9. 丁丁收集了13张卡片,红红收集了35张卡片,丁丁至少再收集()

张卡片才能超过红红。

10. 60元可以买下面()和()两种物品。(填序号)



41元



35元



24元

jīng xīn xuǎn zé

二、精心选择。(把正确答案的序号填在括号里。每题1分,共5分)

1. 离69最近的两个数是()。

①70, 71

②67, 68

③68, 70

2. $37 > 30 + \bigcirc$, \bigcirc 里最大能填()。

①6

②7

③8

3. (新情境·传统文化)《西游记》中,孙悟空会72般变化,猪八戒会的比孙

悟空少得多,猪八戒会()般变化。

①69

②92

③36

4. 下面说法正确的是()。

①两个一样的三角形一定能拼成三角形

②今年哥哥14岁,弟弟9岁,10年后哥哥比弟弟大5岁

③53里的“3”与39里的“3”意义相同

5. (新趋势·思维探究)河边原来有23只蜻蜓,飞走了15只。列式 $23-15$ 表

示()。

①飞走的蜻蜓数

②一共的蜻蜓数

③还剩的蜻蜓数

zī xì jì suàn
三、仔细计算。(共16分)

1. 直接写得数。(8分)

$11-9=$	$9+5=$	$15-7=$	$68-50=$
$35+3=$	$72+5=$	$34-10=$	$47-2=$
$10+50=$	$80-10=$	$19-7=$	$3+9=$
$40+14=$	$57-20=$	$48-16=$	$13+21=$

2. 列竖式计算。(8分)

$14+55=$	$76-62=$	$64+13=$	$89-40=$
----------	----------	----------	----------

àn yāo qiú zuò yī zuò
四、按要求做一做。(共11分)

1. 连一连。(5分)

93-12

27+20

47-3

4+55

40+13

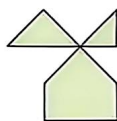
得数比50大

得数比50小

2. 下图中有几个这样的 ? 用虚线把它们画出来。(6分)



()个



()个

jiě jué wèn tí
五、解决问题。(共31分)

1. (新情境·传统文化)“苏绣”是我国四大名绣之一。

鸟绣扇比花绣扇多30把,鸟绣扇有多少把?(3分)



花绣扇



鸟绣扇

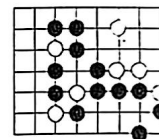
56把

2. (教材改编)盒子里原来有26支彩笔,小朋友们拿走一些后,还剩3支,小朋友们拿走了多少支彩笔?(4分)

3. (新情境·生活运用)徐爷爷写了58副对联,幸福小区有45扇单元门,每扇单元门贴一副,还剩几副?(4分)

4. (名校期末真题)右图棋盘上有白子()颗,黑子()颗。

(1)白子和黑子一共有多少颗?(4分)



(2)白子比黑子(多 少)几颗?(圈出正确的字并解答)(4分)

5. (名校期末真题)

集邮张数记录表

姓名	刘立	张月	李平	王强
张数	96张	74张	86张	100张
名次				

(1)把他们的名次排出来,填在表中。(2分)

(2)最多的集了()张,最少的集了()张。(2分)

(3)第四名再集多少张,就和第三名同样多了?(4分)

(4)请你再提出一个数学问题,并解答。(4分)