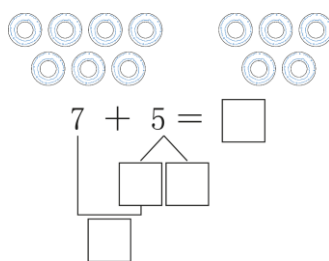
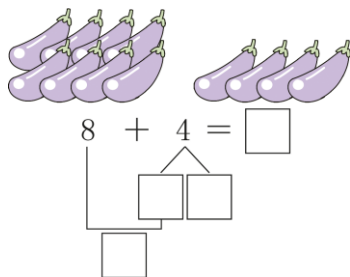


# 一年级数学第3周素养挑战

班级：\_\_\_\_\_ 姓名：\_\_\_\_\_ 等级：\_\_\_\_\_

## 一、圈一圈，填一填



## 二、照样子填一填

$$8 + 3 = \begin{cases} 7 + 4 \\ \square + \square \\ \square + \square \end{cases}$$

$$7 + 8 = \begin{cases} 9 + 6 \\ \square + \square \\ \square + \square \end{cases}$$

$$9 + 5 = \begin{cases} 6 + 8 \\ \square + \square \\ \square + \square \end{cases}$$

## 三、填空

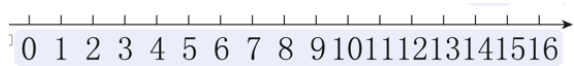
- 1、17 8 4 9 12 3

- (1) 上面一共有( )个数。从左数，第5个数是( )，从右数，第( )个数是9。  
 (2) 12是由( )个一和( )个十组成的，去掉( )个一就是最小的两位数。  
 (3) 第一个数是17，第( )个数和第( )个数合起来是17。与17相邻的数( )和( )

## 2、加倍与一半


6  $\xrightarrow{\text{加倍}}$  ( ) ( )  $\xrightarrow{\text{加倍}}$  20 ( )  $\xrightarrow{\text{一半}}$  5 18  $\xrightarrow{\text{一半}}$  ( )

## 3、用两种方式画一画 7+6



- 4、(1) 买了一个文具盒和一本笔记本，一共用了多少元？

$$\square \bigcirc \square = \square (\text{元})$$



- (2) 买了两种学习用品，最多用了多少元？

$$\square \bigcirc \square = \square (\text{元})$$