


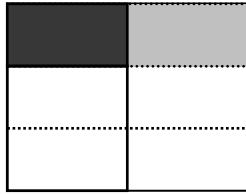

五年级数学第 6 周素养挑战

班级：_____ 姓名：_____ 等级：_____

1、看图写算式，根据算式画图。

$$(\quad) \times (\quad) = (\quad)$$

$$\frac{3}{4} \times \frac{1}{4} = (\quad)$$



2. 简便计算。

$$51\frac{2}{3} \times \frac{3}{5} + 69\frac{1}{8} \times \frac{4}{7}$$

$$\frac{1}{5} \times 27 + \frac{3}{5} \times 41$$

$$\left(\frac{2}{15} + \frac{3}{17}\right) \times 15 \times 17$$

3、一件商品 100 元，先涨价 $\frac{1}{10}$ ，再降价 $\frac{1}{10}$ ，现在的价格是多少元？

实践操作：用卡纸做一个棱长 1 分米的正方体（第四单元学习体积单位时要用哦！）