

棠外附小三上第 (16) 数学知识点与易错点练习

班级_____姓名_____家长签字_____

一. 直接写出得数。

$70 \times 5 =$ $450 \div 9 =$ $76 \times 5 =$ $630 \div 7 =$ $114 - 66 =$

$28 \times 3 =$ $800 \div 4 =$ $4.5 + 2.3 =$ $960 \div 6 =$ $7.8 - 3.2 =$

二、竖式计算。+

$749 + 236 - 187 =$ $900 - 567 + 133 =$ $876 - 678 + 234 =$

三、脱式计算。

$45 + 55 \div 5$ $48 \div 3 \times 6$ $201 \times 6 + 144$ $28 + 9 \times 8$

四、填空题。

1、单位换算：50 厘米 = () 分米 7 米 = () 分米 400 厘米 = () 米
7 千米 = () 米 7 米 23 分米 = () 分米 7 米 23 厘米 = () 厘米

2、比大小：5.6 元 \bigcirc 6 元 15 元 \bigcirc 1 角 $16 \times 5 \bigcirc 5 \times 16$ $24 \times 5 \bigcirc 25 \times 4$
7 元 6 角 \bigcirc 7.06 元 9.9 米 \bigcirc 10 米 2 日 \bigcirc 36 小时 9.78 元 \bigcirc 9 元 7 角 8 分

3、洋洋在计算 $70 \times (\triangle + 8)$ 时丢掉了小括号，写成了 $70 \times \triangle + 8$ 。错误的结果与正确的结果相差了 ()。

4、淘气的身高是 1 米 20 厘米，教室门高 2 米，小明比门矮 () 厘米。

5、把下面两道算式合并成一道算式。

$35 - 28 = 7$ $70 \div 7 = 10$ 合成的综合算式是 ()。

6、你会用下面的这四张扑克牌上的数算“24 点”吗？请写出你思考出的算式 (2 分)



算式: _____

7、科学社团要求学生调制一杯符合自己口味的果汁，如右图，

一共有 () 种不同的调配方法。

算式: _____

温度

正常冰

少冰


水果(限选一种)


草莓


水蜜桃

石榴

8、小飞机卖 24.83 元, 表示()元()角()分。这个小数读作: ()。

9、 小红跳远跳了 1 米 8 分米 6 厘米, 等于 () 米。

 海龟的长度是 80 厘米, 等于 () 米。

 一串项链长 4 分米, 等于 () 米。

四、解决问题。

1、算一算, 填一填。每筒乒乓球多少元?

	单价	数量	总价
足 球	75 元	2 个	213 元
乒乓球		3 筒	

2、




春节时, 我们一家要从成都开车到攀枝花看望爷爷奶奶。右图是成都到攀枝花的高速公路示意图。



	里程/千米
成都——西昌	435
成都——米易	554
成都——攀枝花	631

①、爸爸开车从成都出发, 到西昌服务区后吃饭休息, 此时离攀枝花还有多少千米? 画一画, 算一算。

②、服务区吃饭, 爸爸一共付了 172 元, 请你算一算, 每根烤肠多少元?

餐费明细	
4根烤肠:	
4份套餐:	128元

3、一本书共 310 页, 笑笑看了 8 天还剩下 70 页, 笑笑平均每天看多少页?



思考题: 用 3 个长为 3 厘米宽为 2 厘米的小长方形拼成一个大长方形, 拼成的大长方形的长是多少厘米? 宽是多少厘米? (请你画图并标出长和宽, 想一想有几种情况呢)