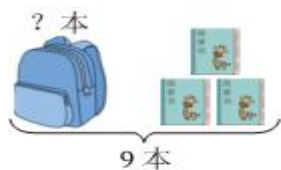



棠外附小一年级数学第16周易错练习

班级_____姓名_____

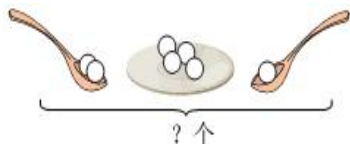
一、看图列式计算



$$\square \bigcirc \square = \square \text{ (本)}$$



$$\square \bigcirc \square = \square \text{ (只)}$$

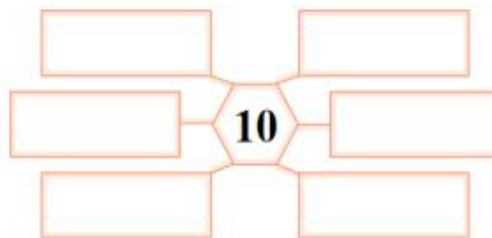
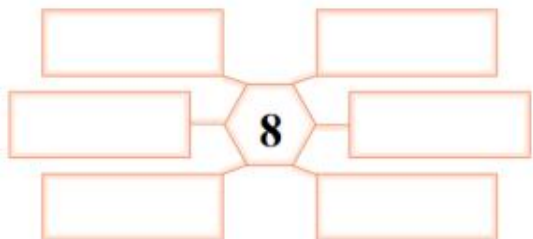


$$\square \bigcirc \square \bigcirc \square = \square \text{ (个)}$$

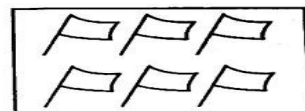

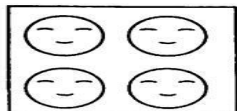


$$\square \bigcirc \square \bigcirc \square = \square \text{ (颗)}$$

二、填上加法算式，使它们的得数等于图案中间的数



三、商店里有下面三种贴纸，笑笑买了其中的两种。



(1) 笑笑最少买了多少张贴纸？

$$\square \bigcirc \square = \square$$

(2) 笑笑最多买了多少张贴纸？


$$\square \bigcirc \square = \square$$

四、一共有多少只小熊？（小朋友，可以先画一画，再算一算哦）

$$\square \bigcirc \square \bigcirc \square = \square \text{ (只)}$$

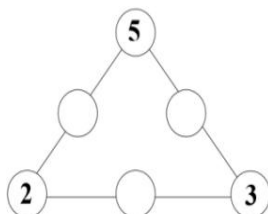
答：一共有_____只小熊。

画一画：



我爱动脑筋！

(1) 在○里填上合适的数，使每条边三个数相加的和是 10。



(2) 把 1, 2, 3, 5, 6 分别填入○里，使每条线上三个数相加的得数都相等。

