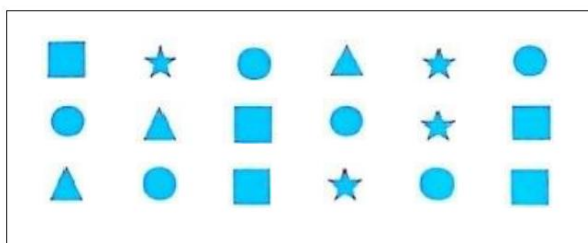


# 棠外附小第7周易错题练习

班级\_\_\_\_\_ 姓名\_\_\_\_\_ 家长签字\_\_\_\_\_

1. 数一数，圈一圈，比一比。




( ) 最多, ( ) 最少。

▲比■ (多, 少)  ○

●比★ (多, 少)  ○



2. 看图写算式。



$$\square + \square = \square$$

$$\square + \square = \square$$

3. 画一画，再画几个●就是7个？请你接着画一画。




4. 按顺序填数。

0	2				10
---	---	--	--	--	----

9		5		1
---	--	---	--	---

5. 明明选下面哪两盘正好可以得到5个苹果？一共有几种选法？用算式表示出来。



算式:

\_\_\_\_\_  
\_\_\_\_\_

一共有( )种选法。