

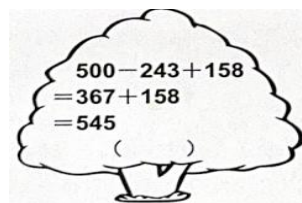

棠外附小三上第（13）周数学知识点与易错点练习

班级_____姓名_____家长签字_____

一、快速计算。

$$\begin{array}{llll} 68+97= & 100+89= & 671-507= & 89-(20+29)= \\ 300-104= & 456-156= & 820+180= & (123-42) \div 9 = \end{array}$$

二、森林医生。(对的画“√”，错的画“×”，并改正。)



三、填一填。

1、在计算 $197+201+403$ 时，我们可以先估算为()+()+()=(),这时，估算的结果比实际的结果()。(填“大”或“小”)

2、在○里填上“>”、“<”或“=”，

$$960-96 \bigcirc 690-69$$

$$467-231-158 \bigcirc 467-(231+158)$$

$$1000-638 \bigcirc 999-638+1$$

$$398-(108+217) \bigcirc 398-108+217$$

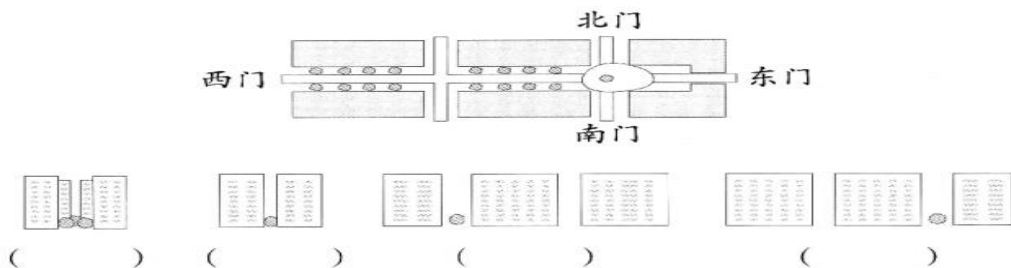
3、妙想看一本 400 页的故事书，第一天看了 125 页，第二天看了 145 页，第三天应该从()页看起。

4、把一个正方形对折后，会得到两个完全一样的()形或()形。

5、长 18 cm、宽 6cm 的长方形，可以分成边长为 6cm 的正方形()个。

6、时针从 3 走到 6，经过的时间是()，时针前后形成的夹角是()角；分针从 12 走到 5，经过的时间是()，分针前后形成的夹角是()角。

7、下图是在空中看到的花园小区。淘气从东、南、西、北四个门各拍了一张照片，认真观察，下面四张照片各是从哪个门拍摄的?填一填。

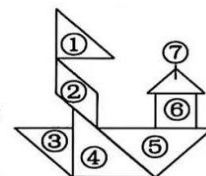


8、右面是聪聪拼的一个图形。

(1)②号图形中有 2 个()角和 2 个()角。

(2)()号图形是正方形，它的四条边()，四个角都是()角。

(3)④号和⑤号组成的图形一共有()个角。在这些角中标出一个锐角记为 $\angle 1$ 、一个直



角记为 $\angle 2$ 、一个钝角记为 $\angle 3$ 。

9、下图中的两根铁丝分别围成正方形和长方形，虚线处为分割线。



() 围成的是正方形，() 围成的是长方形。(填序号)

10、要搭配成一套衣服(上衣和裤子各 1 件)，有()种不同的搭配方法。



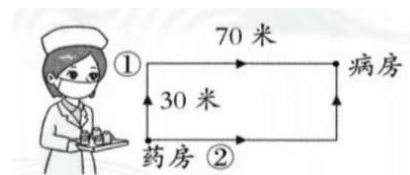
三、解决问题。

1、出租车司机李叔叔周一早晨出车时，里程表的读数是 80 千米。他记录了一周内每天晚上里程表的读数。


	周一	周二	周三	周四	周五	周六	周日
里程/千米	288	380	537	537	720	824	987

- (1) 李叔叔这周一共行驶了()千米。
- (2) $824-380$ 求的是周()到周()行驶的里程。
- (3) 李叔叔车的里程表读数周三和周四相同，猜猜可能是什么原因？

2、护士阿姨要去病房送药，有两条路可以走(如图)，那一条路近一点，要走多少米？说明理由。

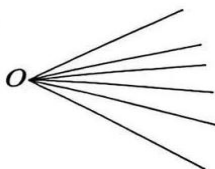


3、将一张边长为 16 厘米的正方形纸折成两个完全一样的长方形，每个长方形的长和宽各是多少厘米？请在正方形纸上画一画。



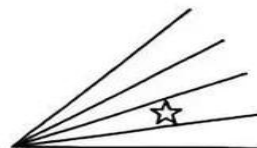
四、动脑思考。

(1)



有()个角

(2)



有()个带☆的角