

棠外附小三上第（2）数学知识点与易错点练习

班级_____姓名_____家长签字_____

一、口算。

$9 \times 7 =$ $35 \div 5 =$ $8 \times 9 =$ $45 \div 9 =$ $6 \times 7 =$ $42 \div 7 =$ $7 \times 9 =$
 $25 + 75 =$ $3 + 36 =$ $100 - 55 =$ $72 + 18 =$ $100 - 86 =$ $65 + 35 =$ $88 - 19 =$

二、填空题。

- 1、在一个算式里，有加减法，又有乘除法，应该先算（ ）法，再算（ ）法。
2、一个数减去 15 得 48，这个数是（ ），再用这个数除以 9 商是（ ）。
3、4 个 3 相加是（ ），再加上 58，和是（ ）。
4、3 的 5 倍与 18 的和是（ ）。
5、有 6 排座位，每排坐了 5 个人，现在又来了 4 个人，一共有（ ）人。

三、脱式计算。

$20 + 7 \times 4$ $42 \div 6 + 7$ $72 \div (27 - 18)$

 $50 - 20 \div 4$ $60 - 18 + 28$ $(36 + 18) \div 9$

四、在○里填上“>”“<”或者“=”。


$5 \times 6 - 3 \bigcirc 6 \times 4 - 3$ $35 + 3 \times 4 \bigcirc 8 + 4 \times 4$ $27 - 3 \times 8 \bigcirc 12 + 6 \times 2$
 $6 \times 3 + 8 \bigcirc 15 + 9 \times 3$ $6 \times 4 + 3 \bigcirc 6 \times (4 + 3)$ $80 - 7 \times 6 \bigcirc 68 - 9 \times 7$

五、把下面两个算式合并为一个算式。

1、 $6 \times 3 = 18$ $18 + 25 = 43$ 2、 $4 \times 8 = 32$ $7 + 32 = 39$
_____ _____
3、 $48 \div 8 = 6$ $50 - 6 = 44$ 4、 $9 \times 9 = 81$ $81 - 11 = 70$
_____ _____
5、 $20 + 43 = 63$ $63 \div 7 = 9$ 6、 $12 - 5 = 7$ $63 \div 7 = 9$
_____ _____

六、算一算。

篮球




每个5元

飞机




每架10元

汽车



每辆30元

坦克



每辆8元

1. 小明有45元钱，要帮同学们买3个篮球，应找回多少钱？
2. 用买一架飞机和一辆小汽车的钱买坦克，可以买几辆？
3. 请你再提一个两步计算的数学问题并正确解答。

七、动脑筋，会思考。

1. 有20个苹果，吃了2个，把剩下的每6个放入一盘，可以放几盘？
2. 小马虎在计算 $36 \div (6 + \triangle)$ 时，算成了 $36 \div 6 + \triangle = 9$ ，正确答案是多少？（列式解答）
3. 在一个○里填上“ \times ”，在另一个○里填上“ $+$ ”或“ $-$ ”，在□里填上合适的数，使等式成立。

$$5 \bigcirc \square \bigcirc \square = 21$$

$$5 \bigcirc \square \bigcirc \square = 21$$