

棠外附小三上第（12）周数学知识点与易错点练习

班级_____姓名_____家长签字_____

一、口算。

$9 \times 7 =$

$100 - 81 =$

$54 \div 9 =$

$0 \times 7 =$

$7 \times 6 - 20 =$

$9 - 3 \times 3 =$

$18 - 0 \div 9 =$

$42 + 5 \times 6 =$

$8 \times 3 \div 4 =$

$7 \times (5 + 3) =$

$(30 + 15) \div 5 =$

$63 \div 7 + 91 =$

二、填空题。

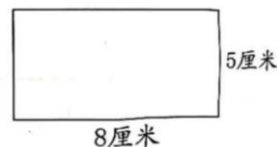
1. 比 567 大 128 的数是（ ）；323 比（ ）大 126。

2. 三年级学生准备为清洁工发放 950 瓶矿泉水，上午发了 469 瓶，下午发了 374 瓶，共发放了（ ）瓶矿泉水，还剩（ ）瓶。

3. 游泳馆上午来了 364 人，中午有 178 人离开，又来了 180 人，这时游泳馆有（ ）人。

4. 游泳池的泳道长 25 米，淘气游了两个来回，共游了（ ）米。

5. 在图中画出一个最大的正方形，则这个正方形的边长是（ ）厘米，剩下的图形是一个长方形，这个长方形的长是（ ）厘米，宽是（ ）厘米。



三、用横线画出先算的部分，再计脱式计算。

$45 + 15 \div 5$

$95 - 4 \times 9$

$(82 - 46) \div 4$

$32 \div (2 + 6)$

$156 + (474 - 283)$


$1000 - 465 - 332$

$859 - (162 + 88)$


$900 - 281 - 436$

四、实践与操作

1. 在下面方格纸中画一个边长为 3 厘米的正方形和一个长 5 厘米，宽 3 厘米的长方形。（每一个小格的边长表示 1 厘米）



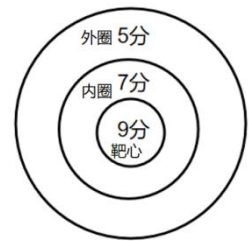
2. 下面哪幅图是机灵狗从窗外看到的？画“√”



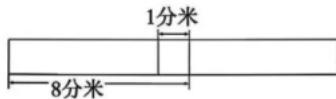
五、解决问题

1、一只烧鹅 36 元, 一箱鸡蛋比烧鹅少 12 元, 妈妈买了 1 只烧鹅和 1 箱鸡蛋, 共需要多少元?

2、游乐场中, 投中外圈、内圈和靶心分别获得不同的分数, 脱靶得 0 分。淘气共得了 41 分, 他投中了一次外圈, 其余全中靶心。他投中了几次靶心?



3、兰兰为了装饰房间, 将两条 8 分米长的彩带粘在一起, 中间重叠部分长 1 分米, 如图, 粘好后的彩带长多少分米? (4 分)



六、动脑筋

张叔叔养的山羊和绵羊一共有 30 只, 其中山羊的只数比绵羊的 2 倍多 6 只。张叔叔养的山羊和绵羊各有多少只? (先画线段图, 再解答)