

## 第9周知识要点与易错题练习

班级\_\_\_\_\_ 姓名\_\_\_\_\_ 学号\_\_\_\_\_

### 一、竖式计算。

$15 \times 308 =$

$204 \times 56 =$

$360 \times 80 =$

$139 \times 21 =$

### 二、填空。

1、360340000 是( )位数,它的最高位是( )位,从左边起第一个“3”在( )位上,表示3个( ),第二个“3”在( )位上,它的计数单位是( )。

2、( )中最大可以填几: 1( )  $6950 \approx 190000$ , 59( )  $7590009 \approx 59$  亿

3. 把下面几个分步式改写成综合算式:  $810 - 190 = 791$      $791 \times 2 = 1582$      $1582 + 216 = 1798$

---

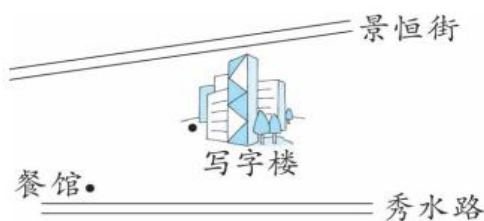
4、 $101 \times 96$  的积是( )位数,  $320 \times 25$  的积的末尾有( )个0。

5、赵刚在做一道计算题时,把  $85 \times (\square + 4)$  错写成了  $85 \times \square + 4$ , 这样他得到的结果与正确结果相差( )。

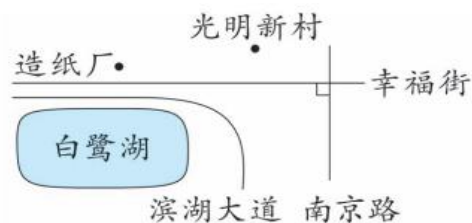
### 三、按要求画一画。

1、(1) 张明是一位外卖骑手,今天他在餐馆取餐后,要将外卖送到写字楼。请帮他选一条最近的路,并在图中画出来。

(2) 景恒街和秀水路上各要修建一个地铁口。为方便在写字楼上班的人们地铁口准备修建在离写字楼最近的地方。请你在图中画出地铁口的位置。



第(1)题图



第(2)题图

2、上图(右)是光明街区的示意图。


(1) 江海路经过光明新村,且与幸福街平行。请在图中画一画,并标出路名。

(2) 江海路与南京路互相( )。

(3)造纸厂要新建一条管道从白鹭湖取水,取水口设在哪个位置时管道最短?在图上画一画。  
这样设计的依据是( )。

四、解决问题：

1、钟面上时针和分针的夹角会随着时间的变化而变化。如下图所示,3时整,时针和分针形成直角;9时整,时针和分针也形成直角。请你结合生活经验写一写,钟表在哪些整点时,时针和分针的夹角会出现度数相等的情况?继续记录在下表中。



时间	夹角度数	夹角类型
3时和9时	90°	直角

2、春节前,爸爸、妈妈带曲米乘火车从北京出发去哈尔滨的奶奶家过年。下面是他们乘坐的火车的一些信息。请你选择合适的信息回答问题。

- ①从北京到哈尔滨的铁路全长约 1400 千米。  
 ②火车平均每时约行驶 104 千米,平均每秒约行驶 29 米。  
 ③火车中午 12:25 从北京站出发,当天晚上 8:45 到达沈阳北站。  
 ④火车全长 408 米,有 11 节硬座车厢,每节硬座车厢有 112 个座位。  
 ⑤火车硬座成人票每张约 156 元,儿童票半价。

(1)火车出发 11 时后,到了哪个车站附近? 在图上用▲标出来。



(2)估一估这列火车的硬座车厢能否容纳 1100 名乘客。(车厢无站票)

选择信息：\_\_\_\_\_

(3)火车通过一条隧道时,从车头进入隧道到车尾离开隧道共用了 110 秒。

隧道长约多少米? 选择信息：\_\_\_\_\_