

棠外附小二二年级数学第16周素养提升

班级：_____ 姓名：_____ 学号：_____

一、填一填。

1. 轴对称图形沿一条直线对折后，两边能（ ），这条直线叫（ ）。

2. 电梯上下运动是（ ）现象，风车转动是（ ）现象。

3. 下面哪些图形通过平移可以互相重合？（ ）与（ ）



①



②



③



④



⑤

（ ）与（ ）



⑥



⑦



⑧



⑨



⑩

（ ）与（ ）


（ ）与（ ）

4. 填一填。

(1) 要吃到 ，需要先向下走（ ）格，

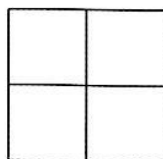



再向（ ）走（ ）格，就能吃到 了。

(2) 熊猫吃饱后，要去和 玩，它可以先向（ ）走（ ）格，再向（ ）走（ ）格。



二、智慧屋。

1. 按照图形的变化规律在空白处画上合适的图形。



2. 下面这些汉字都是从对折的纸上剪下来的，你能猜出这些字吗？

日

巾

古

匡

月

（ ） （ ） （ ） （ ） （ ）

3. 下面剪纸图形中，（ ）的两边完全一样。（填序号）



①



②



③



④



⑤



⑥



⑦

口算练习

$6 \times 7 =$

$5 \times 5 =$

$8 \times 6 =$

$4 \times 9 =$

$36 \div 6 =$

$15 \div 3 =$

$32 \div 4 =$

$54 \div 6 =$

$6 \times () = 54$

$3 \times () = 21$

$56 \div () = 8$

$54 \div () = 9$

$() \times 4 = 16$

$5 \times () = 40$

$42 \div () = 7$

$36 \div () = 6$

$() \times 3 = 27$

$6 \times () = 48$

$24 \div () = 8$

$28 \div () = 7$

$37 + 57 =$

$100 - 36 =$

$73 - 37 =$

三、实践作业：图形总动员。

1. 图形侦察兵：观察并记录生活中的这些物体并写下来。

①平移的物体：_____（例如：抽屉）

②旋转的物体：_____（例如：中标指针）

2. 对称魔法师：小朋友们，你们能用彩纸剪出神奇的“轴对称图形”吗？把你特别的作品贴在下面空白处吧。（提示：可对折2/3次再剪，可以贴成一幅画，也可以是单独的作品。

