

## 棠外附小二二年级数学第10周素养提升


班级：\_\_\_\_\_ 姓名：\_\_\_\_\_ 学号：\_\_\_\_\_

### 一、填一填。


- 3个7相加的和是（ ），3和7相加的和是（ ）。
- $6 \times 4$ 可以表示（ ）个（ ）相加，写成加法算式是（ ），  
也可以表示（ ）个（ ）相加，写成加法算式是（ ）。
- 在 $5+5+5+5$ 中，相同的加数是（ ），相同加数的个数是（ ），  
把它改写成乘法算式是（ ）。
- 把乘法口诀补充完整。  
（ ）四十六      三（ ）十五      四（ ）三十六  
五（ ）三十五      （ ）九二十七      （ ）九四十五
- $3 \times 8 + 8 = ( ) \times 8$        $6 \times 4 - 4 = ( ) \times 4$        $9 \times 5 - 2 \times 5 = ( ) \times 5$

### 二、解决问题。

(1)一共有多少个气球？



(2)一共有多少个桃子？

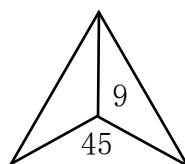
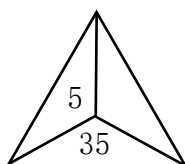
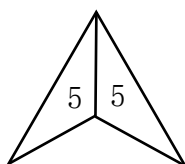
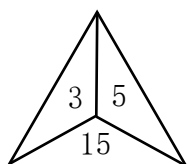




2. (1)  $\triangle + \triangle = 16$  (2)  $\circ + \circ + \circ = 27$  (3)  $\text{😊} + \text{😊} + \text{😊} + \text{😊} = 32$



$\triangle = ( )$        $\circ = ( )$

$\text{😊} = ( )$

3. 找规律，填一填。



3. 一个  可以换3个  , 1个  可以换8颗  ,

1个  可以换几颗  ? (要求: 请用图表示出你的思考过程)

画图:

算式:

### 口算训练

$2 \times 6 =$

$3 \times 4 =$

$4 \times 7 =$

$9 \times 5 =$

$5 \times 7 =$

$4 \times 8 =$

$7 \times 3 =$

$9 \times 4 =$

$5 \times 8 =$

$6 \times 5 =$

$4 \times 2 =$

$8 \times 3 =$

$6 \times 4 =$

$8 \times 2 =$

$5 \times 4 =$

$2 \times 5 =$

$7 \times 2 =$

$2 \times 8 =$

$6 \times 3 =$

$4 \times 4 =$

$3 \times 3 =$

$1 \times 5 =$

$3 \times 2 =$

$3 \times 9 =$

$2 \times 2 =$

$5 \times 5 =$

$63 - 29 =$

$35 + 28 =$

$90 - 13 =$