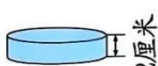
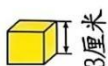
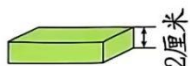


棠外附小二二年级数学第8周素养提升

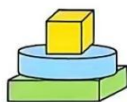
班级：_____ 姓名：_____ 学号：_____

一、 填空。

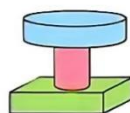
1、由下面积木搭成的图形分别高几厘米？填一填。



() 厘米



() 厘米



() 厘米

2、连一连：



3×4
 3 个 4
 $4 + 4 + 4$
 $3 + 3 + 3 + 3$
 4×3
 $3 + 4$
 4 个 3



3. 填一填，并用“○”画出下面算式表示的意思。

6×3 { 画图：_____, 表示 () 个 () 相加。
 画图：_____, 表示 () 个 () 相加。

4、▲的个数是●的4倍：

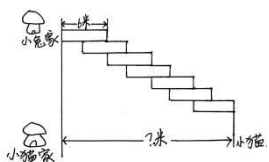


二、解决问题。

1、把一根木头锯成6段，每锯一次要用4分钟，锯完一根木头要用多少分钟？
(画图)

3. 智慧屋。

小猫离家还有多少米？（每块方砖的长度相等）



口算训练

$$24+76 =$$

$$40+44 =$$

$$94-40 =$$

$$63-36 =$$

$$98-17 =$$

$$9 \times 3 =$$

$$5 \times 8 =$$

$$3+3=\square \times \square$$

$$12+69=$$

$$76-27=$$

$$95-59=$$

$$36+37=$$

$$100-27=$$

$$53+29=$$

$$56-29=$$