

数学期中练习题

_____班 姓名_____ 得分_____

一、填空题。（每空 1 分，共 30 分，第 6 题 5 分）

1、与 39 相邻的数是（ ）和（ ）。

2、95 是（ ）位数，9 在（ ）位，表示（ ）个（ ），5 在（ ）位，表示（ ）个（ ）。

3、最大的两位数是（ ），最大的一位数是（ ），最大的两位数比最大的一位数多（ ）。

4、78 里面有（ ）个一和（ ）个十；10 个十是（ ）；100 里面有（ ）一；（ ）个十和（ ）个一组成 59。

5、按规律填数。

①15、（ ）、35、（ ）、（ ）。

③15、（ ）、（ ）、（ ）、35、（ ）

6、用 5、1、8、四个数字组成的两位数有（ ），其中最大的是（ ），最小的是（ ）。

二、计算题。（每空 1 分，共 16 分）

$12-6=$

$15-9=$

$5+8=$

$14-9=$

$11-3=$

$4+9=$

$13-7=$

$7+6=$

$12-()=6$

$4+()=13$

$15-()=8$

$10+()=10$

$()-5=12$

$11-()=7$

$12+()=15$

$14-()=8$

三、在○里填上“> < ” 或 “=” （ ）里最大能填几（10 分）

$15-8 \bigcirc 9$

$12-4 \bigcirc 9$

$7+6 \bigcirc 15$

$13-6 \bigcirc 7$

$12-5\bigcirc6$

$18-9\bigcirc7$

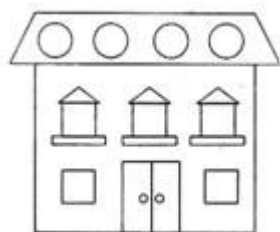
$5+8\bigcirc11$

$16-7\bigcirc9$

$11-(\quad)>8$

$(\quad)+7<12$

四、认真数一数。(8分)



三角形有()个

正方形有()个

长方形有()个

圆有()个

五、连一连。(每空2分，共8分)



六、选择合适的数(每空2分，共4分)



我有34个苹果。



我的苹果比喜羊羊少一些。



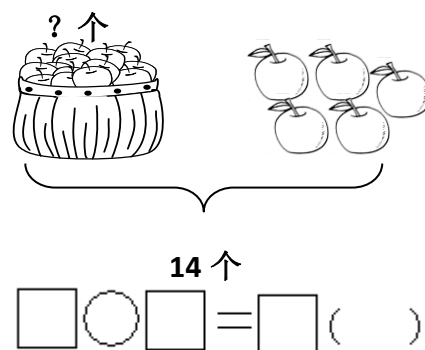
我的苹果比喜羊羊多得多。

懒羊羊可能有多少个苹果?(画“√”)美羊羊可能有多少个苹果?(画“○”)

23	35	90	54

六、解决问题。(24 分)

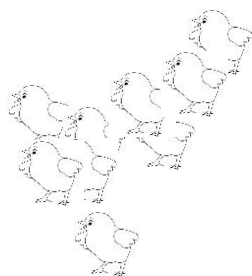
1、飞走了多少只小鸟?




2、《少年百科全书》共有 18 页，芳芳已经看了 9 页，还有几页没有看?(3 分)

$$\square \bigcirc \square = \square ()$$


3



小鸡有 17 只



鹅有 5 只



鸭有 9 只

请你提出两个减法问题，一个加法问题，并列式计算。

(1) _____ ?

$$\square \bigcirc \square = \square ()$$

(2) _____ ?

$$\square \bigcirc \square = \square ()$$

(3) _____ ?


$$\square \bigcirc \square = \square ()$$

附加题：（共 20 分）

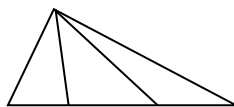
1、（4 分） $\bigcirc + \bigcirc = 12$ $\bigcirc + \triangle + \triangle = 14$

$\triangle = (\quad)$ $\bigcirc = (\quad)$

2、数一数，填一填（4分）



长方形有（ ）个



三角形有（ ）个

3、画一画。（8 分）

（1）摆 2 个 \triangle ，最少用几根小棒？（ ）

画一画：

（2）摆 4 个 \square ，最少用几根小棒？（ ）

画一画：

4、（4 分）乐乐有 16 张卡片，送给笑笑 6 张后，两人的卡片张数就一样多了。笑笑原来有（ ）张卡片。（画一画）